



Haryana Staff Selection Commission

Notations :

1. Options shown in **green** color and with  icon are correct.
2. Options shown in **red** color and with  icon are incorrect.

Subject Name:	CAT 7 Senior Scale Stenographer English CBT Exam
Total Marks:	200
Display Marks:	Yes
Calculator:	None
Magnifying Glass Required?:	No
Ruler Required?:	No
Eraser Required?:	No
Scratch Pad Required?:	No
Rough Sketch/Notepad Required?:	No
Protractor Required?:	No

CAT 7 Senior Scale Stenographer English CBT Exam

Group Marks: 200





CAT 7 Senior Scale Stenographer English CBT Exam

Section Marks:	200
Display Number Panel:	Yes
Group All Questions:	No

Question Number : 1 Question Id : 260269201 Display Question Number : Yes Single Line Question Option : No Option Orientation : Vertical

Who among the following leaders succeeded as the Prime Minister of Punjab after the death of Sikandar Hayat Khan?

Options :

1.  Feroz Khan Noon
2.  Fazl-i-Hussain
3.  Malik Sir Khizar Hayat Tiwana
4.  Lala Harkishan Lal

Question Number : 1 Question Id : 260269201 Display Question Number : Yes Single Line Question Option : No Option Orientation : Vertical

सिकंदर हयात खान की मृत्यु के बाद निम्नलिखित में से कौन-सा नेता पंजाब के प्रधानमंत्री के रूप में सफल हुआ था?

Options :

1. ✘ फिरोज खान नून
2. ✘ फजल-ए-हुसैन
3. ✔ मलिक सर खिज़ार हयात तिवाना
4. ✘ लाला हरकिशन लाल

Question Number : 2 Question Id : 260269202 Display Question Number : Yes Single Line Question Option : No Option Orientation : Vertical

Chhotu Ram signed the Bhakra Dam agreement along with the:

Options :

1. ✔ King of Bilaspur
2. ✘ King of Mandi
3. ✘ King of Kangra
4. ✘ King of Suket

Question Number : 2 Question Id : 260269202 Display Question Number : Yes Single Line Question Option : No Option Orientation : Vertical

छोटू राम ने भाखड़ा बांध समझौते पर किसके साथ हस्ताक्षर किए थे?

Options :

1. ✔ बिलासपुर के राजा
2. ✘ मंडी के राजा
3. ✘ कांगड़ा के राजा
4. ✘ सुकेत के राजा

Question Number : 3 Question Id : 260269203 Display Question Number : Yes Single Line Question Option : No Option Orientation : Vertical

Who among the following was the benefactor of Chhotu Ram?

Options :

1. ✘ Ch. Lal Chand
2. ✘ Lala Harkishan Lal
3. ✘ Lala Manohar Lal
4. ✔ Seth Chhaju Ram

Question Number : 3 Question Id : 260269203 Display Question Number : Yes Single Line Question Option : No Option Orientation : Vertical

निम्नलिखित में से कौन छोटू राम के उपकारी थे?

Options :

1. ✘ चौधरी लाल चंद
2. ✘ लाला हरकिशन लाल
3. ✘ लाला मनोहर लाल
4. ✔ सेठ छज्जू राम

Question Number : 4 Question Id : 260269204 Display Question Number : Yes Single Line Question Option : No Option Orientation : Vertical

Who among the following participated in the Non-Cooperation Movement of 1920?

Options :

1. ✘ Chaudhary Bansi Lal
2. ✘ Chaudhary Devi Lal
3. ✘ Chaudhary Sahib Ram
4. ✔ Pandit Shri Ram Sharma

Question Number : 4 Question Id : 260269204 Display Question Number : Yes Single Line Question Option : No Option Orientation : Vertical

निम्नलिखित में से किसने 1920 के असहयोग आंदोलन में भाग लिया था?

Options :

1. ✘ चौधरी बंसी लाल

2. ✘ चौधरी देवी लाल
3. ✘ चौधरी साहिब राम
4. ✔ पंडित श्री राम शर्मा

Question Number : 5 Question Id : 260269205 Display Question Number : Yes Single Line Question Option : No Option Orientation : Vertical

An Open Defecation Free (ODF) village in the Mewat (Nuh) district of Haryana was named after which of the following foreign dignitaries which gave rise to a controversy?

Options :

1. ✔ Donald Trump
2. ✘ Bill Gates
3. ✘ Shinzo Abe
4. ✘ David Cameroon

Question Number : 5 Question Id : 260269205 Display Question Number : Yes Single Line Question Option : No Option Orientation : Vertical

हरियाणा के मेवात (नूह) जिले के खुले में शौच से मुक्त (ओडीएफ) गांव का नाम निम्नलिखित विदेशी गणमान्य व्यक्तियों में से किसके नाम से रखा गया था, जिससे विवाद उत्पन्न हो गया था?

Options :

1. ✔ डोनाल्ड ट्रम्प
2. ✘ बिल गेट्स
3. ✘ शिंजो आबे
4. ✘ डेविड कैमरून

Question Number : 6 Question Id : 260269206 Display Question Number : Yes Single Line Question Option : No Option Orientation : Vertical

The Haryana Government has decided to set up an ornamental fish hatchery in the _____ district of Haryana.

Options :

1. ✘ Karnal
2. ✘ Sonipat

3. ✓ Jhajjar

4. ✗ Faridabad

Question Number : 6 Question Id : 260269206 Display Question Number : Yes Single Line Question Option : No Option Orientation : Vertical

हरियाणा सरकार ने हरियाणा के _____ जिले में एक रंगबिरंगी मछली पालन केंद्र (अर्नामेंटल फिश हैचरी) स्थापित करने का निर्णय लिया है।

Options :

1. ✗ करनाल

2. ✗ सोनीपत

3. ✓ झज्जर

4. ✗ फरीदाबाद

Question Number : 7 Question Id : 260269207 Display Question Number : Yes Single Line Question Option : No Option Orientation : Vertical

Which of the following parties is the current (as of October 2017) ruling party of Haryana?

Options :

1. ✗ CPI(M)

2. ✓ BJP

3. ✗ Congress

4. ✗ AAP

Question Number : 7 Question Id : 260269207 Display Question Number : Yes Single Line Question Option : No Option Orientation : Vertical

निम्नलिखित पार्टियों में से कौन सी (अक्टूबर 2017 को प्रमाण मानते हुए) हरियाणा की सत्ताधारी पार्टी है?

Options :

1. ✗ सीपीआई (एम)

2. ✓ बीजेपी

3. ✗ कांग्रेस

4. ✘ आप

Question Number : 8 Question Id : 260269208 Display Question Number : Yes Single Line Question Option : No Option Orientation : Vertical

In the financial year 2016-17, the contribution of the tertiary sector to Gross State Value Added (GSVA) in Haryana was approximately:

Options :

1. ✔ 51.7%
2. ✘ 10.1%
3. ✘ 79.3%
4. ✘ 33.8%

Question Number : 8 Question Id : 260269208 Display Question Number : Yes Single Line Question Option : No Option Orientation : Vertical

वित्तीय वर्ष 2016-17 में, हरियाणा में सकल राज्य मूल्य वर्धन (जीएसवीए) में तृतीयक क्षेत्र का योगदान लगभग कितना था?

Options :

1. ✔ 51.7%
2. ✘ 10.1%
3. ✘ 79.3%
4. ✘ 33.8%

Question Number : 9 Question Id : 260269209 Display Question Number : Yes Single Line Question Option : No Option Orientation : Vertical

The book 'Phool Aur Kante' is written by:

Options :

1. ✔ Roop Narayan Chandana
2. ✘ S. R. Kidwai
3. ✘ Anis-ul-Hasan Siddiqui
4. ✘ Parveen Sethi

Question Number : 9 Question Id : 260269209 Display Question Number : Yes Single Line Question Option : No Option Orientation : Vertical

पुस्तक 'फूल और कांटे' इन्होंने लिखी है:

Options :

1. ✓ रूप नारायण चंदाणा
2. ✗ एस. आर. किदवई
3. ✗ अनिस-उल-हसन-सिद्दीकी
4. ✗ प्रवीण सेठी

Question Number : 10 Question Id : 260269210 Display Question Number : Yes Single Line Question Option : No Option Orientation : Vertical

Who among the following is the writer of drama book "Chetna"?

Options :

1. ✗ Keshav Chandra Wadhavan
2. ✓ Madanlal Sharma
3. ✗ Ashok Verma
4. ✗ Anant Sharma 'Anant'

Question Number : 10 Question Id : 260269210 Display Question Number : Yes Single Line Question Option : No Option Orientation : Vertical

निम्नलिखित में से नाट्य पुस्तक "चेतना" के लेखक कौन हैं?

Options :

1. ✗ केशव चंद्र वधावन
2. ✓ मदनलाल शर्मा
3. ✗ अशोक वर्मा
4. ✗ अनंत शर्मा 'अनंत'

Question Number : 11 Question Id : 260269211 Display Question Number : Yes Single Line Question Option : No Option Orientation : Vertical

Who among the following is the author of the storybook "Dosh Kiska Tha"?

Options :

1. ✘ Sudha Jain
2. ✔ Sudarshan Ratnakar
3. ✘ Rohit Yadav
4. ✘ Sanjay Jain

Question Number : 11 Question Id : 260269211 Display Question Number : Yes Single Line Question Option : No Option Orientation : Vertical

निम्नलिखित में से कहानी की पुस्तक "दोष किसका था" के लेखक कौन हैं?

Options :

1. ✘ सुधा जैन
2. ✔ सुदर्शन रत्नाकर
3. ✘ रोहित यादव
4. ✘ संजय जैन

Question Number : 12 Question Id : 260269212 Display Question Number : Yes Single Line Question Option : No Option Orientation : Vertical

The district of Panipat falls in the _____ division.

Options :

1. ✔ Karnal
2. ✘ Rohtak
3. ✘ Gurugram
4. ✘ Ambala

Question Number : 12 Question Id : 260269212 Display Question Number : Yes Single Line Question Option : No Option Orientation : Vertical

पानीपत जिला _____ डिवीजन में आता है।

Options :

1. ✔ करनाल

2. ✘ रोहतक

3. ✘ गुरुग्राम

4. ✘ अंबाला

Question Number : 13 Question Id : 260269213 Display Question Number : Yes Single Line Question Option : No Option Orientation : Vertical

National Highway 71A runs between:

Options :

1. ✘ Ambala and Pali

2. ✘ Ambala and Haridwar

3. ✘ Pinjore and Swarghat

4. ✔ Rothak and Panipat

Question Number : 13 Question Id : 260269213 Display Question Number : Yes Single Line Question Option : No Option Orientation : Vertical

राष्ट्रीय राजमार्ग 71A किन शहरों को जोड़ता है?

Options :

1. ✘ अंबाला और पाली

2. ✘ अंबाला और हरिद्वार

3. ✘ पिंजौर और स्वरघाट

4. ✔ रोहतक और पानीपत

Question Number : 14 Question Id : 260269214 Display Question Number : Yes Single Line Question Option : No Option Orientation : Vertical

Which city was designed by the French architect Le Corbusier?

Options :

1. ✘ Gurugram

2. ✔ Chandigarh

3. ✘ Sonipat

4. ✘ Faridabad

Question Number : 14 Question Id : 260269214 Display Question Number : Yes Single Line Question Option : No Option Orientation : Vertical

फ्रांसीसी वास्तुकार ले कोर्बुसीयर द्वारा कौन से शहर को डिजाइन किया गया था?

Options :

1. ✘ गुरुग्राम

2. ✔ चंडीगढ़

3. ✘ सोनीपत

4. ✘ फरीदाबाद

Question Number : 15 Question Id : 260269215 Display Question Number : Yes Single Line Question Option : No Option Orientation : Vertical

In the 2009 Haryana Lok Sabha Elections how many seats were won by the Indian National Congress?

Options :

1. ✘ 6

2. ✘ 7

3. ✘ 8

4. ✔ 9

Question Number : 15 Question Id : 260269215 Display Question Number : Yes Single Line Question Option : No Option Orientation : Vertical

2009 के लोकसभा चुनावों में हरियाणा में भारतीय राष्ट्रीय कांग्रेस ने कितनी सीटें जीती थीं?

Options :

1. ✘ 6

2. ✘ 7

3. ✘ 8

4. ✔ 9

Question Number : 16 Question Id : 260269216 Display Question Number : Yes Single Line Question Option : No Option Orientation : Vertical

Who was the Governor of Haryana from 27/07/2009 to 26/07/2014?

Options :

1. ✘ H.A. Brar
2. ✔ Jagannath Pahadia
3. ✘ Mahavir Prasad
4. ✘ Babu Parmanand

Question Number : 16 Question Id : 260269216 Display Question Number : Yes Single Line Question Option : No Option Orientation : Vertical

27/07/2009 से 26/07/2014 तक हरियाणा के गवर्नर कौन थे?

Options :

1. ✘ एच.ए बरार
2. ✔ जगन्नाथ पहाड़िया
3. ✘ महावीर प्रसाद
4. ✘ बाबू परमानन्द

Question Number : 17 Question Id : 260269217 Display Question Number : Yes Single Line Question Option : No Option Orientation : Vertical

In all, there are _____ gram panchayats in Haryana.

Options :

1. ✘ 6,005
2. ✘ 6,046
3. ✔ 6,083
4. ✘ 6,095

Question Number : 17 Question Id : 260269217 Display Question Number : Yes Single Line Question Option : No Option Orientation : Vertical

कुल मिलाकर हरियाणा में _____ ग्राम पंचायतें हैं।

Options :

1. ✘ 6,005
2. ✘ 6,046
3. ✔ 6,083
4. ✘ 6,095

Question Number : 18 Question Id : 260269218 Display Question Number : Yes Single Line Question Option : No Option Orientation : Vertical

Which of the following is not a parliamentary constituency of Haryana?

Options :

1. ✘ Hisar
2. ✘ Ambala
3. ✘ Faridabad
4. ✔ Panipat

Question Number : 18 Question Id : 260269218 Display Question Number : Yes Single Line Question Option : No Option Orientation : Vertical

निम्नलिखित में से कौन-सा क्षेत्र हरियाणा के संसदीय क्षेत्र में नहीं है?

Options :

1. ✘ हिसार
2. ✘ अंबाला
3. ✘ फरीदाबाद
4. ✔ पानीपत

Question Number : 19 Question Id : 260269219 Display Question Number : Yes Single Line Question Option : No Option Orientation : Vertical

Haryana State Biodiversity Board was established in the year _____.

Options :

1. ✔ 2006
2. ✘ 2005

3. ✘ 2007

4. ✘ 2008

Question Number : 19 Question Id : 260269219 Display Question Number : Yes Single Line Question Option : No Option Orientation : Vertical

हरियाणा राज्य जैव विविधता बोर्ड की स्थापना वर्ष _____ में हुई थी।

Options :

1. ✔ 2006

2. ✘ 2005

3. ✘ 2007

4. ✘ 2008

Question Number : 20 Question Id : 260269220 Display Question Number : Yes Single Line Question Option : No Option Orientation : Vertical

According to the assessment done by the Rashtriya Barh Ayog (National Flood Commission) and as reported by states to the 11th plan working group, the flood-prone area in Haryana is around _____ lakh hectares.

Options :

1. ✔ 23.50

2. ✘ 18.25

3. ✘ 26.00

4. ✘ 28.50

Question Number : 20 Question Id : 260269220 Display Question Number : Yes Single Line Question Option : No Option Orientation : Vertical

राष्ट्रीय बाढ़ आयोग (नेशनल फ्लड कमीशन) द्वारा किए गए मूल्यांकन तथा राज्यों द्वारा 11वीं योजना कार्य समूह को दी गई रिपोर्ट के अनुसार, हरियाणा में बाढ़ प्रवण क्षेत्र _____ लाख हेक्टेयर के आसपास है।

Options :

1. ✔ 23.50

2. ✘ 18.25

3. ✘ 26.00

4. ✘ 28.50

Question Number : 21 Question Id : 260269221 Display Question Number : Yes Single Line Question Option : No Option Orientation : Vertical

Select the INCORRECT option among the following.

According to National Disaster Management Authority, significant geographical area in Haryana is severely affected with the problems of _____.

Options :

1. ✔ irrigation projects
2. ✘ erosion
3. ✘ alkalinity
4. ✘ water logging

Question Number : 21 Question Id : 260269221 Display Question Number : Yes Single Line Question Option : No Option Orientation : Vertical

निम्नलिखित में से गलत विकल्प का चयन करें।

राष्ट्रीय आपदा प्रबंधन प्राधिकरण के अनुसार, हरियाणा में महत्वपूर्ण भौगोलिक क्षेत्र _____ की समस्याओं से गंभीर रूप से प्रभावित है।

Options :

1. ✔ सिंचाई परियोजनाओं
2. ✘ कटाव
3. ✘ क्षारीयता
4. ✘ जल भराव

Question Number : 22 Question Id : 260269222 Display Question Number : Yes Single Line Question Option : No Option Orientation : Vertical

The Tomb of Khawaja Pir is believed to have been built in the memory of Khawaja Abdul Shankar. This tomb is situated in:

Options :

1. ✔ Sirsa
2. ✘ Kurukshetra

3. ✘ Panipat

4. ✘ Faridabad

Question Number : 22 Question Id : 260269222 Display Question Number : Yes Single Line Question Option : No Option Orientation : Vertical

यह माना जाता है कि ख्वाजा पीर का मकबरा ख्वाजा अब्दुल शंकर की याद में बनाया गया है। यह मकबरा _____ में स्थित है।

Options :

1. ✔ सिरसा

2. ✘ कुरुक्षेत्र

3. ✘ पानीपत

4. ✘ फरीदाबाद

Question Number : 23 Question Id : 260269223 Display Question Number : Yes Single Line Question Option : No Option Orientation : Vertical

The Sri Krishna Museum in Kurukshetra was established in the year:

Options :

1. ✘ 1985

2. ✔ 1987

3. ✘ 1990

4. ✘ 1993

Question Number : 23 Question Id : 260269223 Display Question Number : Yes Single Line Question Option : No Option Orientation : Vertical

कुरुक्षेत्र में श्री कृष्ण संग्रहालय किस वर्ष स्थापित किया गया था?

Options :

1. ✘ 1985

2. ✔ 1987

3. ✘ 1990

4. ✘ 1993

Question Number : 24 Question Id : 260269224 Display Question Number : Yes Single Line Question Option : No Option Orientation : Vertical

The Urusvati Museum of Folklore is located in:

Options :

1. ✘ Faridabad

2. ✘ Panipat

3. ✘ Bhiwani

4. ✔ Gurugram

Question Number : 24 Question Id : 260269224 Display Question Number : Yes Single Line Question Option : No Option Orientation : Vertical

लोककथाओं का उरुस्वती संग्रहालय कहाँ पर स्थित है?

Options :

1. ✘ फरीदाबाद

2. ✘ पानीपत

3. ✘ भिवानी

4. ✔ गुरुग्राम

Question Number : 25 Question Id : 260269225 Display Question Number : Yes Single Line Question Option : No Option Orientation : Vertical

The Pathri Mata ka Mela is organised in Panipat for a period of:

Options :

1. ✘ 15 days

2. ✔ 30 days

3. ✘ 7 days

4. ✘ 10 days

Question Number : 25 Question Id : 260269225 Display Question Number : Yes Single Line Question Option : No Option Orientation : Vertical

पानीपत में पथरी माता का मेला कितने दिनों के लिए आयोजित किया जाता है?

Options :

1. ✘ 15 दिन
2. ✔ 30 दिन
3. ✘ 7 दिन
4. ✘ 10 दिन

Question Number : 26 Question Id : 260269226 Display Question Number : Yes Single Line Question Option : No Option Orientation : Vertical

The short form arbitrator is _____.

Options :

1. ✔ Downward 'r' and 'tr' doubled
2. ✘ Upward 'r' and 'tr' doubled
3. ✘ Downward 'r' and 'tr' stroke
4. ✘ Upward 'r' and 'tr' stroke

Question Number : 26 Question Id : 260269226 Display Question Number : Yes Single Line Question Option : No Option Orientation : Vertical

The short form arbitrator is _____.

Options :

1. ✔ Downward 'r' and 'tr' doubled
2. ✘ Upward 'r' and 'tr' doubled
3. ✘ Downward 'r' and 'tr' stroke
4. ✘ Upward 'r' and 'tr' stroke

Question Number : 27 Question Id : 260269227 Display Question Number : Yes Single Line Question Option : No Option Orientation : Vertical

When a good joining is obtained, the _____ hook shun is used in the middle of a word.

Options :

1. Large
2. Small
3. Medium
4. Double

Question Number : 27 Question Id : 260269227 Display Question Number : Yes Single Line Question Option : No Option Orientation : Vertical

When a good joining is obtained, the _____ hook shun is used in the middle of a word.

Options :

1. Large
2. Small
3. Medium
4. Double

Question Number : 28 Question Id : 260269228 Display Question Number : Yes Single Line Question Option : No Option Orientation : Vertical

The short form "he" is used _____ a phrase.

Options :

1. In the middle of
2. At the end of
3. In the beginning of
4. Below

Question Number : 28 Question Id : 260269228 Display Question Number : Yes Single Line Question Option : No Option Orientation : Vertical

The short form "he" is used _____ a phrase.

Options :

1. In the middle of
2. At the end of

3. ✘ In the beginning of

4. ✘ Below

Question Number : 29 Question Id : 260269229 Display Question Number : Yes Single Line Question Option : No Option Orientation : Vertical

A short 'o' is represented by a light dash and is a _____ place vowel.

Options :

1. ✔ First

2. ✘ Third

3. ✘ Second

4. ✘ Fourth

Question Number : 29 Question Id : 260269229 Display Question Number : Yes Single Line Question Option : No Option Orientation : Vertical

A short 'o' is represented by a light dash and is a _____ place vowel.

Options :

1. ✔ First

2. ✘ Third

3. ✘ Second

4. ✘ Fourth

Question Number : 30 Question Id : 260269230 Display Question Number : Yes Single Line Question Option : No Option Orientation : Vertical

A horizontal stroke, in a 3rd place vowel is written _____ the line.

Options :

1. ✔ On

2. ✘ Through

3. ✘ Below

4. ✘ Above

Question Number : 30 Question Id : 260269230 Display Question Number : Yes Single Line Question Option : No Option Orientation : Vertical

A horizontal stroke, in a 3rd place vowel is written _____ the line.

Options :

1. On
2. Through
3. Below
4. Above

Question Number : 31 Question Id : 260269231 Display Question Number : Yes Single Line Question Option : No Option Orientation : Vertical

Upward "r" is used before _____.

Options :

1. b
2. m
3. th
4. d

Question Number : 31 Question Id : 260269231 Display Question Number : Yes Single Line Question Option : No Option Orientation : Vertical

Upward "r" is used before _____.

Options :

1. b
2. m
3. th
4. d

Question Number : 32 Question Id : 260269232 Display Question Number : Yes Single Line Question Option : No Option Orientation : Vertical

The word "boiler" is written with a _____ r.

Options :

1. Medieval

2. ✘ Upward
3. ✘ Horizontal
4. ✔ Downward

Question Number : 32 Question Id : 260269232 Display Question Number : Yes Single Line Question Option : No Option Orientation : Vertical

The word “boiler” is written with a _____ r.

Options :

1. ✘ Medieval
2. ✘ Upward
3. ✘ Horizontal
4. ✔ Downward

Question Number : 33 Question Id : 260269233 Display Question Number : Yes Single Line Question Option : No Option Orientation : Vertical

The stroke ‘nl’ is a large _____ hook.

Options :

1. ✔ Initial
2. ✘ Final
3. ✘ Medieval
4. ✘ Upward

Question Number : 33 Question Id : 260269233 Display Question Number : Yes Single Line Question Option : No Option Orientation : Vertical

The stroke ‘nl’ is a large _____ hook.

Options :

1. ✔ Initial
2. ✘ Final
3. ✘ Medieval

4. ✘ Upward

Question Number : 34 Question Id : 260269234 Display Question Number : Yes Single Line Question Option : No Option Orientation : Vertical

“Thursday” is written with a/an _____ thr.

Options :

1. ✘ Horizontal

2. ✘ Reversed

3. ✘ Vertical

4. ✔ Original

Question Number : 34 Question Id : 260269234 Display Question Number : Yes Single Line Question Option : No Option Orientation : Vertical

“Thursday” is written with a/an _____ thr.

Options :

1. ✘ Horizontal

2. ✘ Reversed

3. ✘ Vertical

4. ✔ Original

Question Number : 35 Question Id : 260269235 Display Question Number : Yes Single Line Question Option : No Option Orientation : Vertical

“S” Shun curl is written on the _____ side of straight horizontal strokes.

Options :

1. ✔ Upper

2. ✘ Below

3. ✘ Before

4. ✘ After

Question Number : 35 Question Id : 260269235 Display Question Number : Yes Single Line Question Option : No Option Orientation : Vertical

“S” Shun curl is written on the _____ side of straight horizontal strokes.

Options :

1. ✓ Upper
2. ✗ Below
3. ✗ Before
4. ✗ After

Question Number : 36 Question Id : 260269236 Display Question Number : Yes Single Line Question Option : No Option Orientation : Vertical

Vowel "a" is represented by a heavy dot and is a ____ place vowel.

Options :

1. ✗ 1st
2. ✓ 2nd
3. ✗ 3rd
4. ✗ 4th

Question Number : 36 Question Id : 260269236 Display Question Number : Yes Single Line Question Option : No Option Orientation : Vertical

Vowel "a" is represented by a heavy dot and is a ____ place vowel.

Options :

1. ✗ 1st
2. ✓ 2nd
3. ✗ 3rd
4. ✗ 4th

Question Number : 37 Question Id : 260269237 Display Question Number : Yes Single Line Question Option : No Option Orientation : Vertical

Mortgage is represented by _____ above the line.

Options :

1. ✓ Mr-g

2. ✘ Mr-j

3. ✘ Mr-k

4. ✘ Mr-t

Question Number : 37 Question Id : 260269237 Display Question Number : Yes Single Line Question Option : No Option Orientation : Vertical

Mortgage is represented by _____ above the line.

Options :

1. ✔ Mr-g

2. ✘ Mr-j

3. ✘ Mr-k

4. ✘ Mr-t

Question Number : 38 Question Id : 260269238 Display Question Number : Yes Single Line Question Option : No Option Orientation : Vertical

A left _____ represents 'w' followed by a dot vowel in words like hardware.

Options :

1. ✘ Large circle

2. ✘ Angle

3. ✔ Semi-circle

4. ✘ Tiny-circle

Question Number : 38 Question Id : 260269238 Display Question Number : Yes Single Line Question Option : No Option Orientation : Vertical

A left _____ represents 'w' followed by a dot vowel in words like hardware.

Options :

1. ✘ Large circle

2. ✘ Angle

3. ✔ Semi-circle

4. ✘ Tiny-circle

Question Number : 39 Question Id : 260269239 Display Question Number : Yes Single Line Question Option : No Option Orientation : Vertical

The word 'pies' is written with a _____.

Options :

1. ✘ Z stroke

2. ✔ S circle

3. ✘ Z circle

4. ✘ Ses circle

Question Number : 39 Question Id : 260269239 Display Question Number : Yes Single Line Question Option : No Option Orientation : Vertical

The word 'pies' is written with a _____.

Options :

1. ✘ Z stroke

2. ✔ S circle

3. ✘ Z circle

4. ✘ Ses circle

Question Number : 40 Question Id : 260269240 Display Question Number : Yes Single Line Question Option : No Option Orientation : Vertical

A/an _____ intersection is used to write 'bill'.

Options :

1. ✘ L

2. ✘ Bl

3. ✘ I

4. ✔ B

Question Number : 40 Question Id : 260269240 Display Question Number : Yes Single Line Question Option : No Option Orientation : Vertical


A/an _____ intersection is used to write 'bill'.

Options :

- 1. ✘ L
- 2. ✘ Bl
- 3. ✘ I
- 4. ✔ B

Question Number : 41 Question Id : 260269241 Display Question Number : Yes Single Line Question Option : No Option Orientation : Vertical

Pick the odd one out.





- A
- B
- C
- D

Options :

- 1. ✘ A
- 2. ✘ B
- 3. ✔ C
- 4. ✘ D

Question Number : 41 Question Id : 260269241 Display Question Number : Yes Single Line Question Option : No Option Orientation : Vertical

Pick the odd one out.



Options :

1. ✘ A


2. ✘ B

3. ✔ C

4. ✘ D

Question Number : 42 Question Id : 260269242 Display Question Number : Yes Single Line Question Option : No Option Orientation : Vertical

Select the right word from the options given below to fill in the blank.



Options :

1. ✘ A

2. ✘ B

3. ✔ C

4. ✘ D

Question Number : 42 Question Id : 260269242 Display Question Number : Yes Single Line Question Option : No Option Orientation : Vertical

Select the right word from the options given below to fill in the blank.



A _____

B _____

C _____

D _____

Options :

1. ✘ A


2. ✘ B

3. ✔ C

4. ✘ D

Question Number : 43 Question Id : 260269243 Display Question Number : Yes Single Line Question Option : No Option Orientation : Vertical

Select the right word from the options given below to fill in the blank.



Options :

1. ✓ A


2. ✗ B

3. ✗ C

4. ✗ D

Question Number : 44 Question Id : 260269244 Display Question Number : Yes Single Line Question Option : No Option Orientation : Vertical

Select the right word from the options given below to fill in the blank.








Options :

1. ✓ A
2. ✗ B
3. ✗ C
4. ✗ D

Question Number : 45 Question Id : 260269245 Display Question Number : Yes Single Line Question Option : No Option Orientation : Vertical

Select the right word from the options given below to fill in the blank.



- A 
- B 
- C 
- D 

Options :

1. ✘ They have
2. ✔ applied the Ministry
3. ✘ to build
4. ✘ on this land

Question Number : 46 Question Id : 260269246 Display Question Number : Yes Single Line Question Option : No Option Orientation : Vertical

In the following sentence, four words or phrases have been underlined. One of them is incorrect. Choose the INCORRECT word or phrase from the given options.

They have applied the Ministry for permission to build a factory on this land.

Options :

1. ✘ They have
2. ✔ applied the Ministry
3. ✘ to build
4. ✘ on this land

Question Number : 47 Question Id : 260269247 Display Question Number : Yes Single Line Question Option : No Option Orientation : Vertical

In the following sentence, four words or phrases have been underlined. One of them is incorrect. Choose the INCORRECT word or phrase from the given options.

Switzerland is one of the richest country in the world, despite its lack of resources.

Options :

1. ✘ one of the
2. ✔ country
3. ✘ despite
4. ✘ lack of resources

Question Number : 47 Question Id : 260269247 Display Question Number : Yes Single Line Question Option : No Option Orientation : Vertical

In the following sentence, four words or phrases have been underlined. One of them is incorrect. Choose the INCORRECT word or phrase from the given options.

Switzerland is one of the richest country in the world, despite its lack of resources.

Options :

1. ✘ one of the
2. ✔ country
3. ✘ despite
4. ✘ lack of resources

Question Number : 48 Question Id : 260269248 Display Question Number : Yes Single Line Question Option : No Option Orientation : Vertical

In the following sentence, four words or phrases have been underlined. One of them is incorrect. Choose the INCORRECT word or phrase from the given options.

The book must be old for its cover is torn bad.

Options :

1. ✘ must be
2. ✘ for
3. ✘ is torn
4. ✔ bad

Question Number : 48 Question Id : 260269248 Display Question Number : Yes Single Line Question Option : No Option Orientation : Vertical

In the following sentence, four words or phrases have been underlined. One of them is incorrect. Choose the INCORRECT word or phrase from the given options.

The book must be old for its cover is torn bad.

Options :

1. ✘ must be
2. ✘ for
3. ✘ is torn
4. ✔ bad

Question Number : 49 Question Id : 260269249 Display Question Number : Yes Single Line Question Option : No Option Orientation : Vertical

Find the most appropriate synonym of the given word.

Industrious

Options :

1. ✘ reserved
2. ✘ clever
3. ✔ hard working
4. ✘ intelligent

Question Number : 49 Question Id : 260269249 Display Question Number : Yes Single Line Question Option : No Option Orientation : Vertical

Find the most appropriate synonym of the given word.

Industrious

Options :

1. ✘ reserved
2. ✘ clever
3. ✔ hard working
4. ✘ intelligent

Question Number : 50 Question Id : 260269250 Display Question Number : Yes Single Line Question Option : No Option Orientation : Vertical

Find the most appropriate synonym of the given word.

Defer

Options :

1. ✘ respect
2. ✘ disguise
3. ✔ postpone
4. ✘ dislike

Question Number : 50 Question Id : 260269250 Display Question Number : Yes Single Line Question Option : No Option Orientation : Vertical

Find the most appropriate synonym of the given word.

Defer

Options :

1. ✘ respect
2. ✘ disguise
3. ✔ postpone
4. ✘ dislike

Question Number : 51 Question Id : 260269251 Display Question Number : Yes Single Line Question Option : No Option Orientation : Vertical

Find the most appropriate synonym of the given word.

Endorsement

Options :

1. ✘ imposition
2. ✘ endurance
3. ✘ award
4. ✔ approval

Question Number : 51 Question Id : 260269251 Display Question Number : Yes Single Line Question Option : No Option Orientation : Vertical

Find the most appropriate synonym of the given word.

Endorsement

Options :

1. ✘ imposition
2. ✘ endurance
3. ✘ award
4. ✔ approval

Question Number : 52 Question Id : 260269252 Display Question Number : Yes Single Line Question Option : No Option Orientation : Vertical

In the following question, choose the best option to fill in the blank.

The postman has brought _____ letter you were waiting for.

Options :

1. ✘ a
2. ✘ an
3. ✔ the
4. ✘ no word required

Question Number : 52 Question Id : 260269252 Display Question Number : Yes Single Line Question Option : No Option Orientation : Vertical

In the following question, choose the best option to fill in the blank.

The postman has brought _____ letter you were waiting for.

Options :

1. ✘ a
2. ✘ an
3. ✔ the
4. ✘ no word required

Question Number : 53 Question Id : 260269253 Display Question Number : Yes Single Line Question Option : No Option Orientation : Vertical

In the following question, choose the best option to fill in the blank.

_____ children have a fertile imagination.

Options :

1. ✘ A
2. ✘ An
3. ✘ The
4. ✔ No article required

Question Number : 53 Question Id : 260269253 Display Question Number : Yes Single Line Question Option : No Option Orientation : Vertical

In the following question, choose the best option to fill in the blank.

_____ children have a fertile imagination.

Options :

1. ✘ A
2. ✘ An
3. ✘ The
4. ✔ No article required

Question Number : 54 Question Id : 260269254 Display Question Number : Yes Single Line Question Option : No Option Orientation : Vertical

In the following question, choose the best option to fill in the blank.

My parents gave me _____ watch as my birthday present.

Options :

1. ✔ a
2. ✘ an
3. ✘ the
4. ✘ no article required

Question Number : 54 Question Id : 260269254 Display Question Number : Yes Single Line Question Option : No Option Orientation : Vertical

In the following question, choose the best option to fill in the blank.

My parents gave me _____ watch as my birthday present.

Options :

1. ✔ a
2. ✘ an
3. ✘ the
4. ✘ no article required

Question Number : 55 Question Id : 260269255 Display Question Number : Yes Single Line Question Option : No Option Orientation : Vertical

Fill in the blank with the appropriate phrase.

She promised to attend the seminar, but she never _____.

Options :

1. ✓ turned up
2. ✗ turned out
3. ✗ turned in
4. ✗ turned about

Question Number : 55 Question Id : 260269255 Display Question Number : Yes Single Line Question Option : No Option Orientation : Vertical

Fill in the blank with the appropriate phrase.

She promised to attend the seminar, but she never _____.

Options :

1. ✓ turned up
2. ✗ turned out
3. ✗ turned in
4. ✗ turned about

Question Number : 56 Question Id : 260269256 Display Question Number : Yes Single Line Question Option : No Option Orientation : Vertical

'स्वेच्छा' शब्द बना है:

Options :

1. ✓ सु + इच्छा से
2. ✗ स्व + एच्छा से
3. ✗ स्वे + च्छा से

4. ✘ सु + एच्छा से

Question Number : 56 Question Id : 260269256 Display Question Number : Yes Single Line Question Option : No Option Orientation : Vertical

‘स्वेच्छा’ शब्द बना है:

Options :

1. ✔ सु + इच्छा से

2. ✘ स्व + एच्छा से

3. ✘ स्वे + च्छा से

4. ✘ सु + एच्छा से

Question Number : 57 Question Id : 260269257 Display Question Number : Yes Single Line Question Option : No Option Orientation : Vertical

‘हस्तलिखित’ शब्द में कौन-सा समास है?

Options :

1. ✔ तत्पुरुष

2. ✘ कर्मधारय

3. ✘ बहुब्रीहि

4. ✘ अव्ययीभाव

Question Number : 57 Question Id : 260269257 Display Question Number : Yes Single Line Question Option : No Option Orientation : Vertical

‘हस्तलिखित’ शब्द में कौन-सा समास है?

Options :

1. ✔ तत्पुरुष

2. ✘ कर्मधारय

3. ✘ बहुब्रीहि

4. ✖ अट्ययीभाव

Question Number : 58 Question Id : 260269258 Display Question Number : Yes Single Line Question Option : No Option Orientation : Vertical

'जिसका ज्ञान कम हो' वाक्यांश के लिए एक शब्द होगा:

Options :

1. ✖ अज्ञानी

2. ✖ अल्पभाषी

3. ✖ मूर्ख

4. ✔ अल्पज्ञ

Question Number : 58 Question Id : 260269258 Display Question Number : Yes Single Line Question Option : No Option Orientation : Vertical

'जिसका ज्ञान कम हो' वाक्यांश के लिए एक शब्द होगा:

Options :

1. ✖ अज्ञानी

2. ✖ अल्पभाषी

3. ✖ मूर्ख

4. ✔ अल्पज्ञ

Question Number : 59 Question Id : 260269259 Display Question Number : Yes Single Line Question Option : No Option Orientation : Vertical

निम्नलिखित में से कौन-सा शब्द 'अग्नि' का पर्याय नहीं है?

Options :

1. ✖ पावक

2. ✔ अनिल

3. ✖ वह्नि

4. ✖ आग

Question Number : 59 Question Id : 260269259 Display Question Number : Yes Single Line Question Option : No Option Orientation : Vertical

निम्नलिखित में से कौन-सा शब्द 'अग्नि' का पर्याय नहीं है?

Options :

1. ✘ पावक
2. ✔ अनिल
3. ✘ वहिन
4. ✘ आग

Question Number : 60 Question Id : 260269260 Display Question Number : Yes Single Line Question Option : No Option Orientation : Vertical

निम्नलिखित में से किस शब्द की वर्तनी अशुद्ध है?

Options :

1. ✘ ऊँचा
2. ✔ जाएँ
3. ✘ दाँत
4. ✘ वहीं

Question Number : 60 Question Id : 260269260 Display Question Number : Yes Single Line Question Option : No Option Orientation : Vertical

निम्नलिखित में से किस शब्द की वर्तनी अशुद्ध है?

Options :

1. ✘ ऊँचा
2. ✔ जाएँ
3. ✘ दाँत
4. ✘ वहीं

Question Number : 61 Question Id : 260269261 Display Question Number : Yes Single Line Question Option : No Option Orientation : Vertical

'अथ' शब्द का 'विलोम' होता है:

Options :

1. ✘ आरंभ
2. ✘ अंतिम
3. ✔ इति
4. ✘ शुरू

Question Number : 61 Question Id : 260269261 Display Question Number : Yes Single Line Question Option : No Option Orientation : Vertical

‘अथ’ शब्द का ‘विलोम’ होता है:

Options :

1. ✘ आरंभ
2. ✘ अंतिम
3. ✔ इति
4. ✘ शुरू

Question Number : 62 Question Id : 260269262 Display Question Number : Yes Single Line Question Option : No Option Orientation : Vertical

निम्नलिखित में से कौन-सा शब्द ‘तत्सम’ है?

Options :

1. ✘ हड्डी
2. ✔ कृपा
3. ✘ काजल
4. ✘ अँधेर

Question Number : 62 Question Id : 260269262 Display Question Number : Yes Single Line Question Option : No Option Orientation : Vertical

निम्नलिखित में से कौन-सा शब्द ‘तत्सम’ है?

Options :

1. ✘ हड्डी
2. ✔ कृपा
3. ✘ काजल
4. ✘ अँधेर

Question Number : 63 Question Id : 260269263 Display Question Number : Yes Single Line Question Option : No Option Orientation : Vertical

'बहुत धीमी प्रगति' के अर्थवाला मुहावरा है:

Options :

1. ✘ थोथा चना बाजे घना।
2. ✘ लेना एक न देना दो।
3. ✔ नौ दिन चले अढ़ाई कोस।
4. ✘ नाच न जाने आँगन टेढ़ा।

Question Number : 63 Question Id : 260269263 Display Question Number : Yes Single Line Question Option : No Option Orientation : Vertical

'बहुत धीमी प्रगति' के अर्थवाला मुहावरा है:

Options :

1. ✘ थोथा चना बाजे घना।
2. ✘ लेना एक न देना दो।
3. ✔ नौ दिन चले अढ़ाई कोस।
4. ✘ नाच न जाने आँगन टेढ़ा।

Question Number : 64 Question Id : 260269264 Display Question Number : Yes Single Line Question Option : No Option Orientation : Vertical

निम्नलिखित में से 'तद्भव' शब्द चुनिए।

Options :

1. ✘ अस्थि
2. ✘ जिह्वा
3. ✔ काजल
4. ✘ मुख

Question Number : 64 Question Id : 260269264 Display Question Number : Yes Single Line Question Option : No Option Orientation : Vertical

निम्नलिखित में से 'तद्भव' शब्द चुनिए।

Options :

1. ✘ अस्थि
2. ✘ जिह्वा
3. ✔ काजल
4. ✘ मुख

Question Number : 65 Question Id : 260269265 Display Question Number : Yes Single Line Question Option : No Option Orientation : Vertical

निम्नलिखित में से कौन-सा शब्द 'अर्थ' के लिए प्रयुक्त नहीं होता?

Options :

1. ✘ धन
2. ✘ मायने
3. ✘ प्रयोजन
4. ✔ सत्ता

Question Number : 65 Question Id : 260269265 Display Question Number : Yes Single Line Question Option : No Option Orientation : Vertical

निम्नलिखित में से कौन-सा शब्द 'अर्थ' के लिए प्रयुक्त नहीं होता?

Options :

1. ✘ धन

2. ✘ मायने
3. ✘ प्रयोजन
4. ✔ सत्ता

Question Number : 66 Question Id : 260269266 Display Question Number : Yes Single Line Question Option : No Option Orientation : Vertical

In finding HCF of two numbers, the last divisor is 16 and the quotients are 2, 1, 3 and 2 in order. The difference between the two numbers is:

Options :

1. ✘ 77
2. ✘ 120
3. ✘ 144
4. ✔ 256

Question Number : 66 Question Id : 260269266 Display Question Number : Yes Single Line Question Option : No Option Orientation : Vertical

दो संख्याओं का महत्तम समापवर्तक (म.स.प.) ज्ञात करने पर अंतिम भाजक 16 और भागफल क्रमशः 2, 1, 3 और 2 हैं। दोनों संख्याओं के बीच अंतर है:

Options :

1. ✘ 77
2. ✘ 120
3. ✘ 144
4. ✔ 256

Question Number : 67 Question Id : 260269267 Display Question Number : Yes Single Line Question Option : No Option Orientation : Vertical

A's income is 75% of B's income, and A's expenditure is 80% of B's expenditure. If A's income is 90% of B's expenditure, then what is the ratio of savings of A to that of B?

Options :

1. ✘ 2 : 3

2. ✓ 1 : 2

3. ✗ 4 : 5

4. ✗ 3 : 4

Question Number : 67 Question Id : 260269267 Display Question Number : Yes Single Line Question Option : No Option Orientation : Vertical

A की आय B की आय का 75% है और A का व्यय B के व्यय का 80% है। यदि A की आय B के व्यय का 90% हो तो A और B की बचत का अनुपात क्या होगा?

Options :

1. ✗ 2 : 3

2. ✓ 1 : 2

3. ✗ 4 : 5

4. ✗ 3 : 4

Question Number : 68 Question Id : 260269268 Display Question Number : Yes Single Line Question Option : No Option Orientation : Vertical

Four numbers are written in a row. The average of the first two numbers is 7, the average of the middle two numbers is 2.3 and the average of the last two numbers is 8.4. What is the average of the first and the last number?

Options :

1. ✗ 5.9

2. ✗ 10.7

3. ✓ 13.1

4. ✗ Cannot be determined

Question Number : 68 Question Id : 260269268 Display Question Number : Yes Single Line Question Option : No Option Orientation : Vertical

चार संख्याएं एक पंक्ति में लिखी हैं। पहली दो संख्याओं का औसत 7 है, बीच की दो संख्याओं का औसत 2.3 है और अंतिम दो संख्याओं का औसत 8.4 है। पहली और अंतिम संख्या का औसत क्या होगा?

Options :

1. ✗ 5.9

2. ✗ 10.7

3. ✓ 13.1

4. ✗ निर्धारित नहीं किया जा सकता

Question Number : 69 Question Id : 260269269 Display Question Number : Yes Single Line Question Option : No Option Orientation : Vertical

The compound interest accrued on a sum of ₹ 25,500 at the end of 3 years is ₹ 8,440.5, when interest is compounded annually. What will be the simple interest on the same sum at the same rate for 5 years?

Options :

1. ✓ ₹ 12,750

2. ✗ ₹ 10,200

3. ✗ ₹ 10,800

4. ✗ ₹ 11,500

Question Number : 69 Question Id : 260269269 Display Question Number : Yes Single Line Question Option : No Option Orientation : Vertical

वार्षिक ब्याज लगने पर 3 वर्ष के अंत में ₹ 25,500 का चक्रवृद्धि ब्याज ₹ 8,440.5 प्राप्त होता है। 5 वर्ष में इसी दर पर इस धन का साधारण ब्याज क्या होगा?

Options :

1. ✓ ₹ 12,750

2. ✗ ₹ 10,200

3. ✗ ₹ 10,800

4. ✗ ₹ 11,500

Question Number : 70 Question Id : 260269270 Display Question Number : Yes Single Line Question Option : No Option Orientation : Vertical

A shopkeeper marks up the price of an article by 40%. If he increases the discount from 5% to 10% on the article, the profit would decrease by ₹ 35. How much profit would he earn if he gives a discount of 20% on the marked price?

Options :

1. ✗ ₹ 70

2. ✓ ₹ 60

3. ✗ ₹ 50

4. ✘ ₹ 40

Question Number : 70 Question Id : 260269270 Display Question Number : Yes Single Line Question Option : No Option Orientation : Vertical

एक दुकानदार किसी वस्तु का दाम 40% बढ़ा कर अंकित करता है। यदि वह वस्तु पर दी गई छूट को 5% से बढ़ाकर 10% कर देता है, तो लाभ ₹ 35 घट जाता है। यदि वह अंकित मूल्य पर 20% की छूट दे, तो उसे कितना लाभ प्राप्त होगा?

Options :

1. ✘ ₹ 70

2. ✔ ₹ 60

3. ✘ ₹ 50

4. ✘ ₹ 40

Question Number : 71 Question Id : 260269271 Display Question Number : Yes Single Line Question Option : No Option Orientation : Vertical

'A' can do a task in 9 days, 'B' in $13\frac{1}{2}$ days and 'C' in 18 days. They all begin to work together. However, only 'C' continues till the task is finished, with 'A' leaving the task in 2 days and 'B' leaving it in 3 days just before its completion. In how much time is the work finished?

Options :

1. ✘ 9 days

2. ✔ 6 days

3. ✘ 5 days

4. ✘ 4 days

Question Number : 71 Question Id : 260269271 Display Question Number : Yes Single Line Question Option : No Option Orientation : Vertical

किसी कार्य को 'A' 9 दिन में, 'B' $13\frac{1}{2}$ दिन में और 'C' 18 दिन में पूरा कर सकता है। वे सभी एक साथ कार्य करना शुरू करते हैं। लेकिन केवल 'C' कार्य के पूरे होने तक काम करता है, जब की 'A' 2 दिन में और 'B' कार्य खत्म होने के 3 दिन पहले काम छोड़ देता है। कार्य कितने दिन में पूरा होगा?

Options :

1. ✘ 9 दिन

2. ✔ 6 दिन

3. ✘ 5 दिन

4. ✘ 4 दिन

Question Number : 72 Question Id : 260269272 Display Question Number : Yes Single Line Question Option : No Option Orientation : Vertical

The numbers of boys and girls who appeared in an examination were in the ratio 16 : 9, and the ratio of the numbers of boys and girls passing the examination was 4 : 3. If 56.25% of boys passed the examination, then what is the percentage of the girls who passed?

Options :

1. ✘ 50

2. ✘ 43.75

3. ✘ 64.25

4. ✔ 75

Question Number : 72 Question Id : 260269272 Display Question Number : Yes Single Line Question Option : No Option Orientation : Vertical

एक परीक्षा में भाग लेने वाले लड़कों और लड़कियों की संख्याओं का अनुपात 16 : 9 है, और उत्तीर्ण होने वाले लड़कों और लड़कियों की संख्याओं का अनुपात 4 : 3 है। यदि 56.25% लड़के परीक्षा में उत्तीर्ण होते हैं, तो उत्तीर्ण होने वाली लड़कियों का प्रतिशत क्या है?

Options :

1. ✘ 50

2. ✘ 43.75

3. ✘ 64.25

4. ✔ 75

Question Number : 73 Question Id : 260269273 Display Question Number : Yes Single Line Question Option : No Option Orientation : Vertical

On a highway, places X and Y are 140 km apart. A car starts from X and the other starts from Y at the same time. If they travel in the same direction, they meet in 14 hours; however, if they travel towards each other, they meet in 2 hours. The speed (in kmph) of the car travelling faster is:

Options :

1. ✔ 40

2. ✘ 45

3. ✘ 50

4. ✘ 60

Question Number : 73 Question Id : 260269273 Display Question Number : Yes Single Line Question Option : No Option Orientation : Vertical

एक हाइवे पर दो स्थान X और Y एक-दूसरे से 140 किमी दूर हैं। एक कार X से और दूसरी कार Y से एक ही समय पर चलना शुरू करती है। यदि वे एक ही दिशा में चलें तो वे 14 घंटों में और यदि एक दूसरे की ओर चलें तो 2 घंटों में मिल जाएँगी। तेज़ चलने वाली कार की गति (किमी प्रति घंटे में) है:

Options :

1. ✔ 40

2. ✘ 45

3. ✘ 50

4. ✘ 60

Question Number : 74 Question Id : 260269274 Display Question Number : Yes Single Line Question Option : No Option Orientation : Vertical

From a vessel full of spirit, 5 litres of spirit is drawn off and the vessel is then filled up with water. This process is repeated one more time. If the ratio of spirit and water in the vessel now is 144 : 25, the capacity (in litres) of the vessel is:

Options :

1. ✘ 130

2. ✘ 70

3. ✔ 65

4. ✘ 60

Question Number : 74 Question Id : 260269274 Display Question Number : Yes Single Line Question Option : No Option Orientation : Vertical

स्फिरिट से भरे एक पात्र से 5 लीटर स्फिरिट निकाल दी जाती है और फिर पात्र में पानी डालकर उसे भर दिया जाता है। इस प्रक्रिया को एक बार और किया जाता है। यदि अब पात्र में स्फिरिट और पानी का अनुपात 144 : 25 हो, तो पात्र की क्षमता (लीटर में) है:

Options :

1. ✘ 130

2. ✘ 70

3. ✓ 65

4. ✗ 60

Question Number : 75 Question Id : 260269275 Display Question Number : Yes Single Line Question Option : No Option Orientation : Vertical

The taxi charges in a city comprise of a fixed charge together with the charge for the distance covered. For a journey of 10 km, the charge paid is ₹ 150, whereas for a journey of 15 km, the charge paid is ₹ 220. How much will one have to pay for a journey of 25 km?

Options :

1. ✗ ₹ 400

2. ✓ ₹ 360

3. ✗ ₹ 350

4. ✗ ₹ 320

Question Number : 75 Question Id : 260269275 Display Question Number : Yes Single Line Question Option : No Option Orientation : Vertical

किसी शहर में टैक्सी का किराया एक नियत राशि और तय की गई दूरी के लिए किराए का योग है। 10 किमी की दूरी के लिए ₹ 150 और 15 किमी की दूरी के लिए ₹ 220 देने होते हैं। 25 किमी की दूरी के लिए कितना किराया देना होगा?

Options :

1. ✗ ₹ 400

2. ✓ ₹ 360

3. ✗ ₹ 350

4. ✗ ₹ 320

Question Number : 76 Question Id : 260269276 Display Question Number : Yes Single Line Question Option : No Option Orientation : Vertical

A ball of 2.0 kg is moving along a straight line. When the velocity of the ball is 2 m/s, a constant force of 2.0 N is applied to the ball in the direction of motion for 3 s. The velocity of the ball at the end of 3 s is:

Options :

1. ✗ 3 m/s

2. ✗ 4 m/s

3. ✓ 5 m/s

4. ✗ 8 m/s

Question Number : 76 Question Id : 260269276 Display Question Number : Yes Single Line Question Option : No Option Orientation : Vertical

2.0 किलोग्राम की एक गेंद सीधी रेखा में गतिमान है। जब गेंद की गति 2 मीटर/सेकंड है तो 2.0 N (न्यूटन) का निरंतर बल गेंद के गतिमान होने की दिशा में 3 सेकंड के लिए लगाया जाता है। 3 सेकंड के समाप्त होने पर गेंद की गति है:

Options :

1. ✗ 3 मीटर/सेकंड

2. ✗ 4 मीटर/सेकंड

3. ✓ 5 मीटर/सेकंड

4. ✗ 8 मीटर/सेकंड

Question Number : 77 Question Id : 260269277 Display Question Number : Yes Single Line Question Option : No Option Orientation : Vertical

A wooden block of 2.8 kg is lying on a frictionless horizontal surface. A metal ball of 0.2 kg is fired with a velocity of 60 m/s horizontally towards the block. The metal ball gets embedded in the block. The magnitude of the velocity of the block after collision is:

Options :

1. ✗ 2.0 m/s

2. ✓ 4.0 m/s

3. ✗ 6.0 m/s

4. ✗ 8.0 m/s

Question Number : 77 Question Id : 260269277 Display Question Number : Yes Single Line Question Option : No Option Orientation : Vertical

2.8 किलोग्राम का लकड़ी का एक ब्लॉक घर्षणरहित क्षितिज के समानंतर सतह पर पड़ा हुआ है। 0.2 किलोग्राम की धातु की गेंद 60 मीटर/सेकंड की गति से ब्लॉक की ओर दागी जाती है। धातु की गेंद ब्लॉक में धंस जाती है। टकराव के बाद ब्लॉक की गति की मात्रा है:

Options :

1. ✗ 2.0 मीटर/सेकंड

2. ✓ 4.0 मीटर/सेकंड
3. ✗ 6.0 मीटर/सेकंड
4. ✗ 8.0 मीटर/सेकंड

Question Number : 78 Question Id : 260269278 Display Question Number : Yes Single Line Question Option : No Option Orientation : Vertical

The speed of a car of weight 1,200 kg is increased from 18 kmph to 54 kmph. The work done on the car (ignoring friction) is:

Options :

1. ✗ 30 kJ
2. ✗ 60 kJ
3. ✗ 90 kJ
4. ✓ 120 kJ

Question Number : 78 Question Id : 260269278 Display Question Number : Yes Single Line Question Option : No Option Orientation : Vertical

1,200 किलोग्राम की एक कार की गति को 18 किलोमीटर/घंटा से बढ़ाकर 54 किलोमीटर/घंटा किया जाता है। कार पर किया गया कार्य (घर्षण बल को नजरंदाज करते हुए) है:

Options :

1. ✗ 30 किलो जूल
2. ✗ 60 किलो जूल
3. ✗ 90 किलो जूल
4. ✓ 120 किलो जूल

Question Number : 79 Question Id : 260269279 Display Question Number : Yes Single Line Question Option : No Option Orientation : Vertical

A ball of mass m falls from height h under gravity. Let V and K denote the potential and kinetic energy of the ball at height x . When $x = h/5$, the ratio K/V is:

Options :

1. ✗ 1/4

2. ✘ 1/2

3. ✘ 2s

4. ✔ 4

Question Number : 79 Question Id : 260269279 Display Question Number : Yes Single Line Question Option : No Option Orientation : Vertical

m द्रव्यमान की एक गेंद गुरुत्व के तहत h ऊंचाई से गिरती है। मान लीजिए x ऊंचाई पर V और K स्थितिज ऊर्जा और गतिज ऊर्जा के द्योतक हैं। जब $x = h/5$, तो K/V का अनुपात है:

Options :

1. ✘ 1/4

2. ✘ 1/2

3. ✘ 2s

4. ✔ 4

Question Number : 80 Question Id : 260269280 Display Question Number : Yes Single Line Question Option : No Option Orientation : Vertical

The acceleration due to gravity on a planet is $1/4$ times of that on Earth. The radius of the planet is half that of Earth. Then the mass of the planet is $1/n$ of the mass of Earth, where n is:

Options :

1. ✘ 2

2. ✘ 4

3. ✘ 8

4. ✔ 16

Question Number : 80 Question Id : 260269280 Display Question Number : Yes Single Line Question Option : No Option Orientation : Vertical

एक ग्रह का त्वरण गुरुत्वाकर्षण बल के कारण पृथ्वी के मुकाबले $1/4$ गुणा है। ग्रह का अर्धव्यास पृथ्वी के मुकाबले आधा है। फिर ग्रह का द्रव्यमान पृथ्वी के मुकाबले $1/n$ है, जहां n है:

Options :

1. ✘ 2

2. ✘ 4

3. ✘ 8

4. ✔ 16

Question Number : 81 Question Id : 260269281 Display Question Number : Yes Single Line Question Option : No Option Orientation : Vertical

Which one of the following is **NOT** an indicator used for testing acid or base?

Options :

1. ✘ Phenolphthalein

2. ✔ Acetone

3. ✘ Methyl orange

4. ✘ Universal indicator

Question Number : 81 Question Id : 260269281 Display Question Number : Yes Single Line Question Option : No Option Orientation : Vertical

निम्नलिखित में से कौन-सा सूचक अम्ल या क्षार के परीक्षण के लिए प्रयुक्त नहीं किया जाता?

Options :

1. ✘ फीनाॅलफ्थेलिन

2. ✔ एसीटोन

3. ✘ मेथिल ओरेंज

4. ✘ सार्वत्रिक सूचक

Question Number : 82 Question Id : 260269282 Display Question Number : Yes Single Line Question Option : No Option Orientation : Vertical

What happens to the pH value of water when an acid is added to it?

Options :

1. ✘ The value first increases and then decreases

2. ✘ Remains unchanged

3. ✘ Increases

4. ✔ Decreases

Question Number : 82 Question Id : 260269282 Display Question Number : Yes Single Line Question Option : No Option Orientation : Vertical

जब पानी में कोई अम्ल मिलाया जाता है तो इसके pH मान पर क्या प्रभाव पड़ता है?

Options :

1. ✘ इसका मान पहले बढ़ता है और फिर घटता है
2. ✘ अपरिवर्तित रहता है
3. ✘ बढ़ता है
4. ✔ घटता है

Question Number : 83 Question Id : 260269283 Display Question Number : Yes Single Line Question Option : No Option Orientation : Vertical

What is the nature of aqueous solution of salt produced when nitric acid is treated with sodium hydroxide?

Options :

1. ✘ Basic
2. ✘ Acidic
3. ✔ Neutral
4. ✘ Amphoteric

Question Number : 83 Question Id : 260269283 Display Question Number : Yes Single Line Question Option : No Option Orientation : Vertical

जब नाइट्रिक अम्ल को सोडियम हाइड्रॉक्साइड के साथ अभिकृत किया जाता है तो उत्पादित लवण के जलीय विलयन की प्रकृति क्या होती है?

Options :

1. ✘ क्षारीय
2. ✘ अम्लीय
3. ✔ उदासीन
4. ✘ उभयधर्मी

Question Number : 84 Question Id : 260269284 Display Question Number : Yes Single Line Question Option : No Option Orientation : Vertical

Which one of the following metals DOES NOT give out/emit hydrogen gas when treated with a dilute acid?

Options :

1. ✘ Magnesium
2. ✔ Mercury
3. ✘ Zinc
4. ✘ Calcium

Question Number : 84 Question Id : 260269284 Display Question Number : Yes Single Line Question Option : No Option Orientation : Vertical

निम्न में से कौन-सी धातु तनु अम्ल के साथ अभिकृत होने पर हाइड्रोजन गैस उत्पन्न नहीं करती?

Options :

1. ✘ मैग्नीशियम
2. ✔ मर्करी
3. ✘ जिंक
4. ✘ कैल्शियम

Question Number : 85 Question Id : 260269285 Display Question Number : Yes Single Line Question Option : No Option Orientation : Vertical

What is the total number of molecules present in 4.4 gram of carbon dioxide (CO₂)?

Options :

1. ✘ 6.023×10^{23}
2. ✘ $2 \times 6.023 \times 10^{23}$
3. ✘ $3 \times 6.023 \times 10^{22}$
4. ✔ 6.023×10^{22}

Question Number : 85 Question Id : 260269285 Display Question Number : Yes Single Line Question Option : No Option Orientation : Vertical

4.4 ग्राम कार्बन डाइऑक्साइड (CO₂) में उपस्थित कुल अणुओं की संख्या कितनी होगी?

Options :

1. ✘ 6.023×10^{23}

2. ✘ $2 \times 6.023 \times 10^{23}$
3. ✘ $3 \times 6.023 \times 10^{22}$
4. ✔ 6.023×10^{22}

Question Number : 86 Question Id : 260269286 Display Question Number : Yes Single Line Question Option : No Option Orientation : Vertical

Which of the following are string puppets from Odisha?

Options :

1. ✔ Kundhei
2. ✘ Yampuri
3. ✘ Gombeyatta
4. ✘ Pavakoothu

Question Number : 86 Question Id : 260269286 Display Question Number : Yes Single Line Question Option : No Option Orientation : Vertical

निम्नलिखित में से ओडिशा की धागा कठपुतलियां कौन-सी हैं?

Options :

1. ✔ कुनडेई
2. ✘ यमपुरी
3. ✘ गोम्बेयट्टा
4. ✘ पावाकूथु

Question Number : 87 Question Id : 260269287 Display Question Number : Yes Single Line Question Option : No Option Orientation : Vertical

Who was the President of India when a state of Emergency was declared by the Indian Government in June 1975?

Options :

1. ✔ Fakhruddin Ali Ahmed

2. ✘ Shankar Dayal Sharma

3. ✘ Zakir Husain

4. ✘ Zail Singh

Question Number : 87 Question Id : 260269287 Display Question Number : Yes Single Line Question Option : No Option Orientation : Vertical

1975 में भारत सरकार द्वारा आपातकाल की घोषणा किए जाने के समय भारत के राष्ट्रपति कौन थे?

Options :

1. ✔ फ़ख़रुद्दीन अली अहमद

2. ✘ शंकर दयाल शर्मा

3. ✘ ज़ाकिर हुसैन

4. ✘ ज़ैल सिंह

Question Number : 88 Question Id : 260269288 Display Question Number : Yes Single Line Question Option : No Option Orientation : Vertical

Along which of the following mountain ranges does river Narmada flow?

Options :

1. ✘ Karakoram Range

2. ✔ Satpura Range

3. ✘ Eastern Ghats

4. ✘ Nilgiri Mountains

Question Number : 88 Question Id : 260269288 Display Question Number : Yes Single Line Question Option : No Option Orientation : Vertical

नर्मदा नदी निम्नलिखित में से किस पर्वत शृंखला के साथ बहती है?

Options :

1. ✘ काराकोरम पर्वत शृंखला

2. ✔ सतपुड़ा पर्वत शृंखला

3. ✘ पूर्वी घाट

4. ✘ नीलगिरि पर्वत

Question Number : 89 Question Id : 260269289 Display Question Number : Yes Single Line Question Option : No Option Orientation : Vertical

Who has taken charge as the Chairman and Managing Director of Small Industries Development Bank of India (SIDBI) since August 2017?

Options :

1. ✘ G. A. Tadas

2. ✘ K. Shivaji

3. ✘ Pankaj Jain

4. ✔ Mohammad Mustafa

Question Number : 89 Question Id : 260269289 Display Question Number : Yes Single Line Question Option : No Option Orientation : Vertical

अगस्त 2017 से भारतीय लघु उद्योग विकास बैंक (एसआईडीबीआई) के अध्यक्ष और प्रबंध निदेशक के रूप में किसने कार्यभार संभाला?

Options :

1. ✘ जी. ए. तदास

2. ✘ के. शिवाजी

3. ✘ पंकज जैन

4. ✔ मोहम्मद मुस्तफ़ा

Question Number : 90 Question Id : 260269290 Display Question Number : Yes Single Line Question Option : No Option Orientation : Vertical

As per the Constitution of India, which of the following is NOT a prescribed condition for a candidature for the post of Vice-President of India?

Options :

1. ✘ A citizen of India

2. ✘ Someone who has completed the age of thirty-five years

3. ✔ Someone who has completed the age of twenty-five years

4. ✖

Someone who does not hold any office of profit under the Government of India or the government of any state or under any local or other authority subject to the control of any of the said governments

Question Number : 90 Question Id : 260269290 Display Question Number : Yes Single Line Question Option : No Option Orientation : Vertical

भारतीय संविधान के अनुसार निम्नलिखित में से कौन-सा विकल्प भारत के उपराष्ट्रपति के पद का उम्मीदवार बनने हेतु निर्धारित शर्त नहीं है?

Options :

1. ✖ वह भारत का नागरिक हो
2. ✖ वह जिसने पैंतीस वर्ष की आयु पूरी कर ली हो
3. ✔ वह जिसने पच्चीस वर्ष की आयु पूरी कर ली हो
4. ✖

4. ✖

वह जो भारत सरकार या किसी भी राज्य सरकार या किसी भी सरकार के नियंत्रण वाले स्थानीय अथवा अन्य प्राधिकरण के अधीन किसी लाभ के पद पर ना हो

Question Number : 91 Question Id : 260269291 Display Question Number : Yes Single Line Question Option : No Option Orientation : Vertical

Which of the following Nobel laureates is **NOT** associated with the discovery of vitamins?

Options :

1. ✖ Christiaan Eijkman
2. ✖ Frederick Hopkins
3. ✔ John Macleod
4. ✖ Edward Doisy

Question Number : 91 Question Id : 260269291 Display Question Number : Yes Single Line Question Option : No Option Orientation : Vertical

निम्नलिखित नोबेल पुरस्कार विजेताओं में से कौन विटामिनों की खोज से संबंधित नहीं हैं?

Options :

1. ✖ क्रिस्टियान आइज़मन
2. ✖ फ्रेडरिक हॉपकिंस

3. ✓ जॉन मैक्लिऑड

4. ✗ एडवर्ड डोइज़ी

Question Number : 92 Question Id : 260269292 Display Question Number : Yes Single Line Question Option : No Option Orientation : Vertical

Name the winner of the 89th Oscars 2017 under the Animated Feature Film category.

Options :

1. ✗ Moana

2. ✓ Zootopia

3. ✗ The Red Turtle

4. ✗ My Life as a Zucchini

Question Number : 92 Question Id : 260269292 Display Question Number : Yes Single Line Question Option : No Option Orientation : Vertical

2017 के 89वें ऑस्कर समारोह में एनिमेटेड फीचर फ़िल्म श्रेणी के विजेता का नाम बताएं।

Options :

1. ✗ मोआना

2. ✓ ज़ूटोपिया

3. ✗ द रेड टर्टल

4. ✗ माइ लाइफ़ ऐज़ ए ज़ूकीनी

Question Number : 93 Question Id : 260269293 Display Question Number : Yes Single Line Question Option : No Option Orientation : Vertical

Which of the following is Saurav Kothari associated with?

Options :

1. ✓ Billiards and Snooker

2. ✗ Carrom

3. ✗ Table Tennis

4. ✘ Chess

Question Number : 93 Question Id : 260269293 Display Question Number : Yes Single Line Question Option : No Option Orientation : Vertical

सौरव कोठारी निम्नलिखित में से किससे संबंधित हैं?

Options :

1. ✔ बिलियर्ड्स और स्नूकर

2. ✘ कैरम

3. ✘ टेबल टेनिस

4. ✘ शतरंज

Question Number : 94 Question Id : 260269294 Display Question Number : Yes Single Line Question Option : No Option Orientation : Vertical

Who among the following Padma Shri awardees is an Indian cricketer and former captain of the Indian National Blind Cricket Team?

Options :

1. ✔ Shekhar Naik

2. ✘ Vikasa Gowda

3. ✘ P. R. Sreejesh

4. ✘ Virat Kohli

Question Number : 94 Question Id : 260269294 Display Question Number : Yes Single Line Question Option : No Option Orientation : Vertical

निम्नलिखित पद्मश्री विजेताओं में से कौन भारत की राष्ट्रीय दृष्टिबाधित क्रिकेट टीम के खिलाड़ी और पूर्व कप्तान हैं?

Options :

1. ✔ शेखर नायक

2. ✘ विकास गौड़ा

3. ✘ पी. आर. श्रीजेश

4. ✘ विराट कोहली

Question Number : 95 Question Id : 260269295 Display Question Number : Yes Single Line Question Option : No Option Orientation : Vertical

Which of the following regional folk music is from Maharashtra?

Options :

1. ✘ Daskathia
2. ✔ Powada
3. ✘ Barhamasa
4. ✘ Sohar

Question Number : 95 Question Id : 260269295 Display Question Number : Yes Single Line Question Option : No Option Orientation : Vertical

निम्नलिखित में से कौन-सा क्षेत्रीय लोक संगीत महाराष्ट्र का है?

Options :

1. ✘ दसकठिया
2. ✔ पोवाडा
3. ✘ बारहमासा
4. ✘ सोहर

Question Number : 96 Question Id : 260269296 Display Question Number : Yes Single Line Question Option : No Option Orientation : Vertical

In a certain code LEADER can be written as 791092 and SOLID can be written as 65480. How SOLDIER can be written?

Options :

1. ✘ 6548092
2. ✘ 6540829
3. ✔ 6540892
4. ✘ 6450892

Question Number : 96 Question Id : 260269296 Display Question Number : Yes Single Line Question Option : No Option Orientation : Vertical

किसी कोड विशेष में LEADER को 791092 के रूप में और SOLID को 65480 के रूप में लिखा जाता है। SOLDIER को कैसे लिखा जाएगा?

Options :

1. ✘ 6548092
2. ✘ 6540829
3. ✔ 6540892
4. ✘ 6450892

Question Number : 97 Question Id : 260269297 Display Question Number : Yes Single Line Question Option : No Option Orientation : Vertical

Complete the analogy.

Lira : Italy :: _____ : Bangladesh

Options :

1. ✘ Dollar
2. ✔ Taka
3. ✘ Yen
4. ✘ Euro

Question Number : 97 Question Id : 260269297 Display Question Number : Yes Single Line Question Option : No Option Orientation : Vertical

सादृश्य को पूरा करें।

लीरा : इटली :: _____ : बांग्लादेश

Options :

1. ✘ डॉलर
2. ✔ टका
3. ✘ येन
4. ✘ यूरो

Question Number : 98 Question Id : 260269298 Display Question Number : Yes Single Line Question Option : No Option Orientation : Vertical

Select the word from the given option that has the meaning similar to the words on the right and left side of the brackets:

CROWD () NEWSPAPER

Options :

1. ✓ Press
2. ✗ Daily
3. ✗ Gather
4. ✗ Fortnightly

Question Number : 98 Question Id : 260269298 Display Question Number : Yes Single Line Question Option : No Option Orientation : Vertical

वह शब्द चुनें जिसका अर्थ कोष्ठक के दाहिनी और बाईं ओर के शब्दों के अर्थ के समान है:

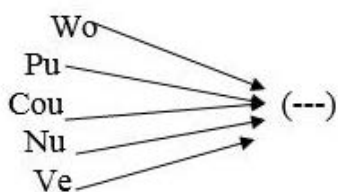
CROWD () NEWSPAPER

Options :

1. ✓ Press
2. ✗ Daily
3. ✗ Gather
4. ✗ Fortnightly

Question Number : 99 Question Id : 260269299 Display Question Number : Yes Single Line Question Option : No Option Orientation : Vertical

Which of the following options, when joined by set of letters in the image as a prefix, forms a meaningful word?



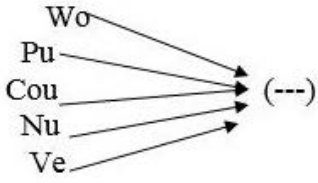
Options :

1. ✗ -ide
2. ✓ -rse
3. ✗ -ead

4. ✘ -eal

Question Number : 99 Question Id : 260269299 Display Question Number : Yes Single Line Question Option : No Option Orientation : Vertical

निम्नलिखित में से कौन-सा ऐसा विकल्प है जिसमें एक उपसर्ग के रूप में जोड़े जाने पर चित्र में दिखाया गया प्रत्येक अक्षर-समूह एक सार्थक अंग्रेज़ी शब्द बनाता है?



Options :

1. ✘ -ide

2. ✔ -rse

3. ✘ -ead

4. ✘ -eal

Question Number : 100 Question Id : 260269300 Display Question Number : Yes Single Line Question Option : No Option Orientation : Vertical

Select the missing number in the series.

7, 8, 17, 42, 91, _____, 293

Options :

1. ✔ 172

2. ✘ 182

3. ✘ 190

4. ✘ 192

Question Number : 100 Question Id : 260269300 Display Question Number : Yes Single Line Question Option : No Option Orientation : Vertical

श्रृंखला में खोई हुई संख्या का चयन करें।

7, 8, 17, 42, 91, _____, 293

Options :

1. ✔ 172

2. ✖ 182

3. ✖ 190

4. ✖ 192