

Haryana Staff Selection Commission

Notations :

1. Options shown in green color and with ✓ icon are correct.
2. Options shown in red color and with ✗ icon are incorrect.

Subject Name:	CAT 7 Senior Scale Stenographer English CBT Exam
Total Marks:	200
Display Marks:	Yes
Calculator:	None
Magnifying Glass Required?:	No
Ruler Required?:	No
Eraser Required?:	No
Scratch Pad Required?:	No
Rough Sketch/Notepad Required?:	No
Protractor Required?:	No

CAT 7 Senior Scale Stenographer English CBT Exam

Group Marks: 200

CAT 7 Senior Scale Stenographer English CBT Exam

Section Marks:	200
Display Number Panel:	Yes
Group All Questions:	No

Question Number : 1 Question Id : 627289201 Display Question Number : Yes Single Line Question Option : No Option Orientation : Vertical

Who among the following collaborated with Rao Tula Ram and revived the struggle in Ahirawal?

Options :

1. ✗ Rao Shamshad Khan
2. ✗ Rao Kishan Gopal
3. ✗ Raja Nahar Singh
4. ✓ Muhammad Azam

Question Number : 1 Question Id : 627289201 Display Question Number : Yes Single Line Question Option : No Option Orientation : Vertical

निम्नलिखित में से किसने राव तुला राम के साथ सहयोग किया और अहीरवाल में संघर्ष को पुनर्जीवित किया था?

Options :

1. ✘ राव शमशाद खान
2. ✘ राव किशन गोपाल
3. ✘ राजा नाहर सिंह
4. ✔ मुहम्मद आज़म

Question Number : 2 Question Id : 627289202 Display Question Number : Yes Single Line Question Option : No Option Orientation : Vertical

The cause of the 1857 mutiny was lost in Haryana after which of the following historical incidents?

Options :

1. ✘ Battle of Rohtak (24 May 1857)
2. ✘ Battle of Delhi (20 September 1857)
3. ✘ Battle of Gurgaon (30 September 1857)
4. ✔ Battle of Narnaul (16 November 1857)

Question Number : 2 Question Id : 627289202 Display Question Number : Yes Single Line Question Option : No Option Orientation : Vertical

निम्नलिखित में से किस ऐतिहासिक घटना के बाद सन् 1857 में हरियाणा में विद्रोह समाप्त हो गया था?

Options :

1. ✘ रोहतक का युद्ध (24 मई 1857)
2. ✘ दिल्ली का युद्ध (20 सितंबर 1857)
3. ✘ गुड़गांव की लड़ाई (30 सितंबर 1857)
4. ✔ नारनौल का युद्ध (16 नवंबर 1857)

Question Number : 3 Question Id : 627289203 Display Question Number : Yes Single Line Question Option : No Option Orientation : Vertical

Which of the following statements about administrative changes in Haryana after 1857 is **NOT** true?

Options :

1. ✘ Haryana was detached from the North-West Province and made a part of Punjab.
2. ✔ Districts of Delhi territory were regrouped into two divisions: Northern and Southern.
3. ✘
The offices of the magistrate and collector were replaced by that of deputy commissioner as the head of the district.
4. ✘
The division was under a commissioner who was subordinate to the judicial and financial commissioner of Lahore.

Question Number : 3 Question Id : 627289203 Display Question Number : Yes Single Line Question Option : No Option Orientation : Vertical

हरियाणा में सन् 1857 के बाद हुए प्रशासनिक परिवर्तनों के संबंध में निम्नलिखित में से कौन सा कथन सही नहीं है?

Options :

1. ✘
हरियाणा को उत्तर-पश्चिम प्रांत से अलग कर दिया गया था और पंजाब का एक हिस्सा बना दिया गया था।
2. ✔ दिल्ली क्षेत्र के ज़िलों को दो विभागों में बाँटा गया था: उत्तरी और दक्षिणी।
3. ✘
मजिस्ट्रेट और कलेक्टर के कार्यालयों को ज़िले के प्रमुख डिप्टी कमिश्नर के रूप में बदल दिया गया था।
4. ✘
विभाग एक कमिश्नर के अधीन था, जो लाहौर के न्यायिक और वित्तीय आयुक्त का सहायक था।

Question Number : 4 Question Id : 627289204 Display Question Number : Yes Single Line Question Option : No Option Orientation : Vertical

Who established the Haryana Brhamcharya Ashram of Bhiwani?

Options :

1. ✘ Babu Devaki Nandan
2. ✘ Madhav Prasad Mishra
3. ✘ Pandit Shridhar
4. ✔ Pandit Sita Ram

Question Number : 4 Question Id : 627289204 Display Question Number : Yes Single Line Question Option : No Option Orientation : Vertical

हरियाणा के भिवानी में ब्रह्मचर्य आश्रम की स्थापना किसने की थी?

Options :

1. ✘ बाबू देवकी नंदन

2. ✘ माधव प्रसाद मिश्रा
3. ✘ पंडित श्रीधर
4. ✔ पंडित सीता राम

Question Number : 5 Question Id : 627289205 Display Question Number : Yes Single Line Question Option : No Option Orientation : Vertical

The 2017 National Youth Festival was held in the _____ district of Haryana.

Options :

1. ✘ Jind
2. ✘ Karnal
3. ✘ Panipat
4. ✔ Rohtak

Question Number : 5 Question Id : 627289205 Display Question Number : Yes Single Line Question Option : No Option Orientation : Vertical

राष्ट्रीय युवा महोत्सव 2017, हरियाणा के _____ ज़िले में आयोजित किया गया था।

Options :

1. ✘ जींद
2. ✘ करनाल
3. ✘ पानीपत
4. ✔ रोहतक

Question Number : 6 Question Id : 627289206 Display Question Number : Yes Single Line Question Option : No Option Orientation : Vertical

In the financial year 2016-17, the secondary sector in Haryana was approximately growing at:

Options :

1. ✔ 6.1%
2. ✘ 7%
3. ✘ 9.3%

4. ✘ 7.8%

Question Number : 6 Question Id : 627289206 Display Question Number : Yes Single Line Question Option : No Option Orientation : Vertical

वित्तीय वर्ष 2016-17 में, हरियाणा में द्वितीयक क्षेत्र में लगभग कितनी वृद्धि हुई है?

Options :

1. ✔ 6.1%

2. ✘ 7%

3. ✘ 9.3%

4. ✘ 7.8%

Question Number : 7 Question Id : 627289207 Display Question Number : Yes Single Line Question Option : No Option Orientation : Vertical

Which of the following ranks was secured by Haryana in the recently organised National Youth Athletics Meet?

Options :

1. ✘ 4th

2. ✘ 3rd

3. ✘ 2nd

4. ✔ 1st

Question Number : 7 Question Id : 627289207 Display Question Number : Yes Single Line Question Option : No Option Orientation : Vertical

हाल ही में आयोजित राष्ट्रीय युवा एथलेटिक्स प्रतियोगिता में हरियाणा का निम्नलिखित में से कौन सा स्थान था?

Options :

1. ✘ चौथा

2. ✘ तीसरा

3. ✘ दूसरा

4. ✔ पहला

Question Number : 8 Question Id : 627289208 Display Question Number : Yes Single Line Question Option : No Option Orientation : Vertical

The use of _____ in food items was banned as per a directive by the Haryana Government.

Options :

1. ✘ Food colours
2. ✘ Energy drinks
3. ✔ Liquid nitrogen
4. ✘ Artificial sweetener

Question Number : 8 Question Id : 627289208 Display Question Number : Yes Single Line Question Option : No Option Orientation : Vertical

हरियाणा सरकार के निर्देशानुसार खाद्य वस्तुओं में _____ के उपयोग पर प्रतिबन्ध लगा दिया गया था।

Options :

1. ✘ खाद्य रंग
2. ✘ ऊर्जा प्रदान करने वाले पेय
3. ✔ द्रवित नाइट्रोजन
4. ✘ कृत्रिम मिठास

Question Number : 9 Question Id : 627289209 Display Question Number : Yes Single Line Question Option : No Option Orientation : Vertical

'Yadgar-e-Ghalib' was written by:

Options :

1. ✔ Khwaja Altaf Hussain Haali
2. ✘ Mohammad Khusro
3. ✘ Ahmed Ali
4. ✘ Sayyed Khan

Question Number : 9 Question Id : 627289209 Display Question Number : Yes Single Line Question Option : No Option Orientation : Vertical

'यादगार-ए-ग़ालिब' के रचयिता हैं:

Options :

1. ✓ ख्वाजा अल्ताफ हुसैन हाली
2. ✗ मोहम्मद खुसरो
3. ✗ अहमद अली
4. ✗ सय्यद खान

Question Number : 10 Question Id : 627289210 Display Question Number : Yes Single Line Question Option : No Option Orientation : Vertical

Who was the author of the book 'Satyagrahi Prahlad'?

Options :

1. ✗ Ayodhya Prasad Goyalaya
2. ✓ Tulsiram Sharma Dinesh
3. ✗ Pandit Neki Ram Sharma
4. ✗ Balmukund Gupta

Question Number : 10 Question Id : 627289210 Display Question Number : Yes Single Line Question Option : No Option Orientation : Vertical

'सत्याग्रही प्रह्लाद' नामक पुस्तक के लेखक कौन हैं?

Options :

1. ✗ अयोध्या प्रसाद गोयलिया
2. ✓ तुलसीराम शर्मा दिनेश
3. ✗ पंडित नेकी राम शर्मा
4. ✗ बालमुकुंद गुप्त

Question Number : 11 Question Id : 627289211 Display Question Number : Yes Single Line Question Option : No Option Orientation : Vertical

Who among the following has been honoured with the title of "State Poet" in Haryana?

Options :

1. ✗ Sheikh-u-Alishah Kalandar

2. ✘ Madhav Prasad Mishra

3. ✔ Khusiram Sharma

4. ✘ Radhakrishna Mishra

Question Number : 11 Question Id : 627289211 Display Question Number : Yes Single Line Question Option : No Option Orientation : Vertical

निम्नलिखित में से किसे हरियाणा में 'राज्य कवि' की उपाधि से सम्मानित किया गया है?

Options :

1. ✘ शेख-उ-अलीशाह कलंदर

2. ✘ माधव प्रसाद मिश्रा

3. ✔ खुसीराम शर्मा

4. ✘ राधाकृष्ण मिश्रा

Question Number : 12 Question Id : 627289212 Display Question Number : Yes Single Line Question Option : No Option Orientation : Vertical

How many wildlife sanctuaries does Haryana have?

Options :

1. ✘ Five

2. ✘ Six

3. ✘ Seven

4. ✔ Eight

Question Number : 12 Question Id : 627289212 Display Question Number : Yes Single Line Question Option : No Option Orientation : Vertical

हरियाणा में कितने वन्यजीव अभयारण्य हैं?

Options :

1. ✘ पाँच

2. ✘ छह

3. ✘ सात

4. ✓ आठ

Question Number : 13 Question Id : 627289213 Display Question Number : Yes Single Line Question Option : No Option Orientation : Vertical

Which river flowing through Haryana is in the news for its resurrection these days?

Options :

1. ✗ Ghaggar River
2. ✗ Yamuna River
3. ✓ Saraswati River
4. ✗ Markanda River

Question Number : 13 Question Id : 627289213 Display Question Number : Yes Single Line Question Option : No Option Orientation : Vertical

इन दिनों हरियाणा में बहने वाली किस नदी के पुनरुत्थान की चर्चा समाचारों में है?

Options :

1. ✗ घग्गर नदी
2. ✗ यमुना नदी
3. ✓ सरस्वती नदी
4. ✗ मार्कंडा नदी

Question Number : 14 Question Id : 627289214 Display Question Number : Yes Single Line Question Option : No Option Orientation : Vertical

Which of the following important trees is **NOT** found in Haryana?

Options :

1. ✗ Pine
2. ✓ Teak
3. ✗ Kikar
4. ✗ Mulberry

Question Number : 14 Question Id : 627289214 Display Question Number : Yes Single Line Question Option : No Option Orientation : Vertical

हरियाणा में निम्नलिखित में से कौन सा महत्वपूर्ण वृक्ष नहीं पाया जाता है?

Options :

1. ✘ देवदार
2. ✔ सागौन
3. ✘ कीकर
4. ✘ शहतूत

Question Number : 15 Question Id : 627289215 Display Question Number : Yes Single Line Question Option : No Option Orientation : Vertical

Who is the president of the Haryana BJP state unit?

Options :

1. ✘ Dinesh Sharma
2. ✘ Ram Bilas Sharma
3. ✔ Subhash Barala
4. ✘ Captain Abhimanyu

Question Number : 15 Question Id : 627289215 Display Question Number : Yes Single Line Question Option : No Option Orientation : Vertical

हरियाणा बीजेपी राज्य इकाई के अध्यक्ष कौन हैं?

Options :

1. ✘ दिनेश शर्मा
2. ✘ राम बिलास शर्मा
3. ✔ सुभाष बराला
4. ✘ कैप्टन अभिमन्यु

Question Number : 16 Question Id : 627289216 Display Question Number : Yes Single Line Question Option : No Option Orientation : Vertical

Labour Day in Haryana will now be celebrated on _____ every year.

Options :

1. ✘ Independence Day
2. ✘ Haryana Day
3. ✔ Vishwakarma Puja Day
4. ✘ Baisakhi Day

Question Number : 16 Question Id : 627289216 Display Question Number : Yes Single Line Question Option : No Option Orientation : Vertical

हरियाणा में अब श्रमिक दिवस प्रत्येक वर्ष _____ पर मनाया जाएगा।

Options :

1. ✘ स्वतंत्रता दिवस
2. ✘ हरियाणा दिवस
3. ✔ विश्वकर्मा पूजा दिवस
4. ✘ बैसाखी दिवस

Question Number : 17 Question Id : 627289217 Display Question Number : Yes Single Line Question Option : No Option Orientation : Vertical

A new act, viz. the Haryana Panchayati Raj Act came into force on:

Options :

1. ✘ 3rd August, 1990
2. ✔ 22nd April, 1994
3. ✘ 2nd October, 1996
4. ✘ 5th June, 1997

Question Number : 17 Question Id : 627289217 Display Question Number : Yes Single Line Question Option : No Option Orientation : Vertical

एक नया अधिनियम, अर्थात् हरियाणा पंचायती राज अधिनियम कब लागू किया गया था?

Options :

1. ✘ 3 अगस्त, 1990

2. ✓ 22 अप्रैल, 1994

3. ✗ 2 अक्टूबर, 1996

4. ✗ 5 जून, 1997

Question Number : 18 Question Id : 627289218 Display Question Number : Yes Single Line Question Option : No Option Orientation : Vertical

In the 2014 Indian General Election in Haryana, the BJP won ____ out of the 10 Lok Sabha seats.

Options :

1. ✗ 5

2. ✗ 6

3. ✓ 7

4. ✗ 8

Question Number : 18 Question Id : 627289218 Display Question Number : Yes Single Line Question Option : No Option Orientation : Vertical

हरियाणा में 2014 के भारतीय लोकसभा चुनावों में, भाजपा ने 10 लोकसभा सीटों में से ____ सीटें जीती थीं।

Options :

1. ✗ 5

2. ✗ 6

3. ✓ 7

4. ✗ 8

Question Number : 19 Question Id : 627289219 Display Question Number : Yes Single Line Question Option : No Option Orientation : Vertical

_____ has NOT been established by the Department of Environment, Government of Haryana to combat the climate change concerns.

Options :

1. ✓ Coastal Regulation Fund

2. ✗ National Adaptation Fund for Climate Change

3. ✗ Green Climate Fund

4. ✘ Adaptation Fund

Question Number : 19 Question Id : 627289219 Display Question Number : Yes Single Line Question Option : No Option Orientation : Vertical

जलवायु परिवर्तन की चिंताओं का सामना करने के लिए _____ की स्थापना पर्यावरण विभाग, हरियाणा सरकार द्वारा नहीं की गई है।

Options :

1. ✔ तटीय विनियमन निधि
2. ✘ राष्ट्रीय जलवायु परिवर्तन अनुकूलन निधि
3. ✘ हरित जलवायु निधि
4. ✘ अनुकूलन निधि

Question Number : 20 Question Id : 627289220 Display Question Number : Yes Single Line Question Option : No Option Orientation : Vertical

The Morni Hills are situated in _____ district of Haryana, which is the only hill station in the state.

Options :

1. ✔ Panchkula
2. ✘ Sirsa
3. ✘ Ambala
4. ✘ Yamunanagar

Question Number : 20 Question Id : 627289220 Display Question Number : Yes Single Line Question Option : No Option Orientation : Vertical

मोरनी हिल्स हरियाणा के _____ ज़िले में स्थित हैं, जो राज्य का एकमात्र हिल स्टेशन है।

Options :

1. ✔ पंचकुला
2. ✘ सिरसा
3. ✘ अंबाला
4. ✘ यमुनानगर

Question Number : 21 Question Id : 627289221 Display Question Number : Yes Single Line Question Option : No Option Orientation : Vertical

Environment SA India Pvt Ltd is the Continuous Ambient Air Quality Monitoring agency for 3 of the following 4 cities. Find the odd one out.

Options :

1. ✓ Faridabad
2. ✗ Gurugram
3. ✗ Panchkula
4. ✗ Rohtak

Question Number : 21 Question Id : 627289221 Display Question Number : Yes Single Line Question Option : No Option Orientation : Vertical

एन्वायरमेंट एसए इंडिया प्राइवेट लिमिटेड (Environment SA India Pvt Ltd) निम्नलिखित 4 शहरों में से 3 के लिए सतत परिवेश वायु गुणवत्ता निगरानी एजेंसी है। असंगत की पहचान करें।

Options :

1. ✓ फरीदाबाद
2. ✗ गुरुग्राम
3. ✗ पंचकुला
4. ✗ रोहतक

Question Number : 22 Question Id : 627289222 Display Question Number : Yes Single Line Question Option : No Option Orientation : Vertical

In Haryana, the Dehati Fair is generally celebrated for a period of:

Options :

1. ✗ 15 days
2. ✓ 7 days
3. ✗ 21 days
4. ✗ 30 days

Question Number : 22 Question Id : 627289222 Display Question Number : Yes Single Line Question Option : No Option Orientation : Vertical

हरियाणा में, देहाती मेला आम तौर पर कितने दिनों तक मनाया जाता है?

Options :

1. ✘ 15 दिन
2. ✔ 7 दिन
3. ✘ 21 दिन
4. ✘ 30 दिन

Question Number : 23 Question Id : 627289223 Display Question Number : Yes Single Line Question Option : No Option Orientation : Vertical

In Haryana, the celebration of Gugga Navami festival is related to:

Options :

1. ✔ snake worship
2. ✘ elephant worship
3. ✘ cow worship
4. ✘ bird worship

Question Number : 23 Question Id : 627289223 Display Question Number : Yes Single Line Question Option : No Option Orientation : Vertical

हरियाणा में गुग्गा नवमी त्यौहार किससे संबंधित है?

Options :

1. ✔ साँप की पूजा
2. ✘ हाथी की पूजा
3. ✘ गाय की पूजा
4. ✘ पक्षी की पूजा

Question Number : 24 Question Id : 627289224 Display Question Number : Yes Single Line Question Option : No Option Orientation : Vertical

In Haryana, the Surajkund Crafts Fair is organised in the month of:

Options :

1. ✘ January
2. ✘ June
3. ✔ February
4. ✘ December

Question Number : 24 Question Id : 627289224 Display Question Number : Yes Single Line Question Option : No Option Orientation : Vertical

हरियाणा में, सूरजकुंड शिल्प मेले का आयोजन किस महीने में किया जाता है?

Options :

1. ✘ जनवरी
2. ✘ जून
3. ✔ फरवरी
4. ✘ दिसम्बर

Question Number : 25 Question Id : 627289225 Display Question Number : Yes Single Line Question Option : No Option Orientation : Vertical

Which of the following is generally used as the basic colour to make Bagh shawls in Haryana?

Options :

1. ✘ Blue
2. ✘ Violet
3. ✔ Green
4. ✘ Red

Question Number : 25 Question Id : 627289225 Display Question Number : Yes Single Line Question Option : No Option Orientation : Vertical

हरियाणा में आम तौर पर निम्नलिखित में से कौन सा रंग बुनियादी रंग के रूप में बाग शॉल बनाने के लिए प्रयोग किया जाता है?

Options :

1. ✘ नीला

2. ✘ बेंगनी

3. ✔ हरा

4. ✘ लाल

Question Number : 26 Question Id : 627289226 Display Question Number : Yes Single Line Question Option : No Option Orientation : Vertical

Shorthand is a _____ language.

Options :

1. ✘ Sound

2. ✘ Script

3. ✘ Signs

4. ✔ Phonetic

Question Number : 26 Question Id : 627289226 Display Question Number : Yes Single Line Question Option : No Option Orientation : Vertical

Shorthand is a _____ language.

Options :

1. ✘ Sound

2. ✘ Script

3. ✘ Signs

4. ✔ Phonetic

Question Number : 27 Question Id : 627289227 Display Question Number : Yes Single Line Question Option : No Option Orientation : Vertical

P, B, series are _____ strokes.

Options :

1. ✘ Straight horizontal

2. ✔ Straight down

3. ✘ Curved horizontal

4. ✘ Curved upstrokes

Question Number : 27 Question Id : 627289227 Display Question Number : Yes Single Line Question Option : No Option Orientation : Vertical

P, B, series are _____ strokes.

Options :

1. ✘ Straight horizontal

2. ✔ Straight down

3. ✘ Curved horizontal

4. ✘ Curved upstrokes

Question Number : 28 Question Id : 627289228 Display Question Number : Yes Single Line Question Option : No Option Orientation : Vertical

Vowels are represented by _____.

Options :

1. ✔ Dots and dashes

2. ✘ Strokes

3. ✘ Angular signs

4. ✘ Circle and loop

Question Number : 28 Question Id : 627289228 Display Question Number : Yes Single Line Question Option : No Option Orientation : Vertical

Vowels are represented by _____.

Options :

1. ✔ Dots and dashes

2. ✘ Strokes

3. ✘ Angular signs

4. ✘ Circle and loop

Question Number : 29 Question Id : 627289229 Display Question Number : Yes Single Line Question Option : No Option Orientation : Vertical

Long vowel ā is represented by a _____.

Options :

1. ✘ Light dash
2. ✔ Heavy dot
3. ✘ Light dot
4. ✘ Heavy dash

Question Number : 29 Question Id : 627289229 Display Question Number : Yes Single Line Question Option : No Option Orientation : Vertical

Long vowel ā is represented by a _____.

Options :

1. ✘ Light dash
2. ✔ Heavy dot
3. ✘ Light dot
4. ✘ Heavy dash

Question Number : 30 Question Id : 627289230 Display Question Number : Yes Single Line Question Option : No Option Orientation : Vertical

AH and ā are _____ vowels.

Options :

1. ✔ 1st place dot
2. ✘ 3rd place dot
3. ✘ 2nd place dash
4. ✘ 1st place dash

Question Number : 30 Question Id : 627289230 Display Question Number : Yes Single Line Question Option : No Option Orientation : Vertical

AH and ā are _____ vowels.

Options :

1. ✓ 1st place dot
2. ✗ 3rd place dot
3. ✗ 2nd place dash
4. ✗ 1st place dash

Question Number : 31 Question Id : 627289231 Display Question Number : Yes Single Line Question Option : No Option Orientation : Vertical

ī and ōō are _____ place vowels.

Options :

1. ✗ 2nd
2. ✗ 1st
3. ✓ 3rd
4. ✗ 4th

Question Number : 31 Question Id : 627289231 Display Question Number : Yes Single Line Question Option : No Option Orientation : Vertical

ī and ōō are _____ place vowels.

Options :

1. ✗ 2nd
2. ✗ 1st
3. ✓ 3rd
4. ✗ 4th

Question Number : 32 Question Id : 627289232 Display Question Number : Yes Single Line Question Option : No Option Orientation : Vertical

“S” circle is written on the _____ of curves.

Options :

1. ✗ Right side

2. ✘ Left side
3. ✔ Inside
4. ✘ Upper side

Question Number : 32 Question Id : 627289232 Display Question Number : Yes Single Line Question Option : No Option Orientation : Vertical

“S” circle is written on the _____ of curves.

Options :

1. ✘ Right side
2. ✘ Left side
3. ✔ Inside
4. ✘ Upper side

Question Number : 33 Question Id : 627289233 Display Question Number : Yes Single Line Question Option : No Option Orientation : Vertical

Strokes are _____ in length to indicate the following ‘t’ or ‘d’.

Options :

1. ✔ Halved
2. ✘ Doubled
3. ✘ Circled
4. ✘ Looped

Question Number : 33 Question Id : 627289233 Display Question Number : Yes Single Line Question Option : No Option Orientation : Vertical

Strokes are _____ in length to indicate the following ‘t’ or ‘d’.

Options :

1. ✔ Halved
2. ✘ Doubled
3. ✘ Circled

4. ✘ Looped

Question Number : 34 Question Id : 627289234 Display Question Number : Yes Single Line Question Option : No Option Orientation : Vertical

When _____ follows 't' or 'd', the combination is thus written.

Options :

1. ✔ Skr and sgr

2. ✘ Spr and sbr

3. ✘ Str and sdr

4. ✘ Schr and sjr

Question Number : 34 Question Id : 627289234 Display Question Number : Yes Single Line Question Option : No Option Orientation : Vertical

When _____ follows 't' or 'd', the combination is thus written.

Options :

1. ✔ Skr and sgr

2. ✘ Spr and sbr

3. ✘ Str and sdr

4. ✘ Schr and sjr

Question Number : 35 Question Id : 627289235 Display Question Number : Yes Single Line Question Option : No Option Orientation : Vertical

The _____ form is used for half length 'h' standing alone.

Options :

1. ✔ Upward

2. ✘ Downward

3. ✘ Horizontal

4. ✘ Vertical

Question Number : 35 Question Id : 627289235 Display Question Number : Yes Single Line Question Option : No Option Orientation : Vertical

The _____ form is used for half length 'h' standing alone.

Options :

1. Upward
2. Downward
3. Horizontal
4. Vertical

Question Number : 36 Question Id : 627289236 Display Question Number : Yes Single Line Question Option : No Option Orientation : Vertical

Final 'It' is expressed by _____.

Options :

1. L full
2. L halved
3. L doubled
4. L quartered

Question Number : 36 Question Id : 627289236 Display Question Number : Yes Single Line Question Option : No Option Orientation : Vertical

Final 'It' is expressed by _____.

Options :

1. L full
2. L halved
3. L doubled
4. L quartered

Question Number : 37 Question Id : 627289237 Display Question Number : Yes Single Line Question Option : No Option Orientation : Vertical

Curved strokes are doubled in length to indicate the following syllable:

Options :

1. Tr, dr, thr

2. ✘ Pr and br

3. ✘ Fr and vr

4. ✘ chr and jr

Question Number : 37 Question Id : 627289237 Display Question Number : Yes Single Line Question Option : No Option Orientation : Vertical

Curved strokes are doubled in length to indicate the following syllable:

Options :

1. ✔ Tr, dr, thr

2. ✘ Pr and br

3. ✘ Fr and vr

4. ✘ chr and jr

Question Number : 38 Question Id : 627289238 Display Question Number : Yes Single Line Question Option : No Option Orientation : Vertical

_____ is doubled in length to add final "er".

Options :

1. ✘ Kr

2. ✔ mb

3. ✘ Tr

4. ✘ Dr

Question Number : 38 Question Id : 627289238 Display Question Number : Yes Single Line Question Option : No Option Orientation : Vertical

_____ is doubled in length to add final "er".

Options :

1. ✘ Kr

2. ✔ mb

3. ✘ Tr

4. ✘ Dr

Question Number : 39 Question Id : 627289239 Display Question Number : Yes Single Line Question Option : No Option Orientation : Vertical

Con and Com is represented by a _____ written at the beginning of the word.

Options :

1. ✓ Dot
2. ✗ Dash
3. ✗ Tiny circle
4. ✗ Vowel

Question Number : 39 Question Id : 627289239 Display Question Number : Yes Single Line Question Option : No Option Orientation : Vertical

Con and Com is represented by a _____ written at the beginning of the word.

Options :

1. ✓ Dot
2. ✗ Dash
3. ✗ Tiny circle
4. ✗ Vowel

Question Number : 40 Question Id : 627289240 Display Question Number : Yes Single Line Question Option : No Option Orientation : Vertical

The 'n' hook is written on the _____ side of straight down strokes.

Options :

1. ✗ left
2. ✓ right
3. ✗ upper
4. ✗ below

Question Number : 40 Question Id : 627289240 Display Question Number : Yes Single Line Question Option : No Option Orientation : Vertical

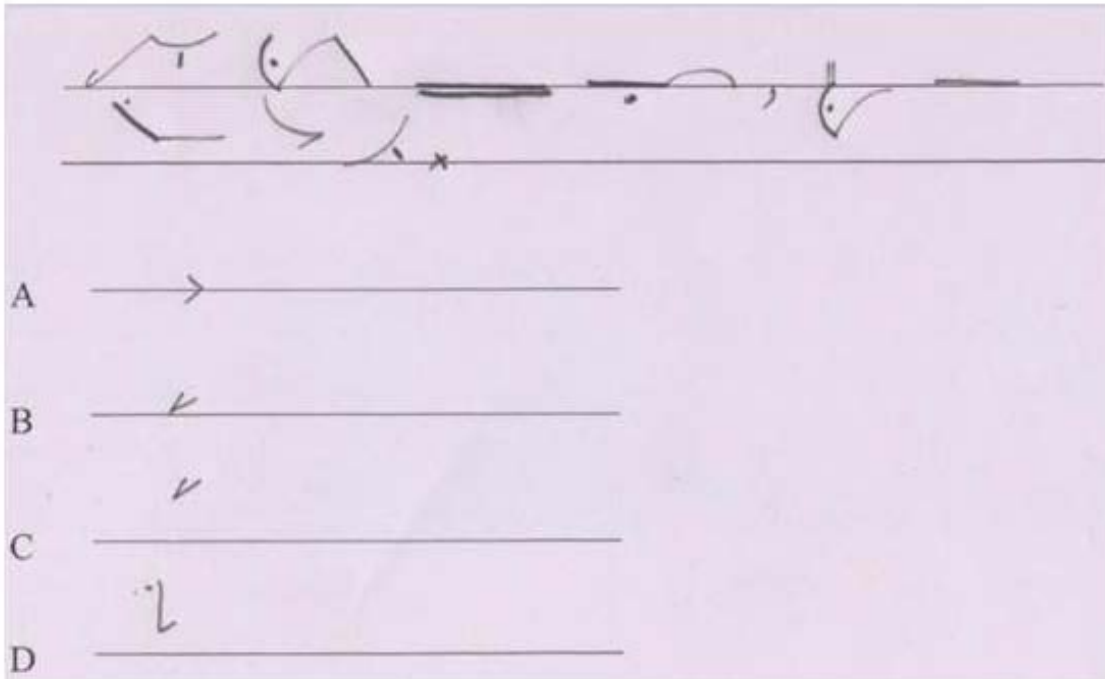
The 'n' hook is written on the _____ side of straight down strokes.

Options :

- 1. ✘ left
- 2. ✔ right
- 3. ✘ upper
- 4. ✘ below

Question Number : 41 Question Id : 627289241 Display Question Number : Yes Single Line Question Option : No Option Orientation : Vertical

Select the right word from the options given below to fill in the blank.



Options :

- 1. ✘ A
- 2. ✘ B
- 3. ✘ C
- 4. ✔ D

Question Number : 41 Question Id : 627289241 Display Question Number : Yes Single Line Question Option : No Option Orientation : Vertical





Select the right word from the options given below to fill in the blank.

Options :

- 1. ✘ A
- 2. ✘ B
- 3. ✘ C
- 4. ✔ D

Question Number : 42 Question Id : 627289242 Display Question Number : Yes Single Line Question Option : No Option Orientation : Vertical

Select the right word from the options given below to fill in the blank.

- A 
- B 
- C 
- D 

Options :

1. ✓ A

2. ✗ B

3. ✗ C

4. ✗ D

Question Number : 42 Question Id : 627289242 Display Question Number : Yes Single Line Question Option : No Option Orientation : Vertical

Select the right word from the options given below to fill in the blank.

_____ MP3 _____

A _____

B _____

C _____

D _____

Options :

1. ✓ A


2. ✗ B

3. ✗ C

4. ✗ D

Question Number : 43 Question Id : 627289243 Display Question Number : Yes Single Line Question Option : No Option Orientation : Vertical


Select the right word from the options given below to fill in the blank.



A 

B 

C 

D 

Options :

1. ✘ A

2. ✘ B

3. ✔ C

4. ✘ D

Question Number : 43 Question Id : 627289243 Display Question Number : Yes Single Line Question Option : No Option Orientation : Vertical

Select the right word from the options given below to fill in the blank.

A _____

B _____

C _____

D _____

Options :

1. ✘ A

2. ✘ B

3. ✔ C

4. ✘ D

Question Number : 44 Question Id : 627289244 Display Question Number : Yes Single Line Question Option : No Option Orientation : Vertical

Select the right sentence.

A _____

B _____

C _____

D _____

Options :

1. ✘ A

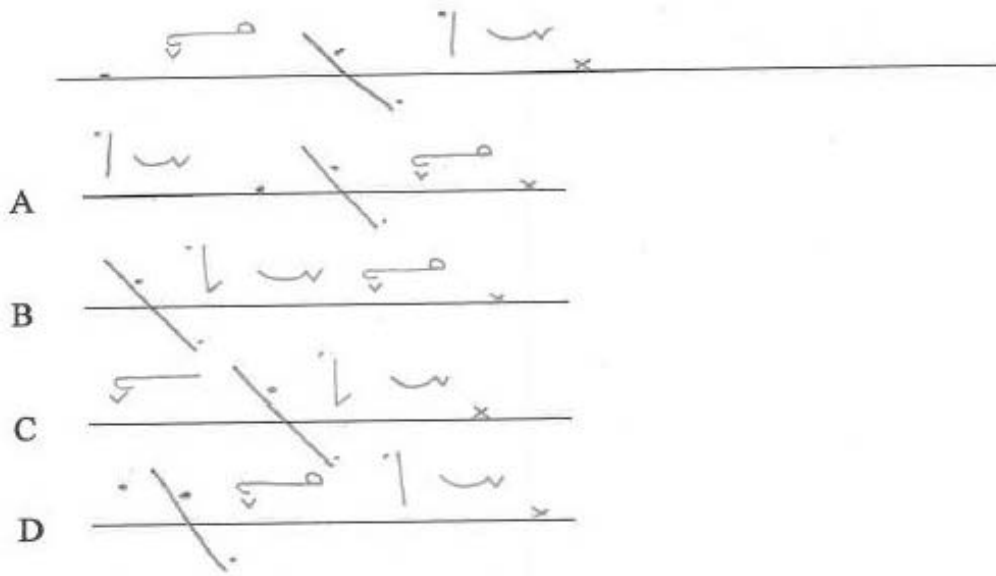
2. ✘ B

3. ✘ C

4. ✔ D

Question Number : 44 Question Id : 627289244 Display Question Number : Yes Single Line Question Option : No Option Orientation : Vertical

Select the right sentence.



Options :

1. ✘ A


2. ✘ B

3. ✘ C

4. ✔ D

Question Number : 45 Question Id : 627289245 Display Question Number : Yes Single Line Question Option : No Option Orientation : Vertical

Re-arrange the sentence.




- A
- B
- C
- D

Options :

- 1. ✘ A
- 2. ✔ B
- 3. ✘ C
- 4. ✘ D

Question Number : 45 Question Id : 627289245 Display Question Number : Yes Single Line Question Option : No Option Orientation : Vertical

Re-arrange the sentence.



- A
- B
- C
- D

Options :

1. ✘ A

2. ✔ B

3. ✘ C

4. ✘ D

Question Number : 46 Question Id : 627289246 Display Question Number : Yes Single Line Question Option : No Option Orientation : Vertical

In the following sentence, four words or phrases have been underlined. One of them is incorrect. Choose the INCORRECT word or phrase from the given options.

Whether I were you, I would never permit her to participate in such an exhausting activity.

Options :

1. ✔ Whether

2. ✘ were

3. ✘ would never

4. ✘ such

Question Number : 46 Question Id : 627289246 Display Question Number : Yes Single Line Question Option : No Option Orientation : Vertical

In the following sentence, four words or phrases have been underlined. One of them is incorrect. Choose the INCORRECT word or phrase from the given options.

Whether I were you, I would never permit her to participate in such an exhausting activity.

Options :

1. ✔ Whether

2. ✘ were

3. ✘ would never

4. ✘ such

Question Number : 47 Question Id : 627289247 Display Question Number : Yes Single Line Question Option : No Option Orientation : Vertical

In the following sentence, four words or phrases have been underlined. One of them is incorrect. Choose the INCORRECT word or phrase from the given options

Both of them are excellent books, but this one is best.

Options :

1. ✘ Them
2. ✘ excellent books
3. ✘ this one
4. ✔ is best

Question Number : 47 Question Id : 627289247 Display Question Number : Yes Single Line Question Option : No Option Orientation : Vertical

In the following sentence, four words or phrases have been underlined. One of them is incorrect. Choose the INCORRECT word or phrase from the given options

Both of them are excellent books, but this one is best.

Options :

1. ✘ Them
2. ✘ excellent books
3. ✘ this one
4. ✔ is best

Question Number : 48 Question Id : 627289248 Display Question Number : Yes Single Line Question Option : No Option Orientation : Vertical

In the following sentence, four words or phrases have been underlined. One of them is incorrect. Choose the INCORRECT word or phrase from the given options.

His conservative parents did not approve for his marriage with a girl of his choice.

Options :

1. ✘ His conservative parents
2. ✔ for his marriage
3. ✘ with a girl
4. ✘ of his choice

Question Number : 48 Question Id : 627289248 Display Question Number : Yes Single Line Question Option : No Option Orientation : Vertical

In the following sentence, four words or phrases have been underlined. One of them is incorrect. Choose the INCORRECT word or phrase from the given options.

His conservative parents did not approve for his marriage with a girl of his choice.

Options :

1. ✘ His conservative parents
2. ✔ for his marriage
3. ✘ with a girl
4. ✘ of his choice

Question Number : 49 Question Id : 627289249 Display Question Number : Yes Single Line Question Option : No Option Orientation : Vertical

Find the most appropriate antonym of the given word.

Authentic

Options :

1. ✘ Original
2. ✔ Spurious
3. ✘ Real
4. ✘ Genuine

Question Number : 49 Question Id : 627289249 Display Question Number : Yes Single Line Question Option : No Option Orientation : Vertical

Find the most appropriate antonym of the given word.

Authentic

Options :

1. ✘ Original
2. ✔ Spurious
3. ✘ Real
4. ✘ Genuine

Question Number : 50 Question Id : 627289250 Display Question Number : Yes Single Line Question Option : No Option Orientation : Vertical

Find the most appropriate antonym of the given word.

Scanty

Options :

1. ✘ Pathetic
2. ✘ Deficient
3. ✘ Restricted
4. ✔ Adequate

Question Number : 50 Question Id : 627289250 Display Question Number : Yes Single Line Question Option : No Option Orientation : Vertical

Find the most appropriate antonym of the given word.

Scanty

Options :

1. ✘ Pathetic
2. ✘ Deficient
3. ✘ Restricted
4. ✔ Adequate

Question Number : 51 Question Id : 627289251 Display Question Number : Yes Single Line Question Option : No Option Orientation : Vertical

Find the most appropriate antonym of the given word.

Pragmatic

Options :

1. ✘ Realistic
2. ✘ Practical
3. ✔ Theoretical
4. ✘ Efficient

Question Number : 51 Question Id : 627289251 Display Question Number : Yes Single Line Question Option : No Option Orientation : Vertical

Find the most appropriate antonym of the given word.

Pragmatic

Options :

1. ✘ Realistic
2. ✘ Practical
3. ✔ Theoretical
4. ✘ Efficient

Question Number : 52 Question Id : 627289252 Display Question Number : Yes Single Line Question Option : No Option Orientation : Vertical

Which of these words forms a noun when the suffix '-ist' is added to it? (Change in spelling may be required)

Options :

1. ✘ Sincere
2. ✔ Real
3. ✘ Enter
4. ✘ Attend

Question Number : 52 Question Id : 627289252 Display Question Number : Yes Single Line Question Option : No Option Orientation : Vertical

Which of these words forms a noun when the suffix '-ist' is added to it? (Change in spelling may be required)

Options :

1. ✘ Sincere
2. ✔ Real
3. ✘ Enter
4. ✘ Attend

Question Number : 53 Question Id : 627289253 Display Question Number : Yes Single Line Question Option : No Option Orientation : Vertical

Which of these words forms a noun when the suffix '-ity' is added to it? (Change in spelling may be required)

Options :

1. Pure
2. Remember
3. Ignore
4. Vocal

Question Number : 53 Question Id : 627289253 Display Question Number : Yes Single Line Question Option : No Option Orientation : Vertical

Which of these words forms a noun when the suffix '-ity' is added to it? (Change in spelling may be required)

Options :

1. Pure
2. Remember
3. Ignore
4. Vocal

Question Number : 54 Question Id : 627289254 Display Question Number : Yes Single Line Question Option : No Option Orientation : Vertical

Which of these words forms a noun when the suffix '-ment' is added to it? (Change in spelling may be required)

Options :

1. Happy
2. Arrive
3. Betray
4. Agree

Question Number : 54 Question Id : 627289254 Display Question Number : Yes Single Line Question Option : No Option Orientation : Vertical

Which of these words forms a noun when the suffix '-ment' is added to it? (Change in spelling may be required)

Options :

1. Happy
2. Arrive
3. Betray

4. Agree

Question Number : 55 Question Id : 627289255 Display Question Number : Yes Single Line Question Option : No Option Orientation : Vertical

Choose the option that best expresses the meaning of the underlined idiom in the given sentence.

Belief in witchcraft is losing ground even in remote areas now.

Options :

1. acquiring power
2. continuing as before
3. becoming less acceptable
4. deeply engraved

Question Number : 55 Question Id : 627289255 Display Question Number : Yes Single Line Question Option : No Option Orientation : Vertical

Choose the option that best expresses the meaning of the underlined idiom in the given sentence.

Belief in witchcraft is losing ground even in remote areas now.

Options :

1. acquiring power
2. continuing as before
3. becoming less acceptable
4. deeply engraved

Question Number : 56 Question Id : 627289256 Display Question Number : Yes Single Line Question Option : No Option Orientation : Vertical

निम्नलिखित शब्दों में से कौन-सा शब्द तद्भव है?

Options :

1. गोमय
2. दधि

3. ✓ परछाई

4. ✗ पाषाण

Question Number : 56 Question Id : 627289256 Display Question Number : Yes Single Line Question Option : No Option Orientation : Vertical

निम्नलिखित शब्दों में से कौन-सा शब्द तद्भव है?

Options :

1. ✗ गोमय

2. ✗ दधि

3. ✓ परछाई

4. ✗ पाषाण

Question Number : 57 Question Id : 627289257 Display Question Number : Yes Single Line Question Option : No Option Orientation : Vertical

निम्नलिखित वाक्यों के रेखांकित शब्द में कौन-सा शब्द तत्सम है?

Options :

1. ✗ उसकी आँखें बड़ी सुन्दर हैं।

2. ✓ हमें अपना कर्तव्य पूरा करना चाहिए।

3. ✗ मुझे आम खाना अच्छा लगता है।

4. ✗ उसकी बात सुनकर मुझे अचरज हुआ।

Question Number : 57 Question Id : 627289257 Display Question Number : Yes Single Line Question Option : No Option Orientation : Vertical

निम्नलिखित वाक्यों के रेखांकित शब्द में कौन-सा शब्द तत्सम है?

Options :

1. ✗ उसकी आँखें बड़ी सुन्दर हैं।

2. ✓ हमें अपना कर्तव्य पूरा करना चाहिए।

3. ✘ मुझे आम खाना अच्छा लगता है।

4. ✘ उसकी बात सुनकर मुझे अचरज हुआ।

Question Number : 58 Question Id : 627289258 Display Question Number : Yes Single Line Question Option : No Option Orientation : Vertical

हमें अनाथ बच्चों की मदद करनी चाहिए। रेखांकित शब्द का सटीक विलोम बताइए।

Options :

1. ✘ अपाहिज

2. ✘ पंगु

3. ✔ सनाथ

4. ✘ नाथ

Question Number : 58 Question Id : 627289258 Display Question Number : Yes Single Line Question Option : No Option Orientation : Vertical

हमें अनाथ बच्चों की मदद करनी चाहिए। रेखांकित शब्द का सटीक विलोम बताइए।

Options :

1. ✘ अपाहिज

2. ✘ पंगु

3. ✔ सनाथ

4. ✘ नाथ

Question Number : 59 Question Id : 627289259 Display Question Number : Yes Single Line Question Option : No Option Orientation : Vertical

‘सरिता सरिता के किनारे घूमकर आयी’ पंक्ति में कौन-सा अलंकार समाहित है?

Options :

1. ✔ यमक

2. ✘ श्लेष

3. ✘ अनुप्रास

4. ✘ उपमा

Question Number : 59 Question Id : 627289259 Display Question Number : Yes Single Line Question Option : No Option Orientation : Vertical

‘सरिता सरिता के किनारे घूमकर आयी’ पंक्ति में कौन-सा अलंकार समाहित है?

Options :

1. ✔ यमक

2. ✘ श्लेष

3. ✘ अनुप्रास

4. ✘ उपमा

Question Number : 60 Question Id : 627289260 Display Question Number : Yes Single Line Question Option : No Option Orientation : Vertical

‘भयानक रस’ का स्थायी भाव होगा:

Options :

1. ✘ रति

2. ✘ उत्साह

3. ✔ भय

4. ✘ घृणा

Question Number : 60 Question Id : 627289260 Display Question Number : Yes Single Line Question Option : No Option Orientation : Vertical

‘भयानक रस’ का स्थायी भाव होगा:

Options :

1. ✘ रति

2. ✘ उत्साह

3. ✔ भय

4. ✘ घृणा

Question Number : 61 Question Id : 627289261 Display Question Number : Yes Single Line Question Option : No Option Orientation : Vertical

'सतसई' बिहारी जी की बहुत ही सुन्दर रचना है। रेखांकित शब्द में कौन-सा समास समाहित है?

Options :

1. ✘ कर्मधारय समास
2. ✔ द्विगु समास
3. ✘ तत्पुरुष समास
4. ✘ अव्ययी भाव समास

Question Number : 61 Question Id : 627289261 Display Question Number : Yes Single Line Question Option : No Option Orientation : Vertical

'सतसई' बिहारी जी की बहुत ही सुन्दर रचना है। रेखांकित शब्द में कौन-सा समास समाहित है?

Options :

1. ✘ कर्मधारय समास
2. ✔ द्विगु समास
3. ✘ तत्पुरुष समास
4. ✘ अव्ययी भाव समास

Question Number : 62 Question Id : 627289262 Display Question Number : Yes Single Line Question Option : No Option Orientation : Vertical

निम्नलिखित शब्दों में से भाववाचक संज्ञा को पहचानिए।

Options :

1. ✘ ऊँचा
2. ✘ स्वादिष्ट
3. ✘ ऐतिहासिक
4. ✔ बचपन

Question Number : 62 Question Id : 627289262 Display Question Number : Yes Single Line Question Option : No Option Orientation : Vertical

निम्नलिखित शब्दों में से भाववाचक संज्ञा को पहचानिए।

Options :

1. ✘ ऊँचा
2. ✘ स्वादिष्ट
3. ✘ ऐतिहासिक
4. ✔ बचपन

Question Number : 63 Question Id : 627289263 Display Question Number : Yes Single Line Question Option : No Option Orientation : Vertical

स्वावलंबन शब्द का संधि विच्छेद क्या होगा?

Options :

1. ✔ स्व + अवलंबन
2. ✘ स्वा + लंबन
3. ✘ स्वा + आवलंबन
4. ✘ सव् + आलंबन

Question Number : 63 Question Id : 627289263 Display Question Number : Yes Single Line Question Option : No Option Orientation : Vertical

स्वावलंबन शब्द का संधि विच्छेद क्या होगा?

Options :

1. ✔ स्व + अवलंबन
2. ✘ स्वा + लंबन
3. ✘ स्वा + आवलंबन
4. ✘ सव् + आलंबन

Question Number : 64 Question Id : 627289264 Display Question Number : Yes Single Line Question Option : No Option Orientation : Vertical

संबोधन कारक वाक्य कौन-सा होगा?

Options :

1. ✓ हे भगवान! मेरी मदद कीजिए।
2. ✗ राम ने आम खाया।
3. ✗ उसे क्या चाहिए?
4. ✗ पुस्तक मेज़ पर रखी है।

Question Number : 64 Question Id : 627289264 Display Question Number : Yes Single Line Question Option : No Option Orientation : Vertical

संबोधन कारक वाक्य कौन-सा होगा?

Options :

1. ✓ हे भगवान! मेरी मदद कीजिए।
2. ✗ राम ने आम खाया।
3. ✗ उसे क्या चाहिए?
4. ✗ पुस्तक मेज़ पर रखी है।

Question Number : 65 Question Id : 627289265 Display Question Number : Yes Single Line Question Option : No Option Orientation : Vertical

'एक हाथ से ताली नहीं बजती' लोकोक्ति का सही अर्थ होगा:

Options :

1. ✗ आलसी व्यक्ति कभी भी सफल नहीं होता।
2. ✓ लड़ाई दोनों ओर से होती है।
3. ✗ दो समान गुणोंवाले व्यक्ति एक साथ नहीं रह सकते।
4. ✗ अपना दोष दूसरे के सर लगाना।

Question Number : 65 Question Id : 627289265 Display Question Number : Yes Single Line Question Option : No Option Orientation : Vertical

'एक हाथ से ताली नहीं बजती' लोकोक्ति का सही अर्थ होगा:

Options :

1. ✘ आलसी व्यक्ति कभी भी सफल नहीं होता।
2. ✔ लड़ाई दोनों ओर से होती है।
3. ✘ दो समान गुणोंवाले व्यक्ति एक साथ नहीं रह सकते।
4. ✘ अपना दोष दूसरे के सर लगाना।

Question Number : 66 Question Id : 627289266 Display Question Number : Yes Single Line Question Option : No Option Orientation : Vertical

Four prime numbers are written in an ascending order. The product of the first three of them is 385 and the product of the last three is 1,001. The ratio of the sum of first and third to the sum of second and fourth numbers is:

Options :

1. ✘ 1 : 2
2. ✘ 2 : 3
3. ✔ 4 : 5
4. ✘ 3 : 4

Question Number : 66 Question Id : 627289266 Display Question Number : Yes Single Line Question Option : No Option Orientation : Vertical

चार अभाज्य संख्याएँ आरोही क्रम में लिखी हैं। उनमें से पहली तीन संख्याओं का गुणनफल 385 और अंतिम तीन संख्याओं का गुणनफल 1,001 है। पहली और तीसरी के योग तथा दूसरी और चौथी के योग का अनुपात होगा:

Options :

1. ✘ 1 : 2
2. ✘ 2 : 3
3. ✔ 4 : 5
4. ✘ 3 : 4

Question Number : 67 Question Id : 627289267 Display Question Number : Yes Single Line Question Option : No Option Orientation : Vertical

In a town, 55% of voters are males and rest are females. If 60% of the males are literates and 80% of the females are illiterates, then by what percentage is the male literacy lesser than the female illiteracy?

Options :

1. $8\frac{1}{3}$

2. $8\frac{2}{3}$

3. $9\frac{1}{33}$

4. $9\frac{2}{33}$

Question Number : 67 Question Id : 627289267 Display Question Number : Yes Single Line Question Option : No Option Orientation : Vertical

किसी शहर में 55% मतदाता पुरुष हैं और बाकी महिलाएँ हैं। यदि 60% पुरुष साक्षर हों और 80% महिलाएँ असाक्षर हों तो पुरुष साक्षरता महिला असाक्षरता से कितने प्रतिशत कम है?

Options :

1. $8\frac{1}{3}$

2. $8\frac{2}{3}$

3. $9\frac{1}{33}$

4. $9\frac{2}{33}$

Question Number : 68 Question Id : 627289268 Display Question Number : Yes Single Line Question Option : No Option Orientation : Vertical

The average of k numbers is x . If a number y in the given numbers is replaced by \bar{y} , then the average becomes \bar{x} . Which of the following is true?

Options :

1. $x = \bar{x} + k(y - \bar{y})$

2. $x = \frac{\bar{x}}{k}(y - \bar{y})$

3. $\bar{x} + \frac{y}{k} = x + \frac{\bar{y}}{k}$

4. $\bar{x} - \frac{y}{k} = x - \frac{\bar{y}}{k}$

Question Number : 68 Question Id : 627289268 Display Question Number : Yes Single Line Question Option : No Option Orientation : Vertical

k संख्याओं का औसत x है। यदि दी गई संख्याओं में से y को \bar{y} से बदल दिया जाए तो औसत \bar{x} हो जाता है। निम्नलिखित में से क्या सही है?

Options :

1. ✘ $x = \bar{x} + k(y - \bar{y})$

2. ✘ $x = \frac{\bar{x}}{k}(y - \bar{y})$

3. ✔ $\bar{x} + \frac{y}{k} = x + \frac{\bar{y}}{k}$

4. ✘ $\bar{x} - \frac{y}{k} = x - \frac{\bar{y}}{k}$

Question Number : 69 Question Id : 627289269 Display Question Number : Yes Single Line Question Option : No Option Orientation : Vertical

A loan is to be paid back in two equal annual instalments each of ₹ 50,460. If the rate of interest is 16% per annum, compounded annually, then the total interest charged is:

Options :

1. ✘ ₹ 13,980

2. ✘ ₹ 18,198

3. ✘ ₹ 19,380

4. ✔ ₹ 19,920

Question Number : 69 Question Id : 627289269 Display Question Number : Yes Single Line Question Option : No Option Orientation : Vertical

एक ऋण का दो समान वार्षिक किस्तों में भुगतान किया जाना है, जिनमें से प्रत्येक ₹ 50,460 है। यदि ब्याज दर 16% प्रति वर्ष हो और ब्याज की वार्षिक चक्रवृद्धि हो, तो कुल ब्याज होगा:

Options :

1. ✘ ₹ 13,980

2. ✘ ₹ 18,198

3. ✘ ₹ 19,380

4. ✓ ₹ 19,920

Question Number : 70 Question Id : 627289270 Display Question Number : Yes Single Line Question Option : No Option Orientation : Vertical

A shopkeeper marks his goods at such a price that after allowing a discount of $12\frac{1}{2}\%$ on it, he still earns a profit of 12%. What is the marked price of an article that costs him ₹ 1,925?

Options :

1. ✗ ₹ 2,560

2. ✓ ₹ 2,464

3. ✗ ₹ 2,460

4. ✗ ₹ 2,364

Question Number : 70 Question Id : 627289270 Display Question Number : Yes Single Line Question Option : No Option Orientation : Vertical

एक दुकानदार अपने सामानों पर ऐसे दाम अंकित करता है कि उन पर $12\frac{1}{2}\%$ की छूट देने पर भी उसे 12% का लाभ हो। ₹ 1,925 की लागत वाले सामान का अंकित मूल्य क्या है?

Options :

1. ✗ ₹ 2,560

2. ✓ ₹ 2,464

3. ✗ ₹ 2,460

4. ✗ ₹ 2,364

Question Number : 71 Question Id : 627289271 Display Question Number : Yes Single Line Question Option : No Option Orientation : Vertical

To do a certain work, B takes 5 times as long as A and C together and C takes 4 times as long as A and B together take.

If all of them working together can finish the work in 15 days, then A alone will finish $\frac{19}{45}$ part of the work in:

Options :

1. ✓ 10 days

2. ✗ 12 days

3. ✗ 15 days

4. ✘ 19 days

Question Number : 71 Question Id : 627289271 Display Question Number : Yes Single Line Question Option : No Option Orientation : Vertical

किसी काम को करने में B उस समय का 5 गुना समय लेता है जितना A और C एक साथ करने में लेते हैं, तथा C उस समय का 4 गुना समय लेता है जितना A और B एक साथ करने में लेते हैं। यदि सभी एक साथ काम करके 15 दिन में काम पूरा कर सकते हैं, तो अकेले A द्वारा काम के $\frac{19}{45}$ हिस्से को पूरा करने में लगाया गया समय होगा:

Options :

1. ✔ 10 दिन

2. ✘ 12 दिन

3. ✘ 15 दिन

4. ✘ 19 दिन

Question Number : 72 Question Id : 627289272 Display Question Number : Yes Single Line Question Option : No Option Orientation : Vertical

The incomes of X, Y and Z last year were in the ratio of was 3 : 4 : 5. The ratios of their individual incomes of last year and the present year are 4 : 5, 2 : 3 and 3 : 4 respectively. If the total income of X, Y and Z for the present year is ₹ 59,100, then the present income of Y is:

Options :

1. ✘ ₹ 18,000

2. ✘ ₹ 13,500

3. ✘ ₹ 24,000

4. ✔ ₹ 21,600

Question Number : 72 Question Id : 627289272 Display Question Number : Yes Single Line Question Option : No Option Orientation : Vertical

पिछले वर्ष X, Y और Z की आय का अनुपात 3 : 4 : 5 था। पिछले वर्ष तथा इस वर्ष उनकी व्यक्तिगत आय के अनुपात क्रमशः 4 : 5, 2 : 3 और 3 : 4 है। यदि इस वर्ष X, Y और Z की कुल आय ₹ 59,100 है, तो Y की वर्तमान आय है:

Options :

1. ✘ ₹ 18,000

2. ✘ ₹ 13,500

3. ✘ ₹ 24,000

4. ✔ ₹ 21,600

Question Number : 73 Question Id : 627289273 Display Question Number : Yes Single Line Question Option : No Option Orientation : Vertical

A vessel contains acid and water in the ratio 4 : 3. If 14 litres of the solution is removed and the same quantity of water is mixed, the ratio of acid and water becomes 10 : 11 in the vessel. What quantity (in litres) of the solution does the vessel hold?

Options :

1. ✘ 96

2. ✔ 84

3. ✘ 72

4. ✘ 60

Question Number : 73 Question Id : 627289273 Display Question Number : Yes Single Line Question Option : No Option Orientation : Vertical

एक पात्र में एसिड और पानी का अनुपात 4 : 3 है। यदि 14 लीटर विलयन निकाल दिया जाए और पानी की इतनी ही मात्रा मिला दी जाए, तो पात्र में एसिड और पानी का अनुपात 10 : 11 हो जाएगा। पात्र में कितना विलयन (लीटर में) है?

Options :

1. ✘ 96

2. ✔ 84

3. ✘ 72

4. ✘ 60

Question Number : 74 Question Id : 627289274 Display Question Number : Yes Single Line Question Option : No Option Orientation : Vertical

In racing over a certain fixed distance at uniform speed, A can beat B by 20 metres, B can beat C by 10 metres and A can beat C by 28 metres. The total distance for racing (in metres) is:

Options :

1. ✘ 60

2. ✘ 75

3. ✔ 100

4. ✘ 120

Question Number : 74 Question Id : 627289274 Display Question Number : Yes Single Line Question Option : No Option Orientation : Vertical

किसी निश्चित दूरी की रेस में एकसमान गति से चलते हुए A, B को 20 मीटर से, B, C को 10 मीटर से और A, C को 28 मीटर से हरा सकता है। रेस की कुल दूरी (मीटर में) है:

Options :

1. ✘ 60

2. ✘ 75

3. ✔ 100

4. ✘ 120

Question Number : 75 Question Id : 627289275 Display Question Number : Yes Single Line Question Option : No Option Orientation : Vertical

If α and β are the roots of the equation $x^2 + px + q = 0$ and r and s are the roots of $x^2 + px - r = 0$, then $(\alpha - r)(\alpha - s)$ is equal to:

Options :

1. ✔ $-(q + r)$ 2. ✘ $q - r$ 3. ✘ $q + r$ 4. ✘ $r - q$

Question Number : 75 Question Id : 627289275 Display Question Number : Yes Single Line Question Option : No Option Orientation : Vertical

यदि α और β समीकरण $x^2 + px + q = 0$ के मूल हैं तथा r और s $x^2 + px - r = 0$ के मूल हैं तो $(\alpha - r)(\alpha - s)$ इसके बराबर होगा:

Options :

1. ✔ $-(q + r)$ 2. ✘ $q - r$ 3. ✘ $q + r$

4. ✘ r - q

Question Number : 76 Question Id : 627289276 Display Question Number : Yes Single Line Question Option : No Option Orientation : Vertical

A ball of 400g starts moving in a straight line with a velocity of 4 m/s on a rough plane surface. It stops in 2s. The magnitude of the net force opposing the motion of the ball is:

Options :

1. ✘ 0.2 N

2. ✘ 0.4 N

3. ✔ 0.8 N

4. ✘ 4.0 N

Question Number : 76 Question Id : 627289276 Display Question Number : Yes Single Line Question Option : No Option Orientation : Vertical

400 ग्राम की एक गेंद खुरदरी सतह पर 4 मीटर/सेकंड की गति से सीधी रेखा में गतिमान होती है। यह 2 सेकंड में रुक जाती है। गेंद की गति के विपरीत लगने वाले बल की मात्रा है:

Options :

1. ✘ 0.2 N (न्यूटन)

2. ✘ 0.4 N (न्यूटन)

3. ✔ 0.8 N (न्यूटन)

4. ✘ 4.0 N (न्यूटन)

Question Number : 77 Question Id : 627289277 Display Question Number : Yes Single Line Question Option : No Option Orientation : Vertical

A canon of 1,500 kg is initially at rest but free to recoil. It fires a ball of 45 kg with a velocity of 40 m/s. After firing, the velocity of the canon is (all velocities relative to the ground):

Options :

1. ✘ 1.2 m/s

2. ✔ -1.2 m/s

3. ✘ 1.8 m/s

4. ✘ -1.8 m/s

Question Number : 77 Question Id : 627289277 Display Question Number : Yes Single Line Question Option : No Option Orientation : Vertical

1,500 किलोग्राम की एक तोप आरम्भ में विश्राम अवस्था में है लेकिन प्रतिघात करने के लिए स्वतंत्र है। यह 45 किलोग्राम का गोला 40 मीटर/सेकंड की गति से दागती है। गोला दागने के बाद तोप की गति है: (सभी गति धरातल से संबंधित हैं):

Options :

1. ✘ 1.2 मीटर/सेकंड

2. ✔ -1.2 मीटर/सेकंड

3. ✘ 1.8 मीटर/सेकंड

4. ✘ -1.8 मीटर/सेकंड

Question Number : 78 Question Id : 627289278 Display Question Number : Yes Single Line Question Option : No Option Orientation : Vertical

A car weighing 1,200 kg is moving with a speed of 10 m/s. An amount of 90 kJ of work is done on it. The final speed of the car (ignoring friction) is approximately:

Options :

1. ✘ 12.4 m/s

2. ✔ 15.8 m/s

3. ✘ 21.6 m/s

4. ✘ 32.7 m/s

Question Number : 78 Question Id : 627289278 Display Question Number : Yes Single Line Question Option : No Option Orientation : Vertical

1,200 किलोग्राम भार की एक कार 10 मीटर/सेकंड की गति से गतिमान है। इस पर 90 किलोजूल का कार्य किया जाता है। (घर्षण बल को नज़रअंदाज़ करते हुए) कार की अंतिम गति लगभग है:

Options :

1. ✘ 12.4 मीटर/सेकंड

2. ✔ 15.8 मीटर/सेकंड

3. ✘ 21.6 मीटर/सेकंड

4. ✘ 32.7 मीटर/सेकंड

Question Number : 79 Question Id : 627289279 Display Question Number : Yes Single Line Question Option : No Option Orientation : Vertical

A ball of mass m falls from height h under gravity. Let V and K denote the potential and kinetic energy of the ball at a point at height x . When $x = 2h/5$, the ratio V/K is:

Options :

1. ✘ $1/5$

2. ✘ $1/3$

3. ✘ $1/2$

4. ✔ $2/3$

Question Number : 79 Question Id : 627289279 Display Question Number : Yes Single Line Question Option : No Option Orientation : Vertical

m द्रव्यमान की एक गेंद गुरुत्वाकर्षण बल के अंतर्गत h ऊंचाई से गिरती है। मान लीजिए x ऊंचाई पर V और K स्थितिज ऊर्जा और गतिज ऊर्जा के द्योतक हैं। जब $x = 2h/5$, तो V/K का अनुपात होगा:

Options :

1. ✘ $1/5$

2. ✘ $1/3$

3. ✘ $1/2$

4. ✔ $2/3$

Question Number : 80 Question Id : 627289280 Display Question Number : Yes Single Line Question Option : No Option Orientation : Vertical

The acceleration due to gravity on a planet is $1/8$ times of that on Earth. The mass of the planet is $1/4$ that of Earth. Then the radius of the planet is n times that of Earth, where n is:

Options :

1. ✘ 1

2. ✔ $\sqrt{2}$

3. ✘ 2

4. ✘ $\sqrt{8}$

Question Number : 80 Question Id : 627289280 Display Question Number : Yes Single Line Question Option : No Option Orientation : Vertical

एक ग्रह पर गुरुत्वाकर्षण बल के कारण त्वरण पृथ्वी के मुकाबले $1/8$ गुणा है। ग्रह का द्रव्यमान पृथ्वी के मुकाबले $1/4$ है। पृथ्वी के मुकाबले ग्रह का अर्धव्यास n गुणा है, जहां n है:

Options :

1. ✘ 1
2. ✔ $\sqrt{2}$
3. ✘ 2
4. ✘ $\sqrt{8}$

Question Number : 81 Question Id : 627289281 Display Question Number : Yes Single Line Question Option : No Option Orientation : Vertical

What is the colour of Phenolphthalein in basic medium?

Options :

1. ✘ Colourless
2. ✘ Yellow
3. ✔ Pink
4. ✘ Blue

Question Number : 81 Question Id : 627289281 Display Question Number : Yes Single Line Question Option : No Option Orientation : Vertical

क्षारीय माध्यम में फेनॉफ्थलीन का रंग कैसा होता है?

Options :

1. ✘ रंगहीन
2. ✘ पीला
3. ✔ गुलाबी
4. ✘ नीला

Question Number : 82 Question Id : 627289282 Display Question Number : Yes Single Line Question Option : No Option Orientation : Vertical

Which one of the following acids does not release hydrogen gas when treated with active metals?

Options :

1. ✓ Nitric acid
2. ✗ Hydrochloric acid
3. ✗ Sulphuric acid
4. ✗ Phosphoric acid

Question Number : 82 Question Id : 627289282 Display Question Number : Yes Single Line Question Option : No Option Orientation : Vertical

निम्नलिखित में से कौन सा अम्ल सक्रिय धातुओं के साथ क्रिया करने पर हाइड्रोजन गैस उत्पन्न नहीं करता?

Options :

1. ✓ नाइट्रिक अम्ल
2. ✗ हाइड्रोक्लोरिक अम्ल
3. ✗ सल्फ्यूरिक अम्ल
4. ✗ फॉस्फोरिक अम्ल

Question Number : 83 Question Id : 627289283 Display Question Number : Yes Single Line Question Option : No Option Orientation : Vertical

Which one of the following metals has the highest affinity to displace hydrogen from hydrochloric acid?

Options :

1. ✗ Copper
2. ✓ Zinc
3. ✗ Platinum
4. ✗ Mercury

Question Number : 83 Question Id : 627289283 Display Question Number : Yes Single Line Question Option : No Option Orientation : Vertical

निम्नलिखित में से किस धातु में हाइड्रोक्लोरिक अम्ल में से हाइड्रोजन विस्थापित करने की बंधुता उच्चतम होती है?

Options :

1. ✗ कॉपर

2. ✓ ज़िंक

3. ✗ प्लैटिनम

4. ✗ मर्करी

Question Number : 84 Question Id : 627289284 Display Question Number : Yes Single Line Question Option : No Option Orientation : Vertical

What gas is released when a carbonate or bicarbonate salt is treated with a dilute acid such as HCl?

Options :

1. ✗ Methane

2. ✗ Carbon monoxide

3. ✓ Carbon dioxide

4. ✗ Hydrogen sulphide

Question Number : 84 Question Id : 627289284 Display Question Number : Yes Single Line Question Option : No Option Orientation : Vertical

जब कार्बोनेट या बाईकार्बोनेट लवण की अभिक्रिया HCl जैसे किसी तनु अम्ल से की जाती है तो कौन सी गैस निकलती है?

Options :

1. ✗ मीथेन

2. ✗ कार्बन मोनोऑक्साइड

3. ✓ कार्बन डाइऑक्साइड

4. ✗ हाइड्रोजन सल्फाइड

Question Number : 85 Question Id : 627289285 Display Question Number : Yes Single Line Question Option : No Option Orientation : Vertical

What is the total number of atoms present in 4.8 gram of ozone (O_3)?

Options :

1. ✗ 6.023×10^{23}

2. ✗ $2 \times 6.023 \times 10^{23}$

3. ✓ $3 \times 6.023 \times 10^{22}$

4. ✗ 6.023×10^{24}

Question Number : 85 Question Id : 627289285 Display Question Number : Yes Single Line Question Option : No Option Orientation : Vertical

4.8 ग्राम ओज़ोन (O₃) में उपस्थित कुल परमाणुओं की संख्या कितनी होगी?

Options :

1. ✗ 6.023×10^{23}

2. ✗ $2 \times 6.023 \times 10^{23}$

3. ✓ $3 \times 6.023 \times 10^{22}$

4. ✗ 6.023×10^{24}

Question Number : 86 Question Id : 627289286 Display Question Number : Yes Single Line Question Option : No Option Orientation : Vertical

Which of the following Indian classical dancers has won both Padma Bhushan and Padma Shri awards?

Options :

1. ✗ Birju Maharaj

2. ✗ Geeta Mahalik

3. ✗ Rukmini Devi Arundale

4. ✓ Padma Subrahmanyam

Question Number : 86 Question Id : 627289286 Display Question Number : Yes Single Line Question Option : No Option Orientation : Vertical

निम्नलिखित भारतीय शास्त्रीय नर्तकों में से किसे पद्म भूषण और पद्मश्री दोनों पुरस्कारों से सम्मानित किया गया है?

Options :

1. ✗ बिरजू महाराज

2. ✗ गीता महालिक

3. ✘ रुक्मिणी देवी अरुंडेल

4. ✔ पद्मा सुब्रह्मण्यम

Question Number : 87 Question Id : 627289287 Display Question Number : Yes Single Line Question Option : No Option Orientation : Vertical

Which of the following dynasty rulers built the temples of Brihadeswara at Thanjavur?

Options :

1. ✘ Pandya

2. ✘ Gupta

3. ✔ Chola

4. ✘ Maratha

Question Number : 87 Question Id : 627289287 Display Question Number : Yes Single Line Question Option : No Option Orientation : Vertical

तंजावुर में बृहदेश्वर के मंदिर किस वंश के शासकों ने बनवाए थे?

Options :

1. ✘ पांड्य

2. ✘ गुप्त

3. ✔ चोला

4. ✘ मराठा

Question Number : 88 Question Id : 627289288 Display Question Number : Yes Single Line Question Option : No Option Orientation : Vertical

Bhitarkanika National Park is in _____.

Options :

1. ✔ Odisha

2. ✘ Bihar

3. ✘ West Bengal

4. ✘ Andhra Pradesh

Question Number : 88 Question Id : 627289288 Display Question Number : Yes Single Line Question Option : No Option Orientation : Vertical

भितरकणिका राष्ट्रीय उद्यान _____ में है।

Options :

1. ✓ ओड़िशा
2. ✗ बिहार
3. ✗ पश्चिम बंगाल
4. ✗ आंध्र प्रदेश

Question Number : 89 Question Id : 627289289 Display Question Number : Yes Single Line Question Option : No Option Orientation : Vertical

As per discussions in the GST Council Meeting held on 18th May, 2017, GST rate for Hair Dyes (natural, herbal or synthetic[except hair oil]) is:

Options :

1. ✗ 5%
2. ✗ 0% (Nil)
3. ✓ 28%
4. ✗ 18%

Question Number : 89 Question Id : 627289289 Display Question Number : Yes Single Line Question Option : No Option Orientation : Vertical

18 मई 2017 को आयोजित जीएसटी परिषद की बैठक में हुई चर्चा के अनुसार, हेयर डार्ई (प्राकृतिक, हर्बल या सिंथेटिक [बालों के तेल को छोड़कर]) के लिए जीएसटी दर है:

Options :

1. ✗ 5%
2. ✗ 0% (शून्य)
3. ✓ 28%
4. ✗ 18%

Question Number : 90 Question Id : 627289290 Display Question Number : Yes Single Line Question Option : No Option Orientation : Vertical

Which Schedule of the Indian Constitution prescribes the various Forms of Oaths or Affirmations?

Options :

1. ✘ First Schedule
2. ✘ Eighth Schedule
3. ✔ Third Schedule
4. ✘ Tenth Schedule

Question Number : 90 Question Id : 627289290 Display Question Number : Yes Single Line Question Option : No Option Orientation : Vertical

भारतीय संविधान की कौन-सी अनुसूची शपथों या वचनबद्धताओं के विविध स्वरूपों को निर्धारित करती है?

Options :

1. ✘ पहली अनुसूची
2. ✘ आठवीं अनुसूची
3. ✔ तीसरी अनुसूची
4. ✘ दसवीं अनुसूची

Question Number : 91 Question Id : 627289291 Display Question Number : Yes Single Line Question Option : No Option Orientation : Vertical

Which of the following vitamins did Henrik Dam discover?

Options :

1. ✘ Vitamin C
2. ✔ Vitamin K
3. ✘ Vitamin D
4. ✘ Vitamin A

Question Number : 91 Question Id : 627289291 Display Question Number : Yes Single Line Question Option : No Option Orientation : Vertical

हेनरिक डैम ने निम्नलिखित में से किस विटामिन की खोज की थी?

Options :

1. ✘ विटामिन सी
2. ✔ विटामिन के
3. ✘ विटामिन डी
4. ✘ विटामिन ए

Question Number : 92 Question Id : 627289292 Display Question Number : Yes Single Line Question Option : No Option Orientation : Vertical

Which of the following countries suffered multiple outbreaks of Yellow Fever in 2017?

Options :

1. ✘ Saudi Arabia
2. ✘ China
3. ✔ Brazil
4. ✘ Sri Lanka

Question Number : 92 Question Id : 627289292 Display Question Number : Yes Single Line Question Option : No Option Orientation : Vertical

निम्नलिखित में से किस देश को वर्ष 2017 में कई बार पीत ज्वर के प्रकोप का सामना करना पड़ा?

Options :

1. ✘ सऊदी अरब
2. ✘ चीन
3. ✔ ब्राज़ील
4. ✘ श्रीलंका

Question Number : 93 Question Id : 627289293 Display Question Number : Yes Single Line Question Option : No Option Orientation : Vertical

In which athletic event did Seema Punia Antil represent India in the XXXI Olympic Games?

Options :

1. ✘ Long Jump
2. ✘ 100 Metres Hurdles

3. ✘ High Jump
4. ✔ Discus Throw

Question Number : 93 Question Id : 627289293 Display Question Number : Yes Single Line Question Option : No Option Orientation : Vertical

31वें ओलंपिक खेलों में सीमा पूनिया अंतिल ने किस एथलेटिक खेल में भारत का प्रतिनिधित्व किया था?

Options :

1. ✘ लंबी कूद
2. ✘ 100 मीटर बाधा दौड़
3. ✘ ऊँची कूद
4. ✔ चक्का फेंक

Question Number : 94 Question Id : 627289294 Display Question Number : Yes Single Line Question Option : No Option Orientation : Vertical

Name the MLA of Heingang who was sworn in as the Chief Minister of Manipur in 2017.

Options :

1. ✘ Radhabinod Koijam
2. ✘ Rishang Keishing
3. ✘ Yangmasho Shaiza
4. ✔ N. Biren Singh

Question Number : 94 Question Id : 627289294 Display Question Number : Yes Single Line Question Option : No Option Orientation : Vertical

हेंगांग के उस विधायक का नाम बताइए जिसने 2017 में मणिपुर के मुख्यमंत्री के रूप में शपथ ली।

Options :

1. ✘ राधाबिनोद कोइजम
2. ✘ ऋषंग कीशिंग
3. ✘ यांगमाशो शाइज़ा

4. ✓ एन.बीरेन सिंह

Question Number : 95 Question Id : 627289295 Display Question Number : Yes Single Line Question Option : No Option Orientation : Vertical

Which of the following is **NOT** an Indian musical instrument?

Options :

1. ✗ Chenda
2. ✗ Kamaicha
3. ✓ Swang
4. ✗ Jhanj

Question Number : 95 Question Id : 627289295 Display Question Number : Yes Single Line Question Option : No Option Orientation : Vertical

निम्नलिखित में से क्या एक भारतीय वाद्ययंत्र नहीं है?

Options :

1. ✗ चेन्दा
2. ✗ कमायचा
3. ✓ स्वांग
4. ✗ झांझ

Question Number : 96 Question Id : 627289296 Display Question Number : Yes Single Line Question Option : No Option Orientation : Vertical

In a certain code language GLORIOUS is written as LGROOISU. How is CHARMING written in the same code?

Options :

1. ✗ GNIMRAHC
2. ✗ HARCMGIN
3. ✓ HCRAIMGN
4. ✗ RAHCGMIN

Question Number : 96 Question Id : 627289296 Display Question Number : Yes Single Line Question Option : No Option Orientation : Vertical

किसी कोड विशेष में GLORIOUS को LGROOISU के रूप में लिखा जाता है। उसी कोड में CHARMING को कैसे लिखा जाएगा?

Options :

1. ✘ GNIMRAHC
2. ✘ HARCMGIN
3. ✔ HCRAIMGN
4. ✘ RAHCGMIN

Question Number : 97 Question Id : 627289297 Display Question Number : Yes Single Line Question Option : No Option Orientation : Vertical

Complete the analogy.

JGF : KFH :: KML : _____

Options :

1. ✔ LLN
2. ✘ LLM
3. ✘ LNL
4. ✘ LML

Question Number : 97 Question Id : 627289297 Display Question Number : Yes Single Line Question Option : No Option Orientation : Vertical

सादृश्य को पूरा करें।

JGF : KFH :: KML : _____

Options :

1. ✔ LLN
2. ✘ LLM
3. ✘ LNL
4. ✘ LML

Question Number : 98 Question Id : 627289298 Display Question Number : Yes Single Line Question Option : No Option Orientation : Vertical

Insert the word that completes the first word and begins the second.

APR() ION

Options :

1. ✘ cot
2. ✔ on
3. ✘ in
4. ✘ il

Question Number : 98 Question Id : 627289298 Display Question Number : Yes Single Line Question Option : No Option Orientation : Vertical

खाली जगह के लिए उस विकल्प को चुनें जो पहले शब्द को पूरा करता हो और दूसरे शब्द का आरंभ करता हो।

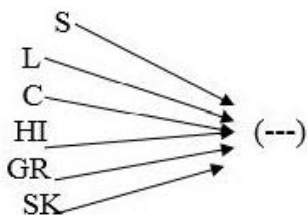
APR () ION

Options :

1. ✘ cot
2. ✔ on
3. ✘ in
4. ✘ il

Question Number : 99 Question Id : 627289299 Display Question Number : Yes Single Line Question Option : No Option Orientation : Vertical

Which of the following options, when joined by each letter in the image as a prefix, forms a meaningful English word?

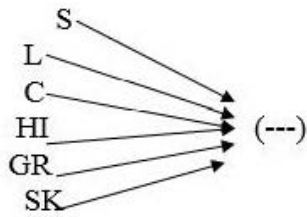


Options :

1. ✘ EEP
2. ✘ OPE
3. ✘ ING
4. ✔ IPS

Question Number : 99 Question Id : 627289299 Display Question Number : Yes Single Line Question Option : No Option Orientation : Vertical

निम्न में से ऐसा कौन सा विकल्प है जिसमें एक उपसर्ग के रूप में जोड़े जाने पर चित्र में दिखाया गया प्रत्येक अक्षर/अक्षर-युग्म एक सार्थक अंग्रेज़ी शब्द बनाता है?



Options :

1. ✘ EEP
2. ✘ OPE
3. ✘ ING
4. ✔ IPS

Question Number : 100 Question Id : 627289300 Display Question Number : Yes Single Line Question Option : No Option Orientation : Vertical

Select the missing number in the series.

2, 3, 6, 15, 45, 157.5, _____

Options :

1. ✘ 275.5
2. ✔ 630
3. ✘ 630.5
4. ✘ 650

Question Number : 100 Question Id : 627289300 Display Question Number : Yes Single Line Question Option : No Option Orientation : Vertical

श्रृंखला में खोई हुई संख्या का पता लगाएँ।

2, 3, 6, 15, 45, 157.5, _____

Options :

1. ✘ 275.5
2. ✔ 630

3. ✖ 630.5

4. ✖ 650