

Haryana Staff Selection Commission

Notations :

1. Options shown in green color and with ✓ icon are correct.
2. Options shown in red color and with ✗ icon are incorrect.

Subject Name:	CAT 5 Junior Scale Stenographer Hindi CBT Exam
Total Marks:	200
Display Marks:	Yes
Calculator:	None
Magnifying Glass Required?:	No
Ruler Required?:	No
Eraser Required?:	No
Scratch Pad Required?:	No
Rough Sketch/Notepad Required?:	No
Protractor Required?:	No

CAT 5 Junior Scale Stenographer Hindi CBT Exam

Group Marks: 200

CAT 5 Junior Scale Stenographer Hindi CBT Exam

Section Marks:	200
Display Number Panel:	Yes
Group All Questions:	No

Question Number : 1 Question Id : 627289401 Display Question Number : Yes Single Line Question Option : No Option Orientation : Vertical

‘Jog Sagar’ was written by which of the following Sufi Saint?

Options :

1. ✓ Gulam Kadar Zilani
2. ✗ Mohammad Bakhtiar Kaki
3. ✗ Shaikh Nizamuddin
4. ✗ Shaikh Salim Chishtī

Question Number : 1 Question Id : 627289401 Display Question Number : Yes Single Line Question Option : No Option Orientation : Vertical

'जोग सागर' निम्नलिखित में से कौन-से सूफी संत द्वारा लिखी गयी थी?

Options :

1. ✓ गुलाम कादर जिलानी
2. ✗ मोहम्मद बख्तियार काकी
3. ✗ शेख निजामुद्दीन
4. ✗ शेख सलीम चिश्ती

Question Number : 2 Question Id : 627289402 Display Question Number : Yes Single Line Question Option : No Option Orientation : Vertical

Which of the following contains the earliest inscriptional reference to Haryana?

Options :

1. ✓ Ajmer Inscription of Arnoraja
2. ✗ Bohar Inscription
3. ✗ Delhi Museum Inscription
4. ✗ Palam Baoli Inscription

Question Number : 2 Question Id : 627289402 Display Question Number : Yes Single Line Question Option : No Option Orientation : Vertical

हरियाणा के संदर्भ में निम्नलिखित में से कौन सबसे प्रारंभिक शिलालेख है?

Options :

1. ✓ अर्णोराज का अजमेर शिलालेख
2. ✗ बोहर शिलालेख
3. ✗ दिल्ली संग्रहालय शिलालेख
4. ✗ पालम बाओली शिलालेख

Question Number : 3 Question Id : 627289403 Display Question Number : Yes Single Line Question Option : No Option Orientation : Vertical

Which of the following pairs (Source – Name used for Haryana region) is **NOT** a correct match?

Options :

1. ✘ Skandapurana – *Hariala*
2. ✘ Ajmer Inscription of Arnoraja – *Haritanaka*
3. ✘ Palam Baoli Inscription – *Hariyanaka*
4. ✔ Delhi Museum Inscription – *Bahudhanyaka*

Question Number : 3 Question Id : 627289403 Display Question Number : Yes Single Line Question Option : No Option Orientation : Vertical

निम्नलिखित में से कौन-सा युग्म (स्रोत - हरियाणा क्षेत्र के लिए प्रयोग किया जाने वाला नाम) सही सुमेलित नहीं है?

Options :

1. ✘ स्कन्द पुराण - हरियाला
2. ✘ अर्णोराज का अजमेर शिलालेख - हरितनाका
3. ✘ पालम बाओली शिलालेख - हरियनाका
4. ✔ दिल्ली संग्रहालय शिलालेख - बहुधन्यका

Question Number : 4 Question Id : 627289404 Display Question Number : Yes Single Line Question Option : No Option Orientation : Vertical

Which of the following archaeological sites was **NOT** excavated by the renowned archaeologist Suraj Bhan?

Options :

1. ✔ Banawali
2. ✘ Mitathal
3. ✘ Siswal
4. ✘ Sugh

Question Number : 4 Question Id : 627289404 Display Question Number : Yes Single Line Question Option : No Option Orientation : Vertical

प्रसिद्ध पुरातत्वविद् सूरज भान द्वारा निम्नलिखित में से कौन-से पुरातात्विक स्थलों का उत्खनन नहीं किया गया था?

Options :

1. ✔ बनावली

2. ✘ मिताथल

3. ✘ सीसवाल

4. ✘ सूघ

Question Number : 5 Question Id : 627289405 Display Question Number : Yes Single Line Question Option : No Option Orientation : Vertical

Who among the following, is the current tourism minister of Haryana?

Options :

1. ✔ Ram Bilas Sharma

2. ✘ Captain Abhimanyu

3. ✘ Anil Vij

4. ✘ Om Prakash Dhankar

Question Number : 5 Question Id : 627289405 Display Question Number : Yes Single Line Question Option : No Option Orientation : Vertical

निम्नलिखित में से हरियाणा के वर्तमान पर्यटन मंत्री कौन हैं?

Options :

1. ✔ राम बिलास शर्मा

2. ✘ कैप्टन अभिमन्यु

3. ✘ अनिल विज

4. ✘ ओम प्रकाश धनकर

Question Number : 6 Question Id : 627289406 Display Question Number : Yes Single Line Question Option : No Option Orientation : Vertical

The Haryana Government signed a memorandum of understanding (MoU) with _____ to set up its phone manufacturing hub in Haryana.

Options :

1. ✘ Apple

2. ✔ Gionee

3. ✘ Micromax

4. ✘ Samsung

Question Number : 6 Question Id : 627289406 Display Question Number : Yes Single Line Question Option : No Option Orientation : Vertical

हरियाणा सरकार ने हरियाणा में फोन विनिर्माण केंद्र स्थापित करने के लिए _____ के साथ समझौते (MoU) पर हस्ताक्षर किए हैं।

Options :

1. ✘ एप्पल

2. ✔ जीओनी

3. ✘ माइक्रोमैक्स

4. ✘ सैमसंग

Question Number : 7 Question Id : 627289407 Display Question Number : Yes Single Line Question Option : No Option Orientation : Vertical

The Theme State for the 30th Surajkund International Crafts Mela was:

Options :

1. ✘ Jammu and Kashmir

2. ✘ Gujarat

3. ✘ Uttar Pradesh

4. ✔ Telangana

Question Number : 7 Question Id : 627289407 Display Question Number : Yes Single Line Question Option : No Option Orientation : Vertical

30वें सूरजकुंड अंतर्राष्ट्रीय शिल्प मेले का विषय राज्य था:

Options :

1. ✘ जम्मू और कश्मीर

2. ✘ गुजरात

3. ✘ उत्तर प्रदेश

4. ✓ तेलंगाना

Question Number : 8 Question Id : 627289408 Display Question Number : Yes Single Line Question Option : No Option Orientation : Vertical

The Haryana Police recently became the _____ police department in the country to have a digital investigation centre.

Options :

1. ✗ 4th

2. ✗ 2nd

3. ✓ 1st

4. ✗ 3rd

Question Number : 8 Question Id : 627289408 Display Question Number : Yes Single Line Question Option : No Option Orientation : Vertical

हरियाणा पुलिस विभाग एक डिजिटल जांच केंद्र वाला, देश का _____ पुलिस विभाग बन गया है।

Options :

1. ✗ चौथा

2. ✗ दूसरा

3. ✓ पहला

4. ✗ तीसरा

Question Number : 9 Question Id : 627289409 Display Question Number : Yes Single Line Question Option : No Option Orientation : Vertical

Which of the following poets/poetess is known for his Ragnis?

Options :

1. ✓ Pt. Lakhmi Chand

2. ✗ Jaimini Haryanavi

3. ✗ Shrikrishna Gotan Manjar

4. ✗ Renu Sharma

Question Number : 9 Question Id : 627289409 Display Question Number : Yes Single Line Question Option : No Option Orientation : Vertical

निम्नलिखित में से किस कवि/कवयित्री को उनकी रागनी के लिए जाना जाता है?

Options :

1. ✓ पं. लखमी चंद
2. ✗ जैमिनी हरियाणवी
3. ✗ श्रीकृष्ण गोतान मंजर
4. ✗ रेनू शर्मा

Question Number : 10 Question Id : 627289410 Display Question Number : Yes Single Line Question Option : No Option Orientation : Vertical

Which of the following poets is known for his Haryanvi and Hindi ghazals?

Options :

1. ✗ Pt. Mange Ram
2. ✓ Kanwal Haryanvi
3. ✗ Satyavir Nahadiya
4. ✗ Naresh Kumar Sharma

Question Number : 10 Question Id : 627289410 Display Question Number : Yes Single Line Question Option : No Option Orientation : Vertical

निम्नलिखित में से किस कवि को उनकी हरियाणवी और हिंदी गजलों के लिए जाना जाता है?

Options :

1. ✗ पं. मांगे राम
2. ✓ कंवल हरियाणवी
3. ✗ सत्यवीर नाहडिया
4. ✗ नरेश कुमार शर्मा

Question Number : 11 Question Id : 627289411 Display Question Number : Yes Single Line Question Option : No Option Orientation : Vertical

Who has authored 'Maati Ka Chulha', a collection of Haryanvi poems?

Options :

1. ✘ Mehar Singh
2. ✘ Satpal Snehi
3. ✘ Risal Jangra
4. ✔ Jagbir Rathee

Question Number : 11 Question Id : 627289411 Display Question Number : Yes Single Line Question Option : No Option Orientation : Vertical

हरियाणवी कविता संग्रह 'माटी का चूल्हा' के रचयिता कौन हैं?

Options :

1. ✘ मेहर सिंह
2. ✘ सतपाल स्नेही
3. ✘ रिसाल जांगड़ा
4. ✔ जगबीर राठी

Question Number : 12 Question Id : 627289412 Display Question Number : Yes Single Line Question Option : No Option Orientation : Vertical

In 1014 A.D., Mahmud of Ghazni attacked _____ in present-day Haryana.

Options :

1. ✘ Rohtak
2. ✘ Karnal
3. ✔ Thaneshwar
4. ✘ Bhiwani

Question Number : 12 Question Id : 627289412 Display Question Number : Yes Single Line Question Option : No Option Orientation : Vertical

1014 ईसवी में, महमूद गजनी ने वर्तमान हरियाणा के _____ पर हमला किया था।

Options :

1. ✘ रोहतक

2. ✘ करनाल

3. ✔ थानेश्वर

4. ✘ भिवानी

Question Number : 13 Question Id : 627289413 Display Question Number : Yes Single Line Question Option : No Option Orientation : Vertical

In which place of Bhiwani district does the Baba Kherewala Fair take place during Raksha Bandhan?

Options :

1. ✘ Loharu

2. ✘ Tosham

3. ✘ Satnali

4. ✔ Naurangabad

Question Number : 13 Question Id : 627289413 Display Question Number : Yes Single Line Question Option : No Option Orientation : Vertical

रक्षाबंधन के दौरान बाबा खेरेवाला मेले का आयोजन, भिवानी जिले में किस स्थान पर किया जाता है?

Options :

1. ✘ लोहारू

2. ✘ तोशाम

3. ✘ सतनाली

4. ✔ नौरंगाबाद

Question Number : 14 Question Id : 627289414 Display Question Number : Yes Single Line Question Option : No Option Orientation : Vertical

Which city is **NOT** a part of the Panchkula Police Commissionerate?

Options :

1. ✘ Kalka

2. ✔ Ambala

3. ✘ Mansa Devi Complex

4. ✘ Pinjore

Question Number : 14 Question Id : 627289414 Display Question Number : Yes Single Line Question Option : No Option Orientation : Vertical

कौन-सा शहर पंचकुला पुलिस आयुक्तालय का भाग नहीं है?

Options :

1. ✘ कालका

2. ✔ अंबाला

3. ✘ मनसा देवी कॉम्प्लेक्स

4. ✘ पिंजौर

Question Number : 15 Question Id : 627289415 Display Question Number : Yes Single Line Question Option : No Option Orientation : Vertical

Who is the MLA from Ambala Cantonment who is also a Cabinet Minister of Haryana?

Options :

1. ✘ Abhimanyu

2. ✘ Ram Bilas Sharma

3. ✔ Anil Vij

4. ✘ Krishan Lal Panwar

Question Number : 15 Question Id : 627289415 Display Question Number : Yes Single Line Question Option : No Option Orientation : Vertical

अंबाला छावनी से कौन-से विधायक हैं, जो हरियाणा के कैबिनेट मंत्री भी हैं?

Options :

1. ✘ अभिमन्यु

2. ✘ राम बिलास शर्मा

3. ✔ अनिल विज

4. ✘ कृष्ण लाल पंवार

Question Number : 16 Question Id : 627289416 Display Question Number : Yes Single Line Question Option : No Option Orientation : Vertical

The current legislative assembly is the _____ Vidhan Sabha of Haryana.

Options :

1. ✘ 12th

2. ✔ 13th

3. ✘ 15th

4. ✘ 16th

Question Number : 16 Question Id : 627289416 Display Question Number : Yes Single Line Question Option : No Option Orientation : Vertical

वर्तमान विधानसभा, हरियाणा की _____ विधानसभा है।

Options :

1. ✘ 12 वीं

2. ✔ 13 वीं

3. ✘ 15 वीं

4. ✘ 16 वीं

Question Number : 17 Question Id : 627289417 Display Question Number : Yes Single Line Question Option : No Option Orientation : Vertical

The State Government of Haryana has established a "Centre of Excellence for Vegetables" at Gharaunda in Karnal under an _____ Project.

Options :

1. ✘ Indo-Chinese

2. ✘ Indo-Japanese

3. ✘ Indo-German

4. ✔ Indo-Israeli

Question Number : 17 Question Id : 627289417 Display Question Number : Yes Single Line Question Option : No Option Orientation : Vertical

हरियाणा राज्य सरकार ने एक _____ परियोजना के अंतर्गत करनाल के घराँडा में "सब्जियों के लिए उत्कृष्टता केंद्र" की स्थापना की है।

Options :

1. ✘ भारत-चीनी
2. ✘ भारत-जापानी
3. ✘ भारत-जर्मन
4. ✔ भारत-इजरायल

Question Number : 18 Question Id : 627289418 Display Question Number : Yes Single Line Question Option : No Option Orientation : Vertical

How many new faces were added in the Haryana Government Cabinet expansion which was declared on 22 July 2016?

Options :

1. ✘ 2
2. ✔ 3
3. ✘ 4
4. ✘ 5

Question Number : 18 Question Id : 627289418 Display Question Number : Yes Single Line Question Option : No Option Orientation : Vertical

22 जुलाई 2016 को घोषित हरियाणा सरकार के कैबिनेट विस्तार में कितने नए चेहरे सम्मिलित किये गये थे?

Options :

1. ✘ 2
2. ✔ 3
3. ✘ 4
4. ✘ 5

Question Number : 19 Question Id : 627289419 Display Question Number : Yes Single Line Question Option : No Option Orientation : Vertical

Haryana Community Forestry Project (HCFP) was co-founded by the state government and _____.

Options :

1. ✔ European Commission

2. ✘ World Wildlife Fund
3. ✘ International Union for Conservation of Nature
4. ✘ United Nations Environment Programme

Question Number : 19 Question Id : 627289419 Display Question Number : Yes Single Line Question Option : No Option Orientation : Vertical

हरियाणा सामुदायिक वानिकी परियोजना (एचसीएफपी) को राज्य सरकार और _____ द्वारा सह-स्थापित किया गया था।

Options :

1. ✔ यूरोपीय आयोग
2. ✘ विश्व वन्यजीव कोष
3. ✘ अंतर्राष्ट्रीय प्रकृति संरक्षण संघ
4. ✘ संयुक्त राष्ट्र पर्यावरण कार्यक्रम

Question Number : 20 Question Id : 627289420 Display Question Number : Yes Single Line Question Option : No Option Orientation : Vertical

_____ district does NOT form a part of the semi-desert sandy plain.

Options :

1. ✔ Kaithal
2. ✘ Hisar
3. ✘ Bhiwani
4. ✘ Fatehabad

Question Number : 20 Question Id : 627289420 Display Question Number : Yes Single Line Question Option : No Option Orientation : Vertical

_____ जिला अर्ध-रेगिस्तानी रेतीले मैदान का एक हिस्सा नहीं है।

Options :

1. ✔ कैथल
2. ✘ हिसार

3. ✘ भिवानी

4. ✘ फतेहाबाद

Question Number : 21 Question Id : 627289421 Display Question Number : Yes Single Line Question Option : No Option Orientation : Vertical

Devi Rupak Yojana by the Government of Haryana is related to _____.

Options :

1. ✔ skewed sex ratio

2. ✘ honour killing

3. ✘ preventive health care

4. ✘ women's education

Question Number : 21 Question Id : 627289421 Display Question Number : Yes Single Line Question Option : No Option Orientation : Vertical

हरियाणा सरकार द्वारा संचालित देवी रूपक योजना _____ से संबंधित है।

Options :

1. ✔ लिंग अनुपात विषम

2. ✘ ऑनर किलिंग

3. ✘ निवारक स्वास्थ्य देखभाल

4. ✘ महिला शिक्षा

Question Number : 22 Question Id : 627289422 Display Question Number : Yes Single Line Question Option : No Option Orientation : Vertical

Jyotisar is a tourist place in Kurukshetra. It is believed that:

Options :

1. ✔ Shri Krishna narrated the Bhagavad Gita to Arjuna here.

2. ✘ it is one of the 51 Shakti Pithas of India.

3. ✘ Shri Krishna died here.

4. ✘ Shri Ram died here.

Question Number : 22 Question Id : 627289422 Display Question Number : Yes Single Line Question Option : No Option Orientation : Vertical

ज्योतिसार कुरुक्षेत्र में एक पर्यटक स्थल है। यह माना जाता है कि:

Options :

1. ✔ श्री कृष्ण ने यहां अर्जुन को भगवद् गीता सुनाई थी।
2. ✘ यह भारत के 51 शक्ति पीठों में से एक है।
3. ✘ यहाँ श्री कृष्ण जी का निधन हुआ था।
4. ✘ यहाँ श्री राम जी का निधन हुआ था।

Question Number : 23 Question Id : 627289423 Display Question Number : Yes Single Line Question Option : No Option Orientation : Vertical

According to belief, Lord Brahma created the universe from:

Options :

1. ✔ Brahma Sarovar in Kurukshetra
2. ✘ Navagarh Kund in Kaithal
3. ✘ Thakurdwara in Jhajjar
4. ✘ Badkhal lake in Faridabad

Question Number : 23 Question Id : 627289423 Display Question Number : Yes Single Line Question Option : No Option Orientation : Vertical

आस्था के अनुसार, भगवान ब्रह्मा ने ब्रह्मांड की रचना किससे की थी?

Options :

1. ✔ कुरुक्षेत्र में ब्रह्म सरोवर
2. ✘ कैथल में नवगढ़ कुंड
3. ✘ झज्जर में ठाकुरद्वारा

4. ✘ फरीदाबाद में बड़खाल झील

Question Number : 24 Question Id : 627289424 Display Question Number : Yes Single Line Question Option : No Option Orientation : Vertical

In which among the following places of Haryana is the Lord Kartikeya Temple is located?

Options :

1. ✔ Kurukshetra
2. ✘ Gurugram
3. ✘ Jind
4. ✘ Sonipat

Question Number : 24 Question Id : 627289424 Display Question Number : Yes Single Line Question Option : No Option Orientation : Vertical

निम्नलिखित में से हरियाणा के कौन-से स्थान पर भगवान कार्तिकेय मंदिर स्थित है?

Options :

1. ✔ कुरुक्षेत्र
2. ✘ गुरुग्राम
3. ✘ जींद
4. ✘ सोनीपत

Question Number : 25 Question Id : 627289425 Display Question Number : Yes Single Line Question Option : No Option Orientation : Vertical

The Kalpana Chawla Memorial Planetarium was established in Kurukshetra in the year:

Options :

1. ✘ 2005
2. ✔ 2007
3. ✘ 2009
4. ✘ 2011

Question Number : 25 Question Id : 627289425 Display Question Number : Yes Single Line Question Option : No Option Orientation : Vertical

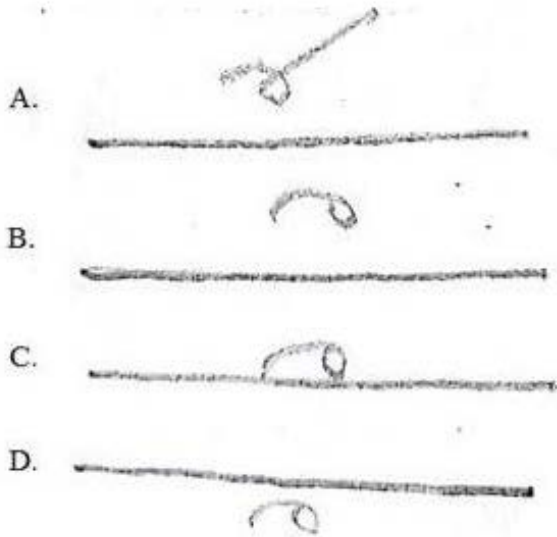
कुरुक्षेत्र में कल्पना चावला स्मारक तारामंडल कौन-से वर्ष में स्थापित किया गया था?

Options :

1. ✘ 2005
2. ✔ 2007
3. ✘ 2009
4. ✘ 2011

Question Number : 26 Question Id : 627289426 Display Question Number : Yes Single Line Question Option : No Option Orientation : Vertical

'मशहूर' का सही शब्द-चिह्न बताएँ:







Options :

1. ✘ A
2. ✘ B
3. ✔ C
4. ✘ D

Question Number : 26 Question Id : 627289426 Display Question Number : Yes Single Line Question Option : No Option Orientation : Vertical

'मशहूर' का सही शब्द-चिह्न बताएँ:

- A. 
- B. 
- C. 
- D. 

Options :

1. ✘ A

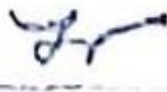



2. ✘ B

3. ✔ C

4. ✘ D

Question Number : 27 Question Id : 627289427 Display Question Number : Yes Single Line Question Option : No Option Orientation : Vertical

'उतने समय के लिए' का सही वाक्यांश पहचानें:

- A. 
- B. 
- C. 
- D. 

Options :

1. ✔ A

2. ✘ B

3. ✘ C

4. ✘ D

Question Number : 27 Question Id : 627289427 Display Question Number : Yes Single Line Question Option : No Option Orientation : Vertical

'उतने समय के लिए' का सही वाक्यांश पहचानें:

A.

B.

C.

D.

Options :

1. ✔ A



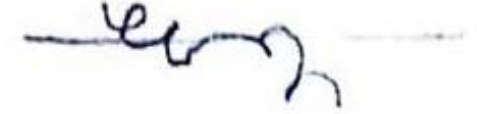
2. ✘ B

3. ✘ C

4. ✘ D

Question Number : 28 Question Id : 627289428 Display Question Number : Yes Single Line Question Option : No Option Orientation : Vertical

पूर्ण नियमानुसार 'वंदे मातरम्' को पहचानें:

- A. 
- B. 
- C. 
- D. 

Options :

1. ✓ A




2. ✗ B

3. ✗ C

4. ✗ D

Question Number : 28 Question Id : 627289428 Display Question Number : Yes Single Line Question Option : No Option Orientation : Vertical

पूर्ण नियमानुसार 'वंदे मातरम्' को पहचानें:

- A. 
- B. 
- C. 
- D. 

Options :

1. ✓ A





2. ✘ B

3. ✘ C

4. ✘ D

Question Number : 29 Question Id : 627289429 Display Question Number : Yes Single Line Question Option : No Option Orientation : Vertical

‘मेम्बर’ का सही संकेत-लिपि बताएँ:

- A. 
- B. 
- C. 
- D. 

Options :

1. ✘ A





2. ✘ B

3. ✔ C

4. ✘ D

Question Number : 29 Question Id : 627289429 Display Question Number : Yes Single Line Question Option : No Option Orientation : Vertical

‘मेम्बर’ का सही संकेत-लिपि बताएँ:





- A. 
- B. 
- C. 
- D. 

Options :

1. ✘ A
2. ✘ B
3. ✔ C
4. ✘ D

Question Number : 30 Question Id : 627289430 Display Question Number : Yes Single Line Question Option : No Option Orientation : Vertical

‘व्यवहार होना चाहिए’ इस शब्द-चिह्न को पहचानें:

- A. 
- B. 
- C. 
- D. 

Options :

1. ✘ A


2. ✘ B

3. ✔ C

4. ✘ D

Question Number : 30 Question Id : 627289430 Display Question Number : Yes Single Line Question Option : No Option Orientation : Vertical

‘व्यवहार होना चाहिए’ इस शब्द-चिह्न को पहचानें:



Options :

1. ✘ A

2. ✘ B

3. ✔ C

4. ✘ D

Question Number : 31 Question Id : 627289431 Display Question Number : Yes Single Line Question Option : No Option Orientation : Vertical

पूर्ण नियमानुसार इस संकेत लिपि को बताएँ।

Options :

1. ✔ परीक्षा समिति

2. ✘ परीक्षा संपर्क

3. ✘ परीक्षा संबंध

4. ✘ परीक्षा संग्रह

Question Number : 31 Question Id : 627289431 Display Question Number : Yes Single Line Question Option : No Option Orientation : Vertical

पूर्ण नियमानुसार  इस संकेत लिपि को बताएँ।

Options :


1. ✔ परीक्षा समिति

2. ✘ परीक्षा संपर्क

3. ✘ परीक्षा संबंध

4. ✘ परीक्षा संग्रह

Question Number : 32 Question Id : 627289432 Display Question Number : Yes Single Line Question Option : No Option Orientation : Vertical

इस वाक्यांश को पहचानें: 

Options :


1. ✘ अन्तर देश पोस्ट

2. ✔ अन्तरदेशीय पत्र

3. ✘ अन्तरदेशीय पोस्ट

4. ✘ अन्तरदेशीय पेस्ट

Question Number : 32 Question Id : 627289432 Display Question Number : Yes Single Line Question Option : No Option Orientation : Vertical

इस वाक्यांश को पहचानें: 





Options :

1. ✘ अन्तर देश पोस्ट

2. ✓ अन्तरदेशीय पत्र
3. ✗ अन्तरदेशीय पोस्ट
4. ✗ अन्तरदेशीय पेस्ट

Question Number : 33 Question Id : 627289433 Display Question Number : Yes Single Line Question Option : No Option Orientation : Vertical

'आदि से अंत तक' का सही संकेत लिपि पूर्ण नियमानुसार बताएँ:

- A. 
- B. 
- C. 
- D. 

Options :

1. ✗ A
2. ✗ B
3. ✓ C
4. ✗ D

Question Number : 33 Question Id : 627289433 Display Question Number : Yes Single Line Question Option : No Option Orientation : Vertical

‘आदि से अंत तक’ का सही संकेत लिपि पूर्ण नियमानुसार बताएँ:

- A.
- B.
- C.
- D.

Options :

1. ✘ A
2. ✘ B
3. ✔ C
4. ✘ D

Question Number : 34 Question Id : 627289434 Display Question Number : Yes Single Line Question Option : No Option Orientation : Vertical

पूर्ण नियमानुसार इस वाक्यांश को पहचानें।

Options :

1. ✔ संदेह जनक
2. ✘ संतोष जनक
3. ✘ संदेश जनक
4. ✘ संदर्भ जनक

Question Number : 34 Question Id : 627289434 Display Question Number : Yes Single Line Question Option : No Option Orientation : Vertical

पूर्ण नियमानुसार 6 इस वाक्यांश को पहचानें।

Options :

1. ✓ संदेह जनक
2. ✗ संतोष जनक
3. ✗ संदेश जनक
4. ✗ संदर्भ जनक

Question Number : 35 Question Id : 627289435 Display Question Number : Yes Single Line Question Option : No Option Orientation : Vertical

6 इस संकेत लिपि को पहचाने।

Options :

1. ✗ वह
2. ✗ वही
3. ✓ वे ही
4. ✗ वे

Question Number : 35 Question Id : 627289435 Display Question Number : Yes Single Line Question Option : No Option Orientation : Vertical

6 इस संकेत लिपि को पहचाने।

Options :

1. ✗ वह
2. ✗ वही
3. ✓ वे ही
4. ✗ वे

Question Number : 36 Question Id : 627289436 Display Question Number : Yes Single Line Question Option : No Option Orientation : Vertical

इस वाक्यांश को सही नियमानुसार पहचाने।

Options :

1. ✓ हमेशा के लिए जा रहा है
2. ✗ हमेशा जा रहा है
3. ✗ हमेशा लिए जा रहा है
4. ✗ हमेशा से जा रहा है

Question Number : 36 Question Id : 627289436 Display Question Number : Yes Single Line Question Option : No Option Orientation : Vertical

इस वाक्यांश को सही नियमानुसार पहचाने।

Options :

1. ✓ हमेशा के लिए जा रहा है
2. ✗ हमेशा जा रहा है
3. ✗ हमेशा लिए जा रहा है
4. ✗ हमेशा से जा रहा है

Question Number : 37 Question Id : 627289437 Display Question Number : Yes Single Line Question Option : No Option Orientation : Vertical

'किसी प्रकार' को पूर्ण नियमानुसार पहचाने।

- A.
- B.
- C.
- D.

Options :

1. ✘ A

2. ✔ B

3. ✘ C

4. ✘ D

Question Number : 37 Question Id : 627289437 Display Question Number : Yes Single Line Question Option : No Option Orientation : Vertical

‘किसी प्रकार’ को पूर्ण नियमानुसार पहचाने।

A.

B.

C.

D.

Options :

1. ✘ A

2. ✔ B

3. ✘ C

4. ✘ D

Question Number : 38 Question Id : 627289438 Display Question Number : Yes Single Line Question Option : No Option Orientation : Vertical

इस संकेत लिपि को पहचानें।

Options :

1. ✘ तुम कभी

2. ✔ तुम भी

3. ✘ तुम अभी

4. ✘ तुमसे

Question Number : 38 Question Id : 627289438 Display Question Number : Yes Single Line Question Option : No Option Orientation : Vertical



इस संकेत लिपि को पहचानें।

Options :

1. ✘ तुम कभी

2. ✔ तुम भी

3. ✘ तुम अभी

4. ✘ तुमसे

Question Number : 39 Question Id : 627289439 Display Question Number : Yes Single Line Question Option : No Option Orientation : Vertical

पूर्ण नियमानुसार



इस संकेत लिपि को बताएँ:

Options :

1. ✘ अन्तरदेशीय भाषा के रूप में

2. ✔ अन्तरप्रांतीय भाषा के रूप में

3. ✘ अन्तरप्रान्त भाषा के रूप में

4. ✘ आदरणीय भाषा के रूप में

Question Number : 39 Question Id : 627289439 Display Question Number : Yes Single Line Question Option : No Option Orientation : Vertical

पूर्ण नियमानुसार



इस संकेत लिपि को बताएँ:

Options :

1. ✘ अन्तरदेशीय भाषा के रूप में
2. ✔ अन्तरप्रांतीय भाषा के रूप में
3. ✘ अन्तरप्रान्त भाषा के रूप में
4. ✘ आदरणीय भाषा के रूप में

Question Number : 40 Question Id : 627289440 Display Question Number : Yes Single Line Question Option : No Option Orientation : Vertical



इस संकेत लिपि को पहचानें।

Options :

1. ✘ यह
2. ✘ यही
3. ✘ ये
4. ✔ ये ही

Question Number : 40 Question Id : 627289440 Display Question Number : Yes Single Line Question Option : No Option Orientation : Vertical







इस संकेत लिपि को पहचानें।

Options :

1. ✘ यह
2. ✘ यही
3. ✘ ये
4. ✔ ये ही

Question Number : 41 Question Id : 627289441 Display Question Number : Yes Single Line Question Option : No Option Orientation : Vertical

‘वही’ का संकेत लिपि पहचानें।





- A. 
- B. 
- C. 
- D. 

Options :

1. ✘ A
2. ✘ B
3. ✘ C
4. ✔ D

Question Number : 41 Question Id : 627289441 Display Question Number : Yes Single Line Question Option : No Option Orientation : Vertical

‘वही’ का संकेत लिपि पहचानें।

- A. 
- B. 
- C. 
- D. 





Options :

1. ✘ A
2. ✘ B
3. ✘ C

4. ✓ D

Question Number : 42 Question Id : 627289442 Display Question Number : Yes Single Line Question Option : No Option Orientation : Vertical

‘धीरे’ का सही संकेत लिपि बताएँ:

- A. 
- B. 
- C. 
- D. 

Options :

1. ✗ A





2. ✓ B

3. ✗ C

4. ✗ D

Question Number : 42 Question Id : 627289442 Display Question Number : Yes Single Line Question Option : No Option Orientation : Vertical

‘धीरे’ का सही संकेत लिपि बताएँ:

- A. 
- B. 
- C. 
- D. 

Options :

1. ✘ A


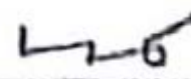


2. ✔ B

3. ✘ C

4. ✘ D

Question Number : 43 Question Id : 627289443 Display Question Number : Yes Single Line Question Option : No Option Orientation : Vertical

‘मैं खा चुका हूँ’ को पूर्ण नियमानुसार एक साथ कैसे लिखा जाएगा?

- A. 
- B. 
- C. 
- D. 

Options :

1. ✔ A


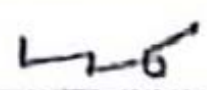


2. ✘ B

3. ✘ C

4. ✘ D

Question Number : 43 Question Id : 627289443 Display Question Number : Yes Single Line Question Option : No Option Orientation : Vertical

‘मैं खा चुका हूँ’ को पूर्ण नियमानुसार एक साथ कैसे लिखा जाएगा?

- A. 
- B. 
- C. 
- D. 

Options :

1. ✓ A
2. ✗ B
3. ✗ C
4. ✗ D

Question Number : 44 Question Id : 627289444 Display Question Number : Yes Single Line Question Option : No Option Orientation : Vertical

‘क वर्ग’ का सही संकेत लिपि क्या है?

Options :

1. ✗ ऊपर से नीचे
2. ✗ नीचे से ऊपर
3. ✗ दाहिने से बाएँ
4. ✓ बाएँ से दाहिने

Question Number : 44 Question Id : 627289444 Display Question Number : Yes Single Line Question Option : No Option Orientation : Vertical

‘क वर्ग’ का सही संकेत लिपि क्या है?





Options :

1. ✗ ऊपर से नीचे

2. ✘ नीचे से ऊपर
3. ✘ दाहिने से बाएँ
4. ✔ बाएँ से दाहिने

Question Number : 45 Question Id : 627289445 Display Question Number : Yes Single Line Question Option : No Option Orientation : Vertical

'उदाहरण' का सही शब्द-चिह्न बताएँ:

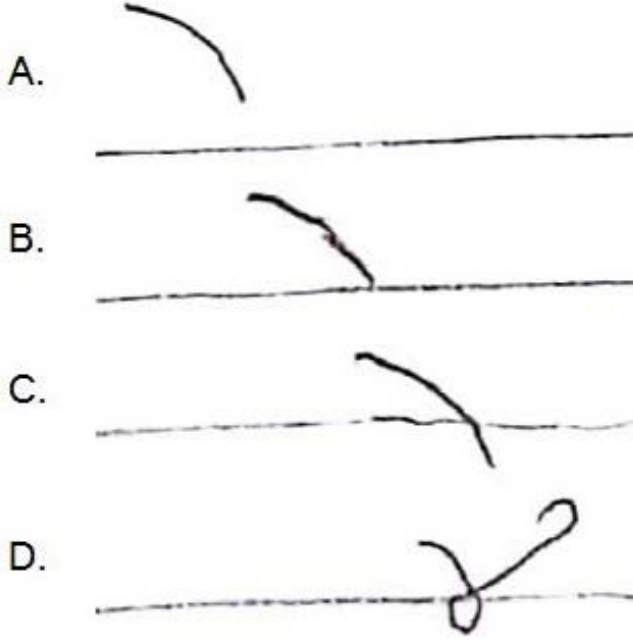
- A. 
- B. 
- C. 
- D. 

Options :

1. ✘ A
2. ✘ B
3. ✔ C
4. ✘ D

Question Number : 45 Question Id : 627289445 Display Question Number : Yes Single Line Question Option : No Option Orientation : Vertical

'उदाहरण' का सही शब्द-चिह्न बताएँ:



Options :

1. ✘ A
2. ✘ B
3. ✔ C
4. ✘ D

Question Number : 46 Question Id : 627289446 Display Question Number : Yes Single Line Question Option : No Option Orientation : Vertical

Fill in the blanks in the sentence below with suitable articles. Select your answer from the options given:

_____ International Paralympic Committee has postponed its World Championships in powerlifting and swimming following _____ earthquake in Mexico City.

Options :

1. ✔ The, the
2. ✘ An, an
3. ✘ The, a
4. ✘ A, an

Question Number : 46 Question Id : 627289446 Display Question Number : Yes Single Line Question Option : No Option Orientation : Vertical

Fill in the blanks in the sentence below with suitable articles. Select your answer from the options given:

_____ International Paralympic Committee has postponed its World Championships in powerlifting and swimming following _____ earthquake in Mexico City.

Options :

1. ✓ The, the
2. ✗ An, an
3. ✗ The, a
4. ✗ A, an

Question Number : 47 Question Id : 627289447 Display Question Number : Yes Single Line Question Option : No Option Orientation : Vertical

Fill in the blanks in the sentence below with suitable articles. Select your answer from the options given:

_____ stiff upper lip and _____ almost genetic love of tea are what makes _____ English, English.

Options :

1. ✓ A, an, the
2. ✗ A, the, the
3. ✗ The, an, the
4. ✗ The, the, an

Question Number : 47 Question Id : 627289447 Display Question Number : Yes Single Line Question Option : No Option Orientation : Vertical

Fill in the blanks in the sentence below with suitable articles. Select your answer from the options given:

_____ stiff upper lip and _____ almost genetic love of tea are what makes _____ English, English.

Options :

1. ✓ A, an, the
2. ✗ A, the, the
3. ✗ The, an, the
4. ✗ The, the, an

Question Number : 48 Question Id : 627289448 Display Question Number : Yes Single Line Question Option : No Option Orientation : Vertical

Fill in the blank in the sentence below with a suitable modal verb. Select your answer from the options given:

You _____ also be interested to know about the town that split the world into two.

Options :

1. ✘ should
2. ✔ may
3. ✘ can
4. ✘ will

Question Number : 48 Question Id : 627289448 Display Question Number : Yes Single Line Question Option : No Option Orientation : Vertical

Fill in the blank in the sentence below with a suitable modal verb. Select your answer from the options given:

You _____ also be interested to know about the town that split the world into two.

Options :

1. ✘ should
2. ✔ may
3. ✘ can
4. ✘ will

Question Number : 49 Question Id : 627289449 Display Question Number : Yes Single Line Question Option : No Option Orientation : Vertical

Read the sentence given below and fill in the blank with a collective noun. Select your answer from the options given below.

I read a story based upon Aesop's fable about an idle grasshopper, who whiles away his time playing his fiddle, while a _____ of ants toils nearby.

Options :

1. ✘ pod
2. ✘ gaggle
3. ✘ swarm
4. ✔ colony

Question Number : 49 Question Id : 627289449 Display Question Number : Yes Single Line Question Option : No Option Orientation : Vertical

Read the sentence given below and fill in the blank with a collective noun. Select your answer from the options given below.

I read a story based upon Aesop's fable about an idle grasshopper, who whiles away his time playing his fiddle, while a _____ of ants toils nearby.

Options :

1. ✘ pod
2. ✘ gaggle
3. ✘ swarm
4. ✔ colony

Question Number : 50 Question Id : 627289450 Display Question Number : Yes Single Line Question Option : No Option Orientation : Vertical

The passage below has been given in four parts as options. One of the parts contains an error. Select the option that has the error:

Options :

1. ✘ I know the postponement of both championships
2. ✘ will be disappointing news to all the athletes who were set to take part,
3. ✔ however these are unique circumstances and quiet simply
4. ✘ this is the right thing to do at the moment.

Question Number : 50 Question Id : 627289450 Display Question Number : Yes Single Line Question Option : No Option Orientation : Vertical

The passage below has been given in four parts as options. One of the parts contains an error. Select the option that has the error:

Options :

1. ✘ I know the postponement of both championships
2. ✘ will be disappointing news to all the athletes who were set to take part,
3. ✔ however these are unique circumstances and quiet simply
4. ✘ this is the right thing to do at the moment.

Question Number : 51 Question Id : 627289451 Display Question Number : Yes Single Line Question Option : No Option Orientation : Vertical

From the options given below, select the one that has the correct spelling of the highlighted word:

Options :

1. ✘

A **palendrome** is a word, phrase, number, or other sequence of characters which reads the same backward as forward, such as madam or racecar.

2. ✘

A **pelindrome** is a word, phrase, number, or other sequence of characters which reads the same backward as forward, such as madam or racecar.

3. ✔

A **palindrome** is a word, phrase, number, or other sequence of characters which reads the same backward as forward, such as madam or racecar.

4. ✘

A **pallindrome** is a word, phrase, number, or other sequence of characters which reads the same backward as forward, such as madam or racecar.

Question Number : 51 Question Id : 627289451 Display Question Number : Yes Single Line Question Option : No Option Orientation : Vertical

From the options given below, select the one that has the correct spelling of the highlighted word:

Options :

1. ✘

A **palendrome** is a word, phrase, number, or other sequence of characters which reads the same backward as forward, such as madam or racecar.

2. ✘

A **pelindrome** is a word, phrase, number, or other sequence of characters which reads the same backward as forward, such as madam or racecar.

3. ✔

A **palindrome** is a word, phrase, number, or other sequence of characters which reads the same backward as forward, such as madam or racecar.

4. ✘

A **pallindrome** is a word, phrase, number, or other sequence of characters which reads the same backward as forward, such as madam or racecar.

Question Number : 52 Question Id : 627289452 Display Question Number : Yes Single Line Question Option : No Option Orientation : Vertical

Select the option that offers the correct synonym of the highlighted word in the sentence given below. Pay attention to the meaning of the highlighted word in context of the sentence:

Sinop, Turkey, was the birthplace of philosopher Diogenes, who **encouraged** those he met to enjoy what they had and care nothing for what they didn't have.

Options :

1. ✘ calmed

2. ✘ ignored
3. ✘ provoked
4. ✔ goaded

Question Number : 52 Question Id : 627289452 Display Question Number : Yes Single Line Question Option : No Option Orientation : Vertical

Select the option that offers the correct synonym of the highlighted word in the sentence given below. Pay attention to the meaning of the highlighted word in context of the sentence:

Sinop, Turkey, was the birthplace of philosopher Diogenes, who **encouraged** those he met to enjoy what they had and care nothing for what they didn't have.

Options :

1. ✘ calmed
2. ✘ ignored
3. ✘ provoked
4. ✔ goaded

Question Number : 53 Question Id : 627289453 Display Question Number : Yes Single Line Question Option : No Option Orientation : Vertical

Select the option that offers the correct antonym of the highlighted word in the sentence given below. Pay attention to the meaning of the highlighted word in context of the sentence:

There were no traffic lights, but compared with the **chaotic** streets of Istanbul, the cars circulated in harmony.

Options :

1. ✘ Normal
2. ✘ Tumultuous
3. ✔ Systematic
4. ✘ Anarchic

Question Number : 53 Question Id : 627289453 Display Question Number : Yes Single Line Question Option : No Option Orientation : Vertical

Select the option that offers the correct antonym of the highlighted word in the sentence given below. Pay attention to the meaning of the highlighted word in context of the sentence:

There were no traffic lights, but compared with the **chaotic** streets of Istanbul, the cars circulated in harmony.

Options :

1. ✘ Normal
2. ✘ Tumultuous
3. ✔ Systematic
4. ✘ Anarchic

Question Number : 54 Question Id : 627289454 Display Question Number : Yes Single Line Question Option : No Option Orientation : Vertical

Select from the options given below the one that employs an appropriate tag question:

You would scarcely expect her to do that, _____

Options :

1. ✔ would you?
2. ✘ will you?
3. ✘ wouldn't you?
4. ✘ won't you ?

Question Number : 54 Question Id : 627289454 Display Question Number : Yes Single Line Question Option : No Option Orientation : Vertical

Select from the options given below the one that employs an appropriate tag question:

You would scarcely expect her to do that, _____

Options :

1. ✔ would you?
2. ✘ will you?
3. ✘ wouldn't you?
4. ✘ won't you ?

Question Number : 55 Question Id : 627289455 Display Question Number : Yes Single Line Question Option : No Option Orientation : Vertical

From the options given below select the one that has the prepositions placed correctly to form a proper sentence:

Options :

1. ✘

Nestled among endless Georgian fields and the unrecognised break-away region of South Ossetia, the city of Gori has it tough, but there are glimmers of hope among the hostility.

2. ✘

Nestled between endless Georgian fields and the unrecognised break-away region on South Ossetia, the city of Gori has it tough, but there are glimmers of hope among the hostility.

3. ✘

Nestled among endless Georgian fields and the unrecognised break-away region of South Ossetia, the city of Gori has it tough, but there are glimmers of hope amongst the hostility.

4. ✔

Nestled between endless Georgian fields and the unrecognised break-away region of South Ossetia, the city of Gori has it tough, but there are glimmers of hope among the hostility.

Question Number : 55 Question Id : 627289455 Display Question Number : Yes Single Line Question Option : No Option Orientation : Vertical

From the options given below select the one that has the prepositions placed correctly to form a proper sentence:

Options :

1. ✘

Nestled among endless Georgian fields and the unrecognised break-away region of South Ossetia, the city of Gori has it tough, but there are glimmers of hope among the hostility.

2. ✘

Nestled between endless Georgian fields and the unrecognised break-away region on South Ossetia, the city of Gori has it tough, but there are glimmers of hope among the hostility.

3. ✘

Nestled among endless Georgian fields and the unrecognised break-away region of South Ossetia, the city of Gori has it tough, but there are glimmers of hope amongst the hostility.

4. ✔

Nestled between endless Georgian fields and the unrecognised break-away region of South Ossetia, the city of Gori has it tough, but there are glimmers of hope among the hostility.

Question Number : 56 Question Id : 627289456 Display Question Number : Yes Single Line Question Option : No Option Orientation : Vertical

कौन-सा शब्द तद्भव होगा?

Options :

1. ✘ उपनयन

2. ✘ कवि

3. ✘ विवाह

4. ✓ आधा

Question Number : 56 Question Id : 627289456 Display Question Number : Yes Single Line Question Option : No Option Orientation : Vertical

कौन-सा शब्द तद्भव होगा?

Options :

1. ✗ उपनयन

2. ✗ कवि

3. ✗ विवाह

4. ✓ आधा

Question Number : 57 Question Id : 627289457 Display Question Number : Yes Single Line Question Option : No Option Orientation : Vertical

निम्नलिखित में से कौन-सा शब्द तत्सम होगा?

Options :

1. ✗ कौआ

2. ✓ नृत्य

3. ✗ सिर

4. ✗ किसान

Question Number : 57 Question Id : 627289457 Display Question Number : Yes Single Line Question Option : No Option Orientation : Vertical

निम्नलिखित में से कौन-सा शब्द तत्सम होगा?

Options :

1. ✗ कौआ

2. ✓ नृत्य

3. ✗ सिर

4. ✗ किसान

Question Number : 58 Question Id : 627289458 Display Question Number : Yes Single Line Question Option : No Option Orientation : Vertical

‘यथोचित’ शब्द का संधि विच्छेद होगा:

Options :

1. ✘ यथा + ऊचित
2. ✘ यत् + उचित
3. ✘ यद् + उचित
4. ✔ यथा + उचित

Question Number : 58 Question Id : 627289458 Display Question Number : Yes Single Line Question Option : No Option Orientation : Vertical

‘यथोचित’ शब्द का संधि विच्छेद होगा:

Options :

1. ✘ यथा + ऊचित
2. ✘ यत् + उचित
3. ✘ यद् + उचित
4. ✔ यथा + उचित

Question Number : 59 Question Id : 627289459 Display Question Number : Yes Single Line Question Option : No Option Orientation : Vertical

कौन-सा शब्द ‘दास’ का पर्यायवाची नहीं है?

Options :

1. ✘ अनुचर
2. ✘ नौकर
3. ✔ अजित
4. ✘ सेवक

Question Number : 59 Question Id : 627289459 Display Question Number : Yes Single Line Question Option : No Option Orientation : Vertical

कौन-सा शब्द 'दास' का पर्यायवाची नहीं है?

Options :

1. ✘ अनुचर
2. ✘ नौकर
3. ✔ अजित
4. ✘ सेवक

Question Number : 60 Question Id : 627289460 Display Question Number : Yes Single Line Question Option : No Option Orientation : Vertical

रेखांकित मुहावरे का अर्थ स्पष्ट कीजिये।

'बेटा मां की आंख का तारा है।'

Options :

1. ✘ आधारित होना
2. ✘ बेचैन होना
3. ✔ बहुत ही प्यारा
4. ✘ भयभीत होना

Question Number : 60 Question Id : 627289460 Display Question Number : Yes Single Line Question Option : No Option Orientation : Vertical

रेखांकित मुहावरे का अर्थ स्पष्ट कीजिये।

'बेटा मां की आंख का तारा है।'

Options :

1. ✘ आधारित होना
2. ✘ बेचैन होना
3. ✔ बहुत ही प्यारा
4. ✘ भयभीत होना

Question Number : 61 Question Id : 627289461 Display Question Number : Yes Single Line Question Option : No Option Orientation : Vertical

कौन-सा वाक्य शुद्ध है?

Options :

1. ✓ मैं और मेरे भाई पाठशाला जा रहे हैं।
2. ✗ मैं और मेरे भाई पाठशाला जाते है।
3. ✗ मैं ओर मेरा भाई पाठशाला को जा रहे है।
4. ✗ में और मेरे भाइ पाठशाला जा रहे है।

Question Number : 61 Question Id : 627289461 Display Question Number : Yes Single Line Question Option : No Option Orientation : Vertical

कौन-सा वाक्य शुद्ध है?

Options :

1. ✓ मैं और मेरे भाई पाठशाला जा रहे हैं।
2. ✗ में और मेरे भाई पाठशाला जाते है।
3. ✗ मैं ओर मेरा भाई पाठशाला को जा रहे है।
4. ✗ में और मेरे भाइ पाठशाला जा रहे है।

Question Number : 62 Question Id : 627289462 Display Question Number : Yes Single Line Question Option : No Option Orientation : Vertical

रौद्र रस का स्थायीभाव होगा:

Options :

1. ✗ भय
2. ✗ रति
3. ✗ उत्साह
4. ✓ क्रोध

Question Number : 62 Question Id : 627289462 Display Question Number : Yes Single Line Question Option : No Option Orientation : Vertical

रौद्र रस का स्थायीभाव होगा:

Options :

1. ✘ भय
2. ✘ रति
3. ✘ उत्साह
4. ✔ क्रोध

Question Number : 63 Question Id : 627289463 Display Question Number : Yes Single Line Question Option : No Option Orientation : Vertical

'अन्धकार' शब्द का सटीक विलोम होगा:

Options :

1. ✘ निशा
2. ✘ रात
3. ✔ प्रकाश
4. ✘ रजनी

Question Number : 63 Question Id : 627289463 Display Question Number : Yes Single Line Question Option : No Option Orientation : Vertical

'अन्धकार' शब्द का सटीक विलोम होगा:

Options :

1. ✘ निशा
2. ✘ रात
3. ✔ प्रकाश
4. ✘ रजनी

Question Number : 64 Question Id : 627289464 Display Question Number : Yes Single Line Question Option : No Option Orientation : Vertical

"बोए पेड़ बबूल का तो आम कहां से होय" लोकोक्ति का सही अर्थ होगा:

Options :

1. ✔ जैसा कर्म करोगे वैसा फल पाओगे।

2. ✘ हमें कर्म करना चाहिए। फल की आशा नहीं रखनी चाहिए।
3. ✘ परिश्रमी सफल होता है।
4. ✘ लालच करना बुरी बात है।

Question Number : 64 Question Id : 627289464 Display Question Number : Yes Single Line Question Option : No Option Orientation : Vertical

“बोए पेड़ बबूल का तो आम कहां से होय” लोकोक्ति का सही अर्थ होगा:

Options :

1. ✔ जैसा कर्म करोगे वैसा फल पाओगे।
2. ✘ हमें कर्म करना चाहिए। फल की आशा नहीं रखनी चाहिए।
3. ✘ परिश्रमी सफल होता है।
4. ✘ लालच करना बुरी बात है।

Question Number : 65 Question Id : 627289465 Display Question Number : Yes Single Line Question Option : No Option Orientation : Vertical

“कनक कनक ते सौगुनी मादकता अधिकाय वा खाये बौराय नर वा पाये बौराय” प्रस्तुत पंक्ति में कौन-सा अलंकार समाहित है?

Options :

1. ✘ श्लेष अलंकार
2. ✔ यमक अलंकार
3. ✘ अनुप्रास अलंकार
4. ✘ उपमा अलंकार

Question Number : 65 Question Id : 627289465 Display Question Number : Yes Single Line Question Option : No Option Orientation : Vertical

“कनक कनक ते सौगुनी मादकता अधिकाय वा खाये बौराय नर वा पाये बौराय” प्रस्तुत पंक्ति में कौन-सा अलंकार समाहित है?

Options :

1. ✘ श्लेष अलंकार
2. ✔ यमक अलंकार
3. ✘ अनुप्रास अलंकार
4. ✘ उपमा अलंकार

Question Number : 66 Question Id : 627289466 Display Question Number : Yes Single Line Question Option : No Option Orientation : Vertical

The sum of two 4-digit numbers is 2562. If their HCF is 61, then the number of such pairs of numbers is:

Options :

1. ✘ 1
2. ✔ 2
3. ✘ 5
4. ✘ 6

Question Number : 66 Question Id : 627289466 Display Question Number : Yes Single Line Question Option : No Option Orientation : Vertical

4 अंकों की दो संख्याओं का योग 2562 है। यदि उनका महत्तम समापवर्तक (म.स.प.) 61 है, तो संख्याओं के ऐसे युग्मों की संख्या है:

Options :

1. ✘ 1
2. ✔ 2
3. ✘ 5
4. ✘ 6

Question Number : 67 Question Id : 627289467 Display Question Number : Yes Single Line Question Option : No Option Orientation : Vertical

A person spends 80% of his incomes. With the increase in the cost of living, his expenditure increases by $37\frac{1}{2}\%$ and income increases by $x\%$. If his new savings is $5\frac{5}{7}\%$, then the value of x is:

Options :

1. ✘ $9\frac{1}{3}$

2. ✘ $10\frac{2}{3}$

3. ✘ $12\frac{2}{3}$

4. ✔ $16\frac{2}{3}$

Question Number : 67 Question Id : 627289467 Display Question Number : Yes Single Line Question Option : No Option Orientation : Vertical

एक व्यक्ति अपनी आय का 80% खर्च कर देता है। जीवन-निर्वाह की लागत में वृद्धि के साथ उसका खर्च $37\frac{1}{2}\%$ और आय $x\%$ बढ़ जाती है। यदि उसकी नई बचत $5\frac{5}{7}\%$ हो, तो x का मान है:

Options :

1. ✘ $9\frac{1}{3}$

2. ✘ $10\frac{2}{3}$

3. ✘ $12\frac{2}{3}$

4. ✔ $16\frac{2}{3}$

Question Number : 68 Question Id : 627289468 Display Question Number : Yes Single Line Question Option : No Option Orientation : Vertical

The average score in mathematics of students of a class is x . The ratio of boys to girls is 3 : 2. If the average score of boys is $(x + 4)$, then what is the average score of girls?

Options :

1. ✘ $x + 3$

2. ✘ $x - 3$

3. ✔ $x - 6$

4. ✘ $x + 6$

Question Number : 68 Question Id : 627289468 Display Question Number : Yes Single Line Question Option : No Option Orientation : Vertical

किसी कक्षा के विद्यार्थियों का गणित में औसत प्राप्तांक x है। कक्षा में लड़कों और लड़कियों का अनुपात 3 : 2 है। यदि लड़कों का औसत प्राप्तांक $(x + 4)$ हो, तो लड़कियों का औसत प्राप्तांक क्या है?

Options :

1. ✘ $x + 3$
2. ✘ $x - 3$
3. ✔ $x - 6$
4. ✘ $x + 6$

Question Number : 69 Question Id : 627289469 Display Question Number : Yes Single Line Question Option : No Option Orientation : Vertical

A loan of ₹ 51,000 is to be paid back in two equal annual instalments. If the rate of interest charged is 4% per annum compounded annually, then the value of each instalment is:

Options :

1. ✔ ₹ 27,040
2. ✘ ₹ 26,640
3. ✘ ₹ 26,500
4. ✘ ₹ 25,500

Question Number : 69 Question Id : 627289469 Display Question Number : Yes Single Line Question Option : No Option Orientation : Vertical

₹ 51,000 का एक ऋण दो समान वार्षिक किस्तों में चुकाया जाना है। यदि 4% प्रति वर्ष की दर से चक्रवृद्धि ब्याज वार्षिक लग रहा हो, तो प्रत्येक किस्त का मान होगा:

Options :

1. ✔ ₹ 27,040
2. ✘ ₹ 26,640
3. ✘ ₹ 26,500
4. ✘ ₹ 25,500

Question Number : 70 Question Id : 627289470 Display Question Number : Yes Single Line Question Option : No Option Orientation : Vertical

A person sold article A for ₹ 369 and article B for ₹ 168.50, gaining 25% of the total cost price of A and B. Had he sold A for ₹ 325 and B at its cost price, he would have lost 5% of their total cost. The cost price of article B was:

Options :

1. ✘ ₹ 88
2. ✔ ₹ 83.50
3. ✘ ₹ 86.50
4. ✘ ₹ 90

Question Number : 70 Question Id : 627289470 Display Question Number : Yes Single Line Question Option : No Option Orientation : Vertical

एक व्यक्ति वस्तु A को ₹ 369 में और वस्तु B को ₹ 168.50 में बेचता है, और A तथा B के कुल लागत मूल्य का 25% लाभ प्राप्त करता है। यदि वह A को ₹ 325 में और B को उसकी लागत मूल्य पर बेचता, तो उसे कुल लागत मूल्य पर 5% की हानि होती। वस्तु B का लागत मूल्य था:

Options :

1. ✘ ₹ 88
2. ✔ ₹ 83.50
3. ✘ ₹ 86.50
4. ✘ ₹ 90

Question Number : 71 Question Id : 627289471 Display Question Number : Yes Single Line Question Option : No Option Orientation : Vertical

Three men and 6 women can complete a task in 12 days while 5 men and 6 women can complete the same task in 9 days. If the task has to be completed in 16 days by 2 men and x women, then the value of x must be:

Options :

1. ✘ 8
2. ✘ 6
3. ✔ 5
4. ✘ 4

Question Number : 71 Question Id : 627289471 Display Question Number : Yes Single Line Question Option : No Option Orientation : Vertical

किसी काम को 3 आदमी और 6 औरतें 12 दिन में तथा 5 आदमी और 6 औरतें 9 दिन में पूरा कर सकते हैं। यदि काम 16 दिन में 2 आदमियों और x औरतों द्वारा पूरा किया जाता है, तो x का मान होगा:

Options :

1. ✘ 8

2. ✘ 6

3. ✔ 5

4. ✘ 4

Question Number : 72 Question Id : 627289472 Display Question Number : Yes Single Line Question Option : No Option Orientation : Vertical

Sonu divided a certain sum among his sons Retvik, Apoorv and Monu in the ratio 2 : 3 : 5. If he had divided this sum in the ratio $\frac{1}{2} : \frac{1}{3} : \frac{1}{5}$, the son who got the least would have got ₹ 1,760 more. The initial difference (in ₹) of the shares of Apoorv and Monu is:

Options :

1. ✘ ₹ 1,860

2. ✔ ₹ 1,240

3. ✘ ₹ 980

4. ✘ ₹ 640

Question Number : 72 Question Id : 627289472 Display Question Number : Yes Single Line Question Option : No Option Orientation : Vertical

सोनू एक निश्चित राशि को अपने पुत्रों रित्विक, अपूर्व और मोनू में 2 : 3 : 5 के अनुपात में बांटता है। यदि वह इस राशि को $\frac{1}{2} : \frac{1}{3} : \frac{1}{5}$ के अनुपात में बांटता, तो जिस पुत्र को अभी सबसे कम राशि मिली है, उसे ₹ 1,760 अधिक मिलते। अपूर्व और मोनू के हिस्सों का आरंभिक अंतर (₹ में) है:

Options :

1. ✘ ₹ 1,860

2. ✔ ₹ 1,240

3. ✘ ₹ 980

4. ✘ ₹ 640

Question Number : 73 Question Id : 627289473 Display Question Number : Yes Single Line Question Option : No Option Orientation : Vertical

A and B started walking towards each other at the same time from place X to Y and Y to X respectively. After meeting on the way, A and B took 4.9 hours and 8.1 hours respectively to reach their destinations. The time in hours taken by them to meet each other on the way is:

Options :

1. ✓ 6.3

2. ✗ 6.5

3. ✗ 5.8

4. ✗ 5.5

Question Number : 73 Question Id : 627289473 Display Question Number : Yes Single Line Question Option : No Option Orientation : Vertical

A और B एक ही समय पर क्रमशः स्थान X से Y और Y से X तक एक दूसरे की ओर चलना शुरू करते हैं। रास्ते में मिलने के बाद A और B अपने-अपने गंतव्य तक पहुंचने के लिए क्रमशः 4.9 घंटे तथा 8.1 घंटे लेते हैं। रास्ते में एक-दूसरे से मिलने के लिए उनके द्वारा लिया गया समय (घंटों में) है:

Options :

1. ✓ 6.3

2. ✗ 6.5

3. ✗ 5.8

4. ✗ 5.5

Question Number : 74 Question Id : 627289474 Display Question Number : Yes Single Line Question Option : No Option Orientation : Vertical

Vessels A and B contain solutions of alcohol and water in the ratio 7 : 3 and 4 : 3. 20 litre solution from A and 7 litre from B are taken out and mixed in vessel C. The ratio of alcohol to water in vessel C is:

Options :

1. ✗ 2 : 3

2. ✗ 1 : 2

3. ✓ 2 : 1

4. ✗ 3 : 2

Question Number : 74 Question Id : 627289474 Display Question Number : Yes Single Line Question Option : No Option Orientation : Vertical

दो पात्रों A और B में एल्कोहल और पानी के विलयन क्रमशः 7 : 3 तथा 4 : 3 के अनुपात में रखे हुए हैं। A से 20 लीटर और B से 7 लीटर विलयन निकाल कर पात्र C में मिला दिया जाता है। पात्र C में एल्कोहल और पानी का अनुपात होगा:

Options :

1. ✘ 2 : 3

2. ✘ 1 : 2

3. ✔ 2 : 1

4. ✘ 3 : 2

Question Number : 75 Question Id : 627289475 Display Question Number : Yes Single Line Question Option : No Option Orientation : Vertical

If α and β are the roots of the equation $(x + 1)^{-1} + 2(x + 2)^{-1} = 4(x + 4)^{-1}$, then the value of $\frac{(\alpha + \beta) + 2\alpha\beta}{|\alpha - \beta|}$ is:

Options :

1. ✘ $\frac{\sqrt{3}}{3}$

2. ✘ $\frac{2\sqrt{3}}{3}$

3. ✔ $\sqrt{3}$

4. ✘ $\frac{-2\sqrt{3}}{3}$

Question Number : 75 Question Id : 627289475 Display Question Number : Yes Single Line Question Option : No Option Orientation : Vertical

यदि α और β समीकरण $(x + 1)^{-1} + 2(x + 2)^{-1} = 4(x + 4)^{-1}$ के मूल हों, तो $\frac{(\alpha + \beta) + 2\alpha\beta}{|\alpha - \beta|}$ का मान होगा:

Options :

1. ✘ $\frac{\sqrt{3}}{3}$

2. ✘ $\frac{2\sqrt{3}}{3}$

3. ✔ $\sqrt{3}$

4. ✘ $\frac{-2\sqrt{3}}{3}$

Question Number : 76 Question Id : 627289476 Display Question Number : Yes Single Line Question Option : No Option Orientation : Vertical

A ball of 400 g is moving in a straight line. A constant force increases the velocity of the ball from 1 m/s to 5 m/s in 10 s. The change in the momentum of the ball is:

Options :

1. ✘ 0.4 kg m s⁻¹
2. ✘ 0.8 kg m s⁻¹
3. ✔ 1.6 kg m s⁻¹
4. ✘ 2.0 kg m s⁻¹

Question Number : 76 Question Id : 627289476 Display Question Number : Yes Single Line Question Option : No Option Orientation : Vertical

400 ग्राम की एक गेंद एक सीधी रेखा में चल रही है। एक नियत बल 10 सेकंड में गेंद के वेग को 1 मीटर/सेकंड से 5 मीटर/सेकंड तक बढ़ाता है। गेंद के संवेग में परिवर्तन होगा:

Options :

1. ✘ 0.4 किलोग्राम मीटर सेकंड⁻¹
2. ✘ 0.8 किलोग्राम मीटर सेकंड⁻¹
3. ✔ 1.6 किलोग्राम मीटर सेकंड⁻¹
4. ✘ 2.0 किलोग्राम मीटर सेकंड⁻¹

Question Number : 77 Question Id : 627289477 Display Question Number : Yes Single Line Question Option : No Option Orientation : Vertical

A girl of 36 kg jumps with a horizontal velocity of 5 m/s onto a stationary cart of 4 kg free to move on a smooth plane surface. The magnitude of her velocity after the cart starts moving is:

Options :

1. ✘ 2.5 m/s
2. ✘ 3.6 m/s
3. ✔ 4.5 m/s
4. ✘ 5.2 m/s

Question Number : 77 Question Id : 627289477 Display Question Number : Yes Single Line Question Option : No Option
Orientation : Vertical

36 किलोग्राम की एक लड़की 5 मीटर/सेकंड के क्षैतिज वेग के साथ 4 किलोग्राम की एक स्थिर ठेलागाड़ी पर कूदती है जो एक चिकने समतल पृष्ठ पर चलने के लिए स्वतंत्र है। ठेलागाड़ी के चलने के बाद लड़की के वेग का परिमाण होगा:

Options :

1. ✘ 2.5 मीटर/सेकंड
2. ✘ 3.6 मीटर/सेकंड
3. ✔ 4.5 मीटर/सेकंड
4. ✘ 5.2 मीटर/सेकंड

Question Number : 78 Question Id : 627289478 Display Question Number : Yes Single Line Question Option : No Option
Orientation : Vertical

A boy raises an object of 6 kg to a height of 1.5 m. In this process, the work done by the force of gravity is:

Options :

1. ✘ 44.1 J
2. ✘ -44.1 J
3. ✘ 88.2 J
4. ✔ -88.2 J

Question Number : 78 Question Id : 627289478 Display Question Number : Yes Single Line Question Option : No Option
Orientation : Vertical

एक लड़का 6 किलोग्राम की एक वस्तु को 1.5 मीटर की ऊंचाई तक उठाता है। इस प्रक्रिया में, गुरुत्वाकर्षण बल द्वारा किया गया कार्य है:

Options :

1. ✘ 44.1 जूल
2. ✘ -44.1 जूल
3. ✘ 88.2 जूल
4. ✔ -88.2 जूल

Question Number : 79 Question Id : 627289479 Display Question Number : Yes Single Line Question Option : No Option
Orientation : Vertical

Rachna, whose mass is 32 kg, runs up a flight of stairs in her school having a rise of 5 m in a time of 4.9 s. The rate of work done by her is:

Options :

1. ✘ 160 W
2. ✘ 240 W
3. ✔ 320 W
4. ✘ 640 W

Question Number : 79 Question Id : 627289479 Display Question Number : Yes Single Line Question Option : No Option Orientation : Vertical

रचना, जिसका द्रव्यमान 32 किलोग्राम है, अपने स्कूल की 5 मीटर ऊंची सीढ़ियां 4.9 सेकंड में चढ़ जाती है। उसके द्वारा किए गए कार्य का दर है:

Options :

1. ✘ 160 वाट
2. ✘ 240 वाट
3. ✔ 320 वाट
4. ✘ 640 वाट

Question Number : 80 Question Id : 627289480 Display Question Number : Yes Single Line Question Option : No Option Orientation : Vertical

The mass of a planet is $\frac{1}{32}$ of the mass of the Earth and its radius is half that of the Earth. Let W_P and W_E be the weight of an object on the planet and the Earth, respectively. Then $\frac{W_P}{W_E}$ is:

Options :

1. ✘ $\frac{1}{2}$
2. ✘ $\frac{1}{4}$
3. ✔ $\frac{1}{8}$
4. ✘ $\frac{1}{12}$

Question Number : 80 Question Id : 627289480 Display Question Number : Yes Single Line Question Option : No Option Orientation : Vertical

एक ग्रह का द्रव्यमान पृथ्वी के द्रव्यमान का $\frac{1}{32}$ और उसकी त्रिज्या पृथ्वी की त्रिज्या की आधी है। माना कि ग्रह और पृथ्वी पर किसी वस्तु का भार क्रमशः W_P और W_E है। तो $\frac{W_P}{W_E}$ होगा:

Options :

1. ✘ $\frac{1}{2}$

2. ✘ $\frac{1}{4}$

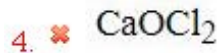
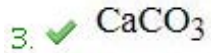
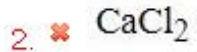
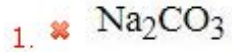
3. ✔ $\frac{1}{8}$

4. ✘ $\frac{1}{12}$

Question Number : 81 Question Id : 627289481 Display Question Number : Yes Single Line Question Option : No Option Orientation : Vertical

Carbon dioxide turns lime water milky due to the formation of:

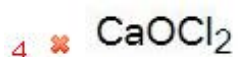
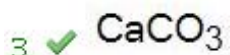

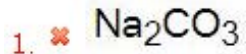
Options :



Question Number : 81 Question Id : 627289481 Display Question Number : Yes Single Line Question Option : No Option Orientation : Vertical

कार्बन डाइऑक्साइड इसके निर्माण के कारण चूने के पानी को दूधिया बना देता है:

Options :



Question Number : 82 Question Id : 627289482 Display Question Number : Yes Single Line Question Option : No Option Orientation : Vertical

How many replaceable hydrogen atoms are present in one molecule of Acetic acid?

Options :

1. ✓ 1

2. ✗ 2

3. ✗ 3

4. ✗ 4

Question Number : 82 Question Id : 627289482 Display Question Number : Yes Single Line Question Option : No Option Orientation : Vertical

एसीटिक अम्ल के एक अणु (मोलेक्यूल) में कितने प्रतिस्थापनीय हाइड्रोजन परमाणु (एटम) उपस्थित होते हैं?

Options :

1. ✓ 1

2. ✗ 2

3. ✗ 3

4. ✗ 4

Question Number : 83 Question Id : 627289483 Display Question Number : Yes Single Line Question Option : No Option Orientation : Vertical

The electronic configuration 2, 8, 1 is possible in which one of the following species?

Options :

1. ✗ Na^{+1}

2. ✓ Mg^{+1}

3. ✗ Mg^{+2}

4. ✗ Al^{+3}

Question Number : 83 Question Id : 627289483 Display Question Number : Yes Single Line Question Option : No Option Orientation : Vertical

निम्नलिखित में से किस प्रजाति में 2, 8, 1 इलेक्ट्रॉनिक विन्यास संभव है?

Options :

1. ✘ Na⁺¹2. ✔ Mg⁺¹3. ✘ Mg⁺²4. ✘ Al⁺³

Question Number : 84 Question Id : 627289484 Display Question Number : Yes Single Line Question Option : No Option Orientation : Vertical

How are metals of high reactivity generally extracted from their ores?

Options :

1. ✔ Electrolysis

2. ✘ Calcination

3. ✘ Roasting

4. ✘ Leaching

Question Number : 84 Question Id : 627289484 Display Question Number : Yes Single Line Question Option : No Option Orientation : Vertical

उच्च अभिक्रियाशील धातुओं को उनके अयस्कों से सामान्यतः किस प्रकार निष्कर्षित किया जाता है?

Options :

1. ✔ विद्युत अपघटन (इलेक्ट्रोलिसिस)

2. ✘ निस्तापन (कैल्सिनेशन)

3. ✘ भर्जन (रोस्टिंग)

4. ✘ निक्षालन (लीचिंग)

Question Number : 85 Question Id : 627289485 Display Question Number : Yes Single Line Question Option : No Option Orientation : Vertical

What is the total number of atoms present in 98 gram of Phosphoric acid?

Options :

1. ✔ $8 \times 6.023 \times 10^{23}$

2. ✘ 6.023×10^{23}

3. ✘ 6.023×10^{22}

4. ✘ 6.023×10^{21}

Question Number : 85 Question Id : 627289485 Display Question Number : Yes Single Line Question Option : No Option Orientation : Vertical

98 ग्राम फॉस्फोरिक अम्ल में उपस्थित कुल परमाणुओं (ऐटम) की संख्या कितनी होगी?

Options :

1. ✔ $8 \times 6.023 \times 10^{23}$

2. ✘ 6.023×10^{23}

3. ✘ 6.023×10^{22}

4. ✘ 6.023×10^{21}

Question Number : 86 Question Id : 627289486 Display Question Number : Yes Single Line Question Option : No Option Orientation : Vertical

Which of the following Indian states is associated with Saikuti Zai, a regional folk song?

Options :

1. ✘ Sikkim

2. ✘ Nagaland

3. ✘ Manipur

4. ✔ Mizoram

Question Number : 86 Question Id : 627289486 Display Question Number : Yes Single Line Question Option : No Option Orientation : Vertical

निम्नलिखित में से कौन-सा भारतीय राज्य साईकुती ज़ाइ नामक क्षेत्रीय लोक गीत से संबंधित है?

Options :

1. ✘ सिक्किम

2. ✘ नगालैंड
3. ✘ मणिपुर
4. ✔ मिज़ोरम

Question Number : 87 Question Id : 627289487 Display Question Number : Yes Single Line Question Option : No Option Orientation : Vertical

In which year did Gandhiji give a call against the Rowlatt Act passed by the British, which curbed fundamental rights such as the freedom of expression and strengthened police powers?

Options :

1. ✔ 1919
2. ✘ 1931
3. ✘ 1942
4. ✘ 1925

Question Number : 87 Question Id : 627289487 Display Question Number : Yes Single Line Question Option : No Option Orientation : Vertical

अंग्रेजों द्वारा पारित, अभिव्यक्ति की स्वतंत्रता जैसे मौलिक अधिकारों को प्रतिबंधित करने वाले और पुलिस को असीमित शक्ति प्रदान करने वाले, रॉलैट एक्ट के खिलाफ गांधी जी ने किस वर्ष आवाज़ उठाई थी?

Options :

1. ✔ 1919
2. ✘ 1931
3. ✘ 1942
4. ✘ 1925

Question Number : 88 Question Id : 627289488 Display Question Number : Yes Single Line Question Option : No Option Orientation : Vertical

Through which of the following states does river Godavari **NOT** flow?

Options :

1. ✘ Maharashtra
2. ✘ Andhra Pradesh

3. ✘ Madhya Pradesh

4. ✔ Jharkhand

Question Number : 88 Question Id : 627289488 Display Question Number : Yes Single Line Question Option : No Option Orientation : Vertical

निम्नलिखित में से किस राज्य से होकर गोदावरी नदी नहीं बहती?

Options :

1. ✘ महाराष्ट्र

2. ✘ आंध्र प्रदेश

3. ✘ मध्य प्रदेश

4. ✔ झारखंड

Question Number : 89 Question Id : 627289489 Display Question Number : Yes Single Line Question Option : No Option Orientation : Vertical

According to the Union Budget 2017-18, existing rate of taxation for resident senior citizen (who is 60 years or more at any time during the previous year but less than 80 years on the last day of the previous year) assesses between income of 3 lakhs to 5 lakhs is reduced to _____ from the present rate of _____ for the assessment year 2018-19.

Options :

1. ✔ 5%, 10%

2. ✘ 0%, 10%

3. ✘ 2.5%, 5%

4. ✘ 2.5%, 10%

Question Number : 89 Question Id : 627289489 Display Question Number : Yes Single Line Question Option : No Option Orientation : Vertical

केंद्रीय बजट 2017-18 के अनुसार मूल्यांकन वर्ष 2018-19 के लिए 3 लाख से 5 लाख के बीच की आय वाले निवासी-भारतीय वरिष्ठ नागरिक करदाताओं (जो पिछले वर्ष के दौरान किसी भी समय 60 वर्ष या उससे अधिक आयु के हैं, लेकिन पिछले वर्ष के अंतिम दिन 80 वर्ष से कम आयु के हैं) के लिए कराधान की दर _____ की वर्तमान दर से घटाकर _____ कर दी गई है।

Options :

1. ✔ 10%, 5%

2. ✘ 10%, 0%

3. ✘ 5%, 2.5%

4. ✘ 10%, 2.5%

Question Number : 90 Question Id : 627289490 Display Question Number : Yes Single Line Question Option : No Option Orientation : Vertical

According to the Constitution (Twenty-first Amendment) Act, 1967, which of the following languages was added to the Eighth Schedule of the Indian Constitution?

Options :

1. ✘ Konkani

2. ✔ Sindhi

3. ✘ Bodo

4. ✘ Nepali

Question Number : 90 Question Id : 627289490 Display Question Number : Yes Single Line Question Option : No Option Orientation : Vertical

संविधान (21वें संशोधन) अधिनियम 1967 के अनुसार भारतीय संविधान की आठवीं अनुसूची में निम्नलिखित में से कौन-सी भाषा जोड़ी गई?

Options :

1. ✘ कोंकणी

2. ✔ सिंधी

3. ✘ बोडो

4. ✘ नेपाली

Question Number : 91 Question Id : 627289491 Display Question Number : Yes Single Line Question Option : No Option Orientation : Vertical

Which of the following is the most recently discovered moon of the dwarf planet Pluto?

Options :

1. ✘ Hydra

2. ✔ Styx

3. ✘ Nix

4. ✘ Charon

Question Number : 91 Question Id : 627289491 Display Question Number : Yes Single Line Question Option : No Option Orientation : Vertical

क्षुद्र ग्रह प्लूटो का सबसे हाल में खोजा गया चंद्रमा निम्नलिखित में से कौन-सा है?

Options :

1. ✘ हाइड्रा
2. ✔ स्टाइक्स
3. ✘ निक्स
4. ✘ कैरन

Question Number : 92 Question Id : 627289492 Display Question Number : Yes Single Line Question Option : No Option Orientation : Vertical

Name the winner of the 89th Oscars 2017, under the Best Picture category.

Options :

1. ✘ Hidden Figures
2. ✘ Fences
3. ✔ Moonlight
4. ✘ Lion

Question Number : 92 Question Id : 627289492 Display Question Number : Yes Single Line Question Option : No Option Orientation : Vertical

2017 के 89वें ऑस्कर समारोह में सर्वश्रेष्ठ फिल्म श्रेणी की विजेता का नाम बताएँ।

Options :

1. ✘ हिडेन फ़िगर्स
2. ✘ फेन्सेज़
3. ✔ मूनलाइट
4. ✘ लायन

Question Number : 93 Question Id : 627289493 Display Question Number : Yes Single Line Question Option : No Option Orientation : Vertical

Ukrainian Sergey Bubka won six consecutive world titles between 1983 and 1997 in IAAF World Athletics Championships in which of the following athletic events?

Options :

1. ✘ Javelin Throw
2. ✘ Shot Put
3. ✔ Pole Vault
4. ✘ High Jump

Question Number : 93 Question Id : 627289493 Display Question Number : Yes Single Line Question Option : No Option Orientation : Vertical

1983 और 1997 के बीच आईएएफ विश्व एथलेटिक्स चैंपियनशिप में यूक्रेन के सर्गेई बुबका ने निम्नलिखित में से किस एथलेटिक खेल में लगातार छह विश्व खिताब जीते?

Options :

1. ✘ भाला फेंक
2. ✘ गोला फेंक
3. ✔ बांस कूद (पोल वॉल्ट)
4. ✘ ऊंची कूद (हाई जम्प)

Question Number : 94 Question Id : 627289494 Display Question Number : Yes Single Line Question Option : No Option Orientation : Vertical

In 2017, which of the following fields was conferred with the maximum Padma Bhushan awards?

Options :

1. ✘ Medicine
2. ✘ Art
3. ✘ Social Work
4. ✔ Literature and Education

Question Number : 94 Question Id : 627289494 Display Question Number : Yes Single Line Question Option : No Option Orientation : Vertical

2017 में अधिकांश पद्म भूषण सम्मान निम्नलिखित में से किस क्षेत्र में प्रदान किए गए?

Options :

1. ✘ चिकित्सा
2. ✘ कला
3. ✘ सामाजिक कार्य
4. ✔ साहित्य और शिक्षा

Question Number : 95 Question Id : 627289495 Display Question Number : Yes Single Line Question Option : No Option Orientation : Vertical

From the UNESCO world heritage sites, which of the following in India is a natural property?

Options :

1. ✘ Elephanta Caves
2. ✘ Champaner-Pavagarh Archaeological Park
3. ✔ Keoladeo National Park
4. ✘ Ajanta Caves

Question Number : 95 Question Id : 627289495 Display Question Number : Yes Single Line Question Option : No Option Orientation : Vertical

यूनेस्को विश्व विरासत स्थलों में निम्नलिखित में से कौन भारत का प्राकृतिक स्थल है?

Options :

1. ✘ एलिफेन्टा की गुफाएं
2. ✘ चंपानेर-पावागढ़ पुरातत्व उद्यान
3. ✔ केवलादेव राष्ट्रीय उद्यान
4. ✘ अजंता की गुफाएं

Question Number : 96 Question Id : 627289496 Display Question Number : Yes Single Line Question Option : No Option Orientation : Vertical

If LEOPARD can be written as OHRSDUG, then MONKEY can be written as _____.

Options :

1. ✘ PQRNHB
2. ✔ PRQNHB
3. ✘ PRQHNB
4. ✘ PRQBHN

Question Number : 96 Question Id : 627289496 Display Question Number : Yes Single Line Question Option : No Option Orientation : Vertical

यदि LEOPARD को OHRSDUG लिखा जा सकता है तो MONKEY को _____ लिखा जा सकता है।

Options :

1. ✘ PQRNHB
2. ✔ PRQNHB
3. ✘ PRQHNB
4. ✘ PRQBHN

Question Number : 97 Question Id : 627289497 Display Question Number : Yes Single Line Question Option : No Option Orientation : Vertical

Complete the analogy.

Men : Cap :: Women : _____

Options :

1. ✘ Hat
2. ✘ Hair band
3. ✘ Towel
4. ✔ Scarf

Question Number : 97 Question Id : 627289497 Display Question Number : Yes Single Line Question Option : No Option Orientation : Vertical

सादृश्य को पूरा करें।

पुरुष : कैप :: महिला : _____

Options :

1. ✘ हैट
2. ✘ हेयर बैंड
3. ✘ टॉवल
4. ✔ स्कार्फ

Question Number : 98 Question Id : 627289498 Display Question Number : Yes Single Line Question Option : No Option Orientation : Vertical

Insert the group of letters that completes the first word and begins the second.

PILL () CH

Options :

1. ✘ ER
2. ✔ AR
3. ✘ ES
4. ✘ NT

Question Number : 98 Question Id : 627289498 Display Question Number : Yes Single Line Question Option : No Option Orientation : Vertical

उस अक्षर-युग्म को चुनें जो पहले शब्द को पूरा करता हो और दूसरे शब्द का आरम्भ करता हो।

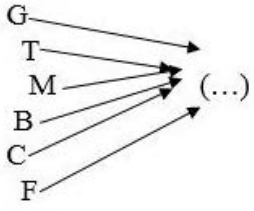
PILL () CH

Options :

1. ✘ ER
2. ✔ AR
3. ✘ ES
4. ✘ NT

Question Number : 99 Question Id : 627289499 Display Question Number : Yes Single Line Question Option : No Option Orientation : Vertical

Select the group of letters which can have any of the letters in the below image appended to it as a prefix to make an English word.

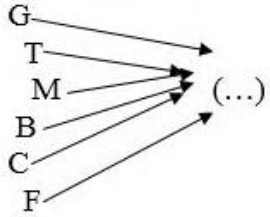


Options :

1. ✘ UN
2. ✘ EN
3. ✔ OLD
4. ✘ EDR

Question Number : 99 Question Id : 627289499 Display Question Number : Yes Single Line Question Option : No Option Orientation : Vertical

उस विकल्प का चयन करें जिसमें नीचे दिए गए किसी भी अक्षर को उपसर्ग के रूप में संलग्न कर एक अंग्रेज़ी शब्द बनाया जा सके।



Options :

1. ✘ UN
2. ✘ EN
3. ✔ OLD
4. ✘ EDR

Question Number : 100 Question Id : 627289500 Display Question Number : Yes Single Line Question Option : No Option Orientation : Vertical

If $>$ denotes $+$, $<$ denotes $-$, $-$ denotes $+$, $+$ denotes \div and \div denotes \times , then the value of the expression $5 > 5 < 3 - 16 + 8 \div 16$ is:

Options :

1. ✘ 30
2. ✘ 36

3. ✓ 39

4. ✗ 40

Question Number : 100 Question Id : 627289500 Display Question Number : Yes Single Line Question Option : No Option
Orientation : Vertical

यदि $> +$ को, $< -$ को, $- +$ को, $+ \div$ को और $\div \times$ को दर्शाता हो तो $5 > 5 < 3 - 16 + 8 \div 16$ का मान होगा:

Options :

1. ✗ 30

2. ✗ 36

3. ✓ 39

4. ✗ 40