

Haryana Staff Selection Commission

Notations :

- 1.Options shown in green color and with ✓ icon are correct.
- 2.Options shown in red color and with ✗ icon are incorrect.

| | |
|--|--|
| Subject Name: | CAT 6 Junior Scale Stenographer English Hindi CBT Exam |
| Total Marks: | 200 |
| Display Marks: | Yes |
| Calculator: | None |
| Magnifying Glass Required?: | No |
| Ruler Required?: | No |
| Eraser Required?: | No |
| Scratch Pad Required?: | No |
| Rough Sketch/Notepad Required?: | No |
| Protractor Required?: | No |

CAT 6 Junior Scale Stenographer English Hindi CBT Exam

Group Marks: 200

CAT 6 Junior Scale Stenographer English Hindi CBT Exam

| | |
|------------------------------|-----|
| Section Marks: | 200 |
| Display Number Panel: | Yes |
| Group All Questions: | No |

Question Number : 1 Question Id : 260269701 Display Question Number : Yes Single Line Question Option : No Option Orientation : Vertical

Who led the revolt against the ruler of the Jind State in year 1864?

Options :

1. ✗ Amar Ali Khan
2. ✓ Hakim Kasim Ali
3. ✗ Suba Khan
4. ✗ Wazari Khan

Question Number : 1 Question Id : 260269701 Display Question Number : Yes Single Line Question Option : No Option Orientation : Vertical

वर्ष 1864 में जींद राज्य के शासक के विरुद्ध किसने विद्रोह का नेतृत्व किया था?

Options :

1. ✘ अमर अली खान
2. ✔ हाकिम कासिम अली
3. ✘ सूबा खान
4. ✘ वज़ारी खान

Question Number : 2 Question Id : 260269702 Display Question Number : Yes Single Line Question Option : No Option Orientation : Vertical

Who among the following was not the leader of the Wahabi movement in Haryana?

Options :

1. ✘ Maulvi Muhammad Qasim
2. ✘ Muhammad Jafar
3. ✘ Muhammad Shafi
4. ✔ Wilayat Ali Khan

Question Number : 2 Question Id : 260269702 Display Question Number : Yes Single Line Question Option : No Option Orientation : Vertical

निम्नलिखित में से कौन हरियाणा में वहाबी आंदोलन का नेता नहीं था?

Options :

1. ✘ मौलवी मुहम्मद कासिम
2. ✘ मुहम्मद जफ़र
3. ✘ मुहम्मद शफी
4. ✔ विलायत अली खान

Question Number : 3 Question Id : 260269703 Display Question Number : Yes Single Line Question Option : No Option Orientation : Vertical

Who among the following persons played a crucial role in the spread of the Arya Samaj through his bhajans?

Options :

1. ✘ Lala Chander Lal
2. ✔ Pt. Baste Ram
3. ✘ Rao Yudhister
4. ✘ Ram ji Lal

Question Number : 3 Question Id : 260269703 Display Question Number : Yes Single Line Question Option : No Option Orientation : Vertical

निम्नलिखित व्यक्तियों में से किसने अपने भजनों के माध्यम से आर्य समाज के विस्तार में महत्वपूर्ण भूमिका निभाई थी?

Options :

1. ✘ लाला चंदर लाल
2. ✔ पं. बस्ते राम
3. ✘ राव युधिष्ठिर
4. ✘ राम जी लाल

Question Number : 4 Question Id : 260269704 Display Question Number : Yes Single Line Question Option : No Option Orientation : Vertical

The first Arya Samaj Gurukul in Haryana was established at:

Options :

1. ✘ Bhaiswal
2. ✘ Jhajjar
3. ✔ Kurukshetra
4. ✘ Matendu

Question Number : 4 Question Id : 260269704 Display Question Number : Yes Single Line Question Option : No Option Orientation : Vertical

हरियाणा में पहला आर्य समाज गुरुकुल कहां पर स्थापित किया गया था?

Options :

1. ✘ भैसवाल
2. ✘ झज्जर

3. ✓ कुरुक्षेत्र

4. ✘ मातेंदु

Question Number : 5 Question Id : 260269705 Display Question Number : Yes Single Line Question Option : No Option Orientation : Vertical

What was the estimated revenue deficit of Haryana for FY 2016-17 as per the 2017 state budget?

Options :

1. ✓ 1.33%

2. ✘ 1.5%

3. ✘ 1.83%

4. ✘ 1.9%

Question Number : 5 Question Id : 260269705 Display Question Number : Yes Single Line Question Option : No Option Orientation : Vertical

वर्ष 2017 के राज्य बजट के अनुसार, वित्तीय वर्ष 2016-17 में हरियाणा का अनुमानित राजस्व घाटा क्या था?

Options :

1. ✓ 1.33%

2. ✘ 1.5%

3. ✘ 1.83%

4. ✘ 1.9%

Question Number : 6 Question Id : 260269706 Display Question Number : Yes Single Line Question Option : No Option Orientation : Vertical

Which among the following is a company shortlisted by the Haryana Government for the Petro Card Scheme?

Options :

1. ✓ Indian Oil

2. ✘ Hindustan Petroleum

3. ✘ Essar

4. ✘ Oil India Ltd

Question Number : 6 Question Id : 260269706 Display Question Number : Yes Single Line Question Option : No Option
Orientation : Vertical

पेट्रो कार्ड स्कीम के लिए हरियाणा सरकार द्वारा निम्नलिखित में से कौन-सी कंपनी को चुना गया है?

Options :

1. ✓ इंडियन ऑइल
2. ✗ हिंदुस्तान पेट्रोलियम
3. ✗ एस्सार
4. ✗ ऑइल इंडिया लिमिटेड

Question Number : 7 Question Id : 260269707 Display Question Number : Yes Single Line Question Option : No Option
Orientation : Vertical

Who among the following current Indian cricketers was once part of the under- 16 Indian chess team?

Options :

1. ✗ Jayant Yadav
2. ✗ Mohit Sharma
3. ✗ Amit Mishra
4. ✓ Yuzvendra Chahal

Question Number : 7 Question Id : 260269707 Display Question Number : Yes Single Line Question Option : No Option
Orientation : Vertical

निम्नलिखित वर्तमान भारतीय क्रिकेटर्स में से किसने एक बार अंडर-16 भारतीय शतरंज टीम में भाग लिया था?

Options :

1. ✗ जयंत यादव
2. ✗ मोहित शर्मा
3. ✗ अमित मिश्रा
4. ✓ युजुवेन्द्र चहल

Question Number : 8 Question Id : 260269708 Display Question Number : Yes Single Line Question Option : No Option
Orientation : Vertical

As per a recent announcement by the Haryana Government, Wi-Fi services would be provided to _____ villages.

Options :

1. ✓ 100

2. ✗ 200

3. ✗ 300

4. ✗ 400

Question Number : 8 Question Id : 260269708 Display Question Number : Yes Single Line Question Option : No Option Orientation : Vertical

हरियाणा सरकार की हाल ही की घोषणा के अनुसार, _____ गांवों को वाई-फाई सेवाएं प्रदान की जाएंगी।

Options :

1. ✓ 100

2. ✗ 200

3. ✗ 300

4. ✗ 400

Question Number : 9 Question Id : 260269709 Display Question Number : Yes Single Line Question Option : No Option Orientation : Vertical

Who among the following is known as the author of Ratnavali?

Options :

1. ✓ Harshvardhana

2. ✗ Nischaldas

3. ✗ Nityananda

4. ✗ Banabhatta

Question Number : 9 Question Id : 260269709 Display Question Number : Yes Single Line Question Option : No Option Orientation : Vertical

निम्नलिखित में से कौन 'रत्नावली' के लेखक के रूप में जाने जाते हैं?

Options :

1. ✓ हर्षवर्धन

2. ✗ निश्चलदास

3. ✘ नित्यानंद

4. ✘ बाणभट्ट

Question Number : 10 Question Id : 260269710 Display Question Number : Yes Single Line Question Option : No Option Orientation : Vertical

Who among the following had written “Muqaddama-e-Sher-o-Shayari”?

Options :

1. ✘ Sir Sayyed Ahmad Khan

2. ✔ Khwaja Altaf Hussain Hali

3. ✘ Islam-ul-Nisha

4. ✘ Mirza Ghalib

Question Number : 10 Question Id : 260269710 Display Question Number : Yes Single Line Question Option : No Option Orientation : Vertical

निम्नलिखित में से किसने “मुकद्दमा-ए-शेर-ओ-शायरी” को लिखा है?

Options :

1. ✘ सर सैय्यद अहमद खान

2. ✔ ख्वाजा अल्ताफ हुसैन हली

3. ✘ इस्लाम-उल-निशा

4. ✘ मिर्जा गालिब

Question Number : 11 Question Id : 260269711 Display Question Number : Yes Single Line Question Option : No Option Orientation : Vertical

‘Prithviraj Raso’ was written by:

Options :

1. ✔ Chand Bardai

2. ✘ Surdas

3. ✘ Veerbhan

4. ✘ Haridas

Question Number : 11 Question Id : 260269711 Display Question Number : Yes Single Line Question Option : No Option Orientation : Vertical

'पृथ्वीराज रासो' इनके द्वारा लिखा गया था:

Options :

1. ✔ चंद बरदाई

2. ✘ सूरदास

3. ✘ वीरभान

4. ✘ हरिदास

Question Number : 12 Question Id : 260269712 Display Question Number : Yes Single Line Question Option : No Option Orientation : Vertical

The total number of universities (as of 2011-12) in Haryana is:

Options :

1. ✘ 18

2. ✘ 21

3. ✔ 23

4. ✘ 26

Question Number : 12 Question Id : 260269712 Display Question Number : Yes Single Line Question Option : No Option Orientation : Vertical

हरियाणा में (2011-12 के अनुसार) विश्वविद्यालयों की कुल संख्या है:

Options :

1. ✘ 18

2. ✘ 21

3. ✔ 23

4. ✘ 26

Question Number : 13 Question Id : 260269713 Display Question Number : Yes Single Line Question Option : No Option Orientation : Vertical

Which city of Haryana is the dream city of India's first Prime Minister Jawaharlal Nehru?

Options :

1. ✘ Faridabad
2. ✔ Chandigarh
3. ✘ Gurugram
4. ✘ Sonapat

Question Number : 13 Question Id : 260269713 Display Question Number : Yes Single Line Question Option : No Option Orientation : Vertical

हरियाणा का कौन-सा शहर भारत के पहले प्रधानमंत्री जवाहरलाल नेहरू के सपनों का शहर है?

Options :

1. ✘ फरीदाबाद
2. ✔ चंडीगढ़
3. ✘ गुरुग्राम
4. ✘ सोनीपत

Question Number : 14 Question Id : 260269714 Display Question Number : Yes Single Line Question Option : No Option Orientation : Vertical

According to the 2011 census, there are _____ fair price shops in Haryana.

Options :

1. ✘ 5,467
2. ✘ 6,834
3. ✘ 7,962
4. ✔ 9,375

Question Number : 14 Question Id : 260269714 Display Question Number : Yes Single Line Question Option : No Option Orientation : Vertical

2011 की जनगणना के अनुसार हरियाणा में _____ उचित मूल्य की दुकानें हैं।

Options :

1. ✘ 5,467
2. ✘ 6,834
3. ✘ 7,962
4. ✔ 9,375

Question Number : 15 Question Id : 260269715 Display Question Number : Yes Single Line Question Option : No Option Orientation : Vertical

Every male or female of the village, who is entered as a voter on the electoral roll of the state _____, is a member of the Gram Sabha of the respective village.

Options :

1. ✘ Lok Sabha
2. ✔ Vidhan Sabha
3. ✘ Vidhan Parishad
4. ✘ Panchayat Samiti

Question Number : 15 Question Id : 260269715 Display Question Number : Yes Single Line Question Option : No Option Orientation : Vertical

किसी गाँव का प्रत्येक पुरुष या स्त्री जो राज्य _____ की मतदाता सूची में मतदाता के रूप में शामिल है, वो उस गाँव की ग्राम सभा का सदस्य होता/होती है।

Options :

1. ✘ लोकसभा
2. ✔ विधानसभा
3. ✘ विधान परिषद
4. ✘ पंचायत समिति

Question Number : 16 Question Id : 260269716 Display Question Number : Yes Single Line Question Option : No Option Orientation : Vertical

Who among the following did not serve as Chief Minister of Haryana for more than one term?

Options :

1. ✘ Bhajan Lal

2. ✘ Devi Lal
3. ✘ Bansi Lal
4. ✔ Hukam Singh

Question Number : 16 Question Id : 260269716 Display Question Number : Yes Single Line Question Option : No Option Orientation : Vertical

निम्नलिखित में से कौन हरियाणा के मुख्यमंत्री के रूप में एक से अधिक बार कार्यरत नहीं थे?

Options :

1. ✘ भजन लाल
2. ✘ देवी लाल
3. ✘ बंसी लाल
4. ✔ हुकम सिंह

Question Number : 17 Question Id : 260269717 Display Question Number : Yes Single Line Question Option : No Option Orientation : Vertical

The status of the Municipal Council of Panipat was elevated to that of a Municipal Corporation in:

Options :

1. ✘ 2005
2. ✘ 2008
3. ✔ 2010
4. ✘ 2012

Question Number : 17 Question Id : 260269717 Display Question Number : Yes Single Line Question Option : No Option Orientation : Vertical

वर्ष _____ में पानीपत की नगर पालिका का पद बढ़ा कर उसे नगर निगम बना दिया गया था।

Options :

1. ✘ 2005
2. ✘ 2008
3. ✔ 2010

4. ✘ 2012

Question Number : 18 Question Id : 260269718 Display Question Number : Yes Single Line Question Option : No Option Orientation : Vertical

Gurgaon is now officially and unofficially known as:

Options :

1. ✘ Gurugaon
2. ✔ Gurugram
3. ✘ Gurgram
4. ✘ Girigaon

Question Number : 18 Question Id : 260269718 Display Question Number : Yes Single Line Question Option : No Option Orientation : Vertical

गुडगाँव को अब आधिकारिक व अनाधिकारिक रूप में _____ नाम से जाना जाता है।

Options :

1. ✘ गुरुगाँव
2. ✔ गुरुग्राम
3. ✘ गुरग्राम
4. ✘ गिरिगाँव

Question Number : 19 Question Id : 260269719 Display Question Number : Yes Single Line Question Option : No Option Orientation : Vertical

Which is the state tree of Haryana?

Options :

1. ✔ Peepal
2. ✘ Mulberry
3. ✘ Kikar
4. ✘ Shisham

Question Number : 19 Question Id : 260269719 Display Question Number : Yes Single Line Question Option : No Option Orientation : Vertical

हरियाणा का राज्य वृक्ष कौन-सा है?

Options :

1. ✓ पीपल
2. ✗ शहतूत
3. ✗ कीकर
4. ✗ शीशम

Question Number : 20 Question Id : 260269720 Display Question Number : Yes Single Line Question Option : No Option Orientation : Vertical

Which of the following rivers **DOES NOT** flow through Haryana?

Options :

1. ✓ Ganga
2. ✗ Yamuna
3. ✗ Ghaggar
4. ✗ Markanda

Question Number : 20 Question Id : 260269720 Display Question Number : Yes Single Line Question Option : No Option Orientation : Vertical

निम्नलिखित में से कौन-सी नदी हरियाणा से होकर नहीं गुजरती है?

Options :

1. ✓ गंगा
2. ✗ यमुना
3. ✗ घग्गर
4. ✗ मारकंडा

Question Number : 21 Question Id : 260269721 Display Question Number : Yes Single Line Question Option : No Option Orientation : Vertical

Which among the following crops needs maximum water?

Options :

1. ✓ Sugarcane

2. ✗ Wheat

3. ✗ Paddy

4. ✗ Cotton

Question Number : 21 Question Id : 260269721 Display Question Number : Yes Single Line Question Option : No Option Orientation : Vertical

निम्नलिखित में से किस फसल को पानी की आवश्यकता अधिकतम होती है?

Options :

1. ✓ गन्ना

2. ✗ गेहूँ

3. ✗ धान

4. ✗ कपास

Question Number : 22 Question Id : 260269722 Display Question Number : Yes Single Line Question Option : No Option Orientation : Vertical

Which place of Haryana is known as the Walled Town?

Options :

1. ✗ Hisar

2. ✗ Bhiwani

3. ✗ Sirsa

4. ✓ Karnal

Question Number : 22 Question Id : 260269722 Display Question Number : Yes Single Line Question Option : No Option Orientation : Vertical

हरियाणा के कौन-से स्थान को प्राचीर वाला शहर (वॉल्ड टाउन) के रूप में जाना जाता है?

Options :

1. ✗ हिसार

2. ✗ भिवानी

3. ✘ सिरसा

4. ✔ करनाल

Question Number : 23 Question Id : 260269723 Display Question Number : Yes Single Line Question Option : No Option Orientation : Vertical

The Jats of Haryana are known to make durries with white triangles often set against a _____ background.

Options :

1. ✘ red

2. ✔ blue

3. ✘ black

4. ✘ yellow

Question Number : 23 Question Id : 260269723 Display Question Number : Yes Single Line Question Option : No Option Orientation : Vertical

हरियाणा के जाट अक्सर एक _____ पृष्ठभूमि पर सफेद त्रिकोण वाली दरियां बनाने के लिए जाने जाते हैं।

Options :

1. ✘ लाल

2. ✔ नीली

3. ✘ काली

4. ✘ पीली

Question Number : 24 Question Id : 260269724 Display Question Number : Yes Single Line Question Option : No Option Orientation : Vertical

Rasamangala Tirtha is situated in:

Options :

1. ✔ Kaithal

2. ✘ Bhiwani

3. ✘ Fatehabad

4. ✘ Rohtak

Question Number : 24 Question Id : 260269724 Display Question Number : Yes Single Line Question Option : No Option Orientation : Vertical

रसमंगल तीर्थ कहाँ स्थित है?

Options :

1. ✓ कैथल
2. ✗ भिवानी
3. ✗ फतेहाबाद
4. ✗ रोहतक

Question Number : 25 Question Id : 260269725 Display Question Number : Yes Single Line Question Option : No Option Orientation : Vertical

Saraka Tirtha is situated in:

Options :

1. ✗ Sonipat
2. ✗ Panipat
3. ✓ Kaithal
4. ✗ Rewari

Question Number : 25 Question Id : 260269725 Display Question Number : Yes Single Line Question Option : No Option Orientation : Vertical

सरका तीर्थ कहाँ स्थित है?

Options :

1. ✗ सोनीपत
2. ✗ पानीपत
3. ✓ कैथल
4. ✗ रेवाड़ी

Question Number : 26 Question Id : 260269726 Display Question Number : Yes Single Line Question Option : No Option Orientation : Vertical

There is a way to remember short vowels: Select the strategy sentence to be repeated to remember short vowels.

Options :

1. ✘ I now enjoy music
2. ✔ That pen is not good
3. ✘ PA may we all go too?
4. ✘ He is going to school.

Question Number : 26 Question Id : 260269726 Display Question Number : Yes Single Line Question Option : No Option Orientation : Vertical

There is a way to remember short vowels: Select the strategy sentence to be repeated to remember short vowels.





Options :

1. ✘ I now enjoy music
2. ✔ That pen is not good
3. ✘ PA may we all go too?
4. ✘ He is going to school.

Question Number : 27 Question Id : 260269727 Display Question Number : Yes Single Line Question Option : No Option Orientation : Vertical

Select the word **Nasals** from the given options:





Options :

1. ✔ 
2. ✘ 
3. ✘ 
4. ✘ 

Question Number : 27 Question Id : 260269727 Display Question Number : Yes Single Line Question Option : No Option Orientation : Vertical

Select the word **Nasals** from the given options:

Options :

1. ✓ 
2. ✗ 
3. ✗ 
4. ✗ 

Question Number : 28 Question Id : 260269728 Display Question Number : Yes Single Line Question Option : No Option Orientation : Vertical

Downward is always written initially before 'M' because of easier joining of _____.

Options :

1. ✗ L
2. ✗ W
3. ✓ R
4. ✗ H

Question Number : 28 Question Id : 260269728 Display Question Number : Yes Single Line Question Option : No Option Orientation : Vertical

Downward is always written initially before 'M' because of easier joining of _____.

Options :

1. ✗ L
2. ✗ W
3. ✓ R
4. ✗ H

Question Number : 29 Question Id : 260269729 Display Question Number : Yes Single Line Question Option : No Option Orientation : Vertical

Which of these is **NOT** the best quality of a phraseogram?

Options :

1. ✘ Facility
2. ✘ Lineality
3. ✘ Legibility
4. ✔ Awkward joining of words

Question Number : 29 Question Id : 260269729 Display Question Number : Yes Single Line Question Option : No Option Orientation : Vertical

Which of these is **NOT** the best quality of a phraseogram?

Options :

1. ✘ Facility
2. ✘ Lineality
3. ✘ Legibility
4. ✔ Awkward joining of words

Question Number : 30 Question Id : 260269730 Display Question Number : Yes Single Line Question Option : No Option Orientation : Vertical

The 'ST' loop is made to _____ the length of the stroke to which it is attached.

Options :

1. ✘ One third
2. ✘ Two third
3. ✔ Half
4. ✘ Quarter

Question Number : 30 Question Id : 260269730 Display Question Number : Yes Single Line Question Option : No Option Orientation : Vertical

The 'ST' loop is made to _____ the length of the stroke to which it is attached.

Options :

1. ✘ One third
2. ✘ Two third

3. ✓ Half

4. ✗ Quarter

Question Number : 31 Question Id : 260269731 Display Question Number : Yes Single Line Question Option : No Option Orientation : Vertical

A small initial hook written with the right motion adds _____ to straight strokes.

Options :

1. ✗ L

2. ✗ H

3. ✗ M

4. ✓ R

Question Number : 31 Question Id : 260269731 Display Question Number : Yes Single Line Question Option : No Option Orientation : Vertical

A small initial hook written with the right motion adds _____ to straight strokes.

Options :

1. ✗ L

2. ✗ H

3. ✗ M

4. ✓ R

Question Number : 32 Question Id : 260269732 Display Question Number : Yes Single Line Question Option : No Option Orientation : Vertical

A small final hook adds _____ to curves.

Options :

1. ✗ f

2. ✓ n

3. ✗ v

4. ✗ r

Question Number : 32 Question Id : 260269732 Display Question Number : Yes Single Line Question Option : No Option Orientation : Vertical

A small final hook adds _____ to curves.




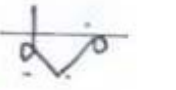
Options :

- 1. ✘ f
- 2. ✔ n
- 3. ✘ v
- 4. ✘ r

Question Number : 33 Question Id : 260269733 Display Question Number : Yes Single Line Question Option : No Option Orientation : Vertical

Select the correct outline for 'disappearance'.




Options :

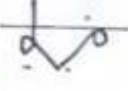
- 1. ✘ 
- 2. ✘ 
- 3. ✘ 
- 4. ✔ 

Question Number : 33 Question Id : 260269733 Display Question Number : Yes Single Line Question Option : No Option Orientation : Vertical

Select the correct outline for 'disappearance'.

Options :

- 1. ✘ 
- 2. ✘ 
- 3. ✘ 

4. ✓ 

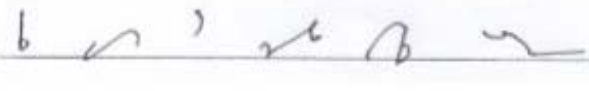
Question Number : 34 Question Id : 260269734 Display Question Number : Yes Single Line Question Option : No Option Orientation : Vertical


Select the option that states, **“It is one of the world’s largest network.”**

Options :

1. ✗ 

2. ✓ 


3. ✗ 

4. ✗ 


Question Number : 34 Question Id : 260269734 Display Question Number : Yes Single Line Question Option : No Option Orientation : Vertical


Select the option that states, **“It is one of the world’s largest network.”**

Options :

1. ✗ 

2. ✓ 


3. ✗ 


4. ✗ 


Question Number : 35 Question Id : 260269735 Display Question Number : Yes Single Line Question Option : No Option Orientation : Vertical


Select the option that states, **“thanking you and assuring you of our co-operation.”**

Options :

1. ✓ 

2. ✗ 


3. ✗ 


4. ✗ 


Question Number : 35 Question Id : 260269735 Display Question Number : Yes Single Line Question Option : No Option Orientation : Vertical


Select the option that states, **“thanking you and assuring you of our co-operation.”**

Options :

1. ✓ 

2. ✗ 

3. ✗ 

4. ✗ 

Question Number : 36 Question Id : 260269736 Display Question Number : Yes Single Line Question Option : No Option Orientation : Vertical

पूर्ण नियमानुसार 'विद्वान' शब्द के लिए शब्द-चिह्न को पहचानें:

- A. २१
- B. २२
- C. २३
- D. २४

Options :

1. ✓ A
2. ✗ B
3. ✗ C
4. ✗ D

Question Number : 36 Question Id : 260269736 Display Question Number : Yes Single Line Question Option : No Option Orientation : Vertical

पूर्ण नियमानुसार 'विद्वान' शब्द के लिए शब्द-चिह्न को पहचानें:

- A. २१
- B. २२
- C. २३
- D. २४

Options :

1. ✓ A
2. ✗ B
3. ✗ C
4. ✗ D

Question Number : 37 Question Id : 260269737 Display Question Number : Yes Single Line Question Option : No Option Orientation : Vertical

‘क’ वर्ग में ‘द’ किस प्रकार लिखा जाता है?

Options :

1. ✓ दायें से बाएं
2. ✗ बाएं से दाएं
3. ✗ नीचे से ऊपर
4. ✗ ऊपर से नीचे


Question Number : 37 Question Id : 260269737 Display Question Number : Yes Single Line Question Option : No Option Orientation : Vertical

‘क’ वर्ग में ‘द’ किस प्रकार लिखा जाता है?

Options :

1. ✓ दायें से बाएं
2. ✗ बाएं से दाएं
3. ✗ नीचे से ऊपर
4. ✗ ऊपर से नीचे


Question Number : 38 Question Id : 260269738 Display Question Number : Yes Single Line Question Option : No Option Orientation : Vertical

दी हुए मात्रा के अनुसार शब्द-चिह्न  को पहचानें।

Options :

1. ✗ किलहल
2. ✗ कलचल
3. ✗ कालहल
4. ✓ कोलाहल

Question Number : 38 Question Id : 260269738 Display Question Number : Yes Single Line Question Option : No Option Orientation : Vertical

दी हुए मात्रा के अनुसार शब्द-चिह्न  को पहचानें।

Options :

1. ✘ किलहल
2. ✘ कलचल
3. ✘ कालहल
4. ✔ कोलाहल

Question Number : 39 Question Id : 260269739 Display Question Number : Yes Single Line Question Option : No Option Orientation : Vertical

साधारण व्यंजन को अर्ध्य करने के अनुसार 'प्रयत्न' शब्द में किस व्यंजन को आधा कर देना चाहिए?

Options :

1. ✘ प
2. ✘ र
3. ✔ य
4. ✘ न

Question Number : 39 Question Id : 260269739 Display Question Number : Yes Single Line Question Option : No Option Orientation : Vertical

साधारण व्यंजन को अर्ध्य करने के अनुसार 'प्रयत्न' शब्द में किस व्यंजन को आधा कर देना चाहिए?

Options :

1. ✘ प
2. ✘ र
3. ✔ य
4. ✘ न

Question Number : 40 Question Id : 260269740 Display Question Number : Yes Single Line Question Option : No Option Orientation : Vertical

शब्द में साधारण व्यंजन रेखा को दुगुना करने के नियम के अनुसार 'डॉक्टर' में किस व्यंजन रेखा को बड़ा करते हैं?

Options :

1. ✘ ड

2. ✓ क

3. ✗ ट

4. ✗ र

Question Number : 40 Question Id : 260269740 Display Question Number : Yes Single Line Question Option : No Option Orientation : Vertical

शब्द में साधारण व्यंजन रेखा को दुगुना करने के नियम के अनुसार 'डॉक्टर' में किस व्यंजन रेखा को बड़ा करते हैं?

Options :


1. ✗ ड

2. ✓ क

3. ✗ ट

4. ✗ र

Question Number : 41 Question Id : 260269741 Display Question Number : Yes Single Line Question Option : No Option Orientation : Vertical

 इस साधारण संक्षिप्त लिपि को पहचानें।

Options :

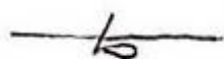
1. ✗ जमानतदार

2. ✓ जिम्मेदार

3. ✗ जिम्मेदारी

4. ✗ जमादार

Question Number : 41 Question Id : 260269741 Display Question Number : Yes Single Line Question Option : No Option Orientation : Vertical

 इस साधारण संक्षिप्त लिपि को पहचानें।

Options :

1. ✗ जमानतदार

2. ✓ जिम्मेदार

3. ✗ जिम्मेदारी

4. ✖ जमादार

Question Number : 42 Question Id : 260269742 Display Question Number : Yes Single Line Question Option : No Option Orientation : Vertical

हिन्दी संकेत लिपि में विराम-चिन्ह को कैसे प्रदर्शित किया जाता है?

Options :

1. ✖ उ की मात्रा 'ॐ' से सूचित करते हैं
2. ✖ इस तरह '└' का चिन्ह लगाया जाता है
3. ✔ एक छोटा सा 'x' लाइन पर लगाते हैं
4. ✖ इस चिन्ह 's' का प्रयोग होता है

Question Number : 42 Question Id : 260269742 Display Question Number : Yes Single Line Question Option : No Option Orientation : Vertical





हिन्दी संकेत लिपि में विराम-चिन्ह को कैसे प्रदर्शित किया जाता है?

Options :

1. ✖ उ की मात्रा 'ॐ' से सूचित करते हैं
2. ✖ इस तरह '└' का चिन्ह लगाया जाता है
3. ✔ एक छोटा सा 'x' लाइन पर लगाते हैं
4. ✖ इस चिन्ह 's' का प्रयोग होता है

Question Number : 43 Question Id : 260269743 Display Question Number : Yes Single Line Question Option : No Option Orientation : Vertical

पूर्ण नियमानुसार शब्द गिरफ्तारी (गिरफ्तारी) के दूसरे प्रारूप को पहचानें:

- A. 
- B. 
- C. 
- D. 

Options :


1. ✘ A

2. ✔ B

3. ✘ C

4. ✘ D


Question Number : 43 Question Id : 260269743 Display Question Number : Yes Single Line Question Option : No Option Orientation : Vertical

पूर्ण नियमानुसार शब्द  (गिरफ्तारी) के दूसरे प्रारूप को पहचानें:

A. 

B. 

C. 

D. 

Options :

1. ✘ A

2. ✔ B

3. ✘ C

4. ✘ D

Question Number : 44 Question Id : 260269744 Display Question Number : Yes Single Line Question Option : No Option Orientation : Vertical

क्रिया के अंत में 'चाहिए' आये तो कौन-सा चाप लगाया जाता है?

Options :

1. ✘ लघु चाप

2. ✔ अर्ध-वृत्त चाप

3. ✘ मध्यम चाप

4. ✘ पूर्ण चाप


Question Number : 44 Question Id : 260269744 Display Question Number : Yes Single Line Question Option : No Option Orientation : Vertical

क्रिया के अंत में 'चाहिए' आये तो कौन-सा चाप लगाया जाता है?

Options :

1. ✘ लघु चाप
2. ✔ अर्ध-वृत्त चाप
3. ✘ मध्यम चाप
4. ✘ पूर्ण चाप


Question Number : 45 Question Id : 260269745 Display Question Number : Yes Single Line Question Option : No Option Orientation : Vertical

 को हिन्दी में किस प्रकार लिखा जाएगा?

Options :

1. ✘ वायसराय कमेटी
2. ✘ वासराय गवर्नर
3. ✔ वायसराय गवर्नर
4. ✘ वासराय गवर्नमेंट

Question Number : 45 Question Id : 260269745 Display Question Number : Yes Single Line Question Option : No Option Orientation : Vertical

 को हिन्दी में किस प्रकार लिखा जाएगा?

Options :

1. ✘ वायसराय कमेटी
2. ✘ वासराय गवर्नर
3. ✔ वायसराय गवर्नर
4. ✘ वासराय गवर्नमेंट

Question Number : 46 Question Id : 260269746 Display Question Number : Yes Single Line Question Option : No Option Orientation : Vertical

Select the appropriate one word substitute from the options for the following expression.

a place for keeping aeroplanes

Options :

1. ✓ hangar
2. ✗ airport
3. ✗ harbour
4. ✗ garage

Question Number : 46 Question Id : 260269746 Display Question Number : Yes Single Line Question Option : No Option Orientation : Vertical

Select the appropriate one word substitute from the options for the following expression.

a place for keeping aeroplanes

Options :

1. ✓ hangar
2. ✗ airport
3. ✗ harbour
4. ✗ garage

Question Number : 47 Question Id : 260269747 Display Question Number : Yes Single Line Question Option : No Option Orientation : Vertical

Select the appropriate one word substitute from the options for the following expression.

something which cannot be seen through

Options :

1. ✗ transparent
2. ✗ translucent
3. ✓ opaque

4. ✘ crystal

Question Number : 47 Question Id : 260269747 Display Question Number : Yes Single Line Question Option : No Option Orientation : Vertical

Select the appropriate one word substitute from the options for the following expression.

something which cannot be seen through

Options :

1. ✘ transparent

2. ✘ translucent

3. ✔ opaque

4. ✘ crystal

Question Number : 48 Question Id : 260269748 Display Question Number : Yes Single Line Question Option : No Option Orientation : Vertical

Select the appropriate one word substitute from the options for the following expression.

A traveller in a spacecraft

Options :

1. ✘ aeronaut

2. ✘ acrobat

3. ✘ astronomer

4. ✔ astronaut

Question Number : 48 Question Id : 260269748 Display Question Number : Yes Single Line Question Option : No Option Orientation : Vertical

Select the appropriate one word substitute from the options for the following expression.

A traveller in a spacecraft

Options :

1. ✘ aeronaut

2. ✘ acrobat

3. ✘ astronomer

4. ✓ astronaut

Question Number : 49 Question Id : 260269749 Display Question Number : Yes Single Line Question Option : No Option Orientation : Vertical

Select the appropriate option and fill in the blank.

The sea was choppy. The waves struck _____ the shore.

Options :

1. ✗ into

2. ✗ in

3. ✗ through

4. ✓ against

Question Number : 49 Question Id : 260269749 Display Question Number : Yes Single Line Question Option : No Option Orientation : Vertical

Select the appropriate option and fill in the blank.

The sea was choppy. The waves struck _____ the shore.

Options :

1. ✗ into

2. ✗ in

3. ✗ through

4. ✓ against

Question Number : 50 Question Id : 260269750 Display Question Number : Yes Single Line Question Option : No Option Orientation : Vertical

Select the appropriate option and fill in the blank.

There is an old wooden bridge _____ the river.

Options :

1. ✗ along

2. ✗ through

3. ✘ about

4. ✔ out

Question Number : 50 Question Id : 260269750 Display Question Number : Yes Single Line Question Option : No Option Orientation : Vertical

Select the appropriate option and fill in the blank.

There is an old wooden bridge _____ the river.

Options :

1. ✘ along

2. ✘ through

3. ✘ about

4. ✔ out

Question Number : 51 Question Id : 260269751 Display Question Number : Yes Single Line Question Option : No Option Orientation : Vertical

Select the appropriate option and fill in the blank.

I have got a job _____ sorting books at the library.

Options :

1. ✘ at

2. ✘ to

3. ✔ of

4. ✘ in

Question Number : 51 Question Id : 260269751 Display Question Number : Yes Single Line Question Option : No Option Orientation : Vertical

Select the appropriate option and fill in the blank.

I have got a job _____ sorting books at the library.

Options :

1. ✘ at

2. ✘ to

3. ✓ of

4. ✗ in

Question Number : 52 Question Id : 260269752 Display Question Number : Yes Single Line Question Option : No Option Orientation : Vertical

Select the appropriate option and fill in the blank.

Nowadays it is important to teach children to defend _____ against bullies.

Options :

1. ✗ herself

2. ✗ oneself

3. ✓ themselves

4. ✗ yourselves

Question Number : 52 Question Id : 260269752 Display Question Number : Yes Single Line Question Option : No Option Orientation : Vertical

Select the appropriate option and fill in the blank.

Nowadays it is important to teach children to defend _____ against bullies.

Options :

1. ✗ herself

2. ✗ oneself

3. ✓ themselves

4. ✗ yourselves

Question Number : 53 Question Id : 260269753 Display Question Number : Yes Single Line Question Option : No Option Orientation : Vertical

Select the appropriate option and fill in the blank.

The men _____ helped the accident victims came from the nearby village.

Options :

1. ✓ who

2. ✗ whom

3. ✘ whose

4. ✘ which

Question Number : 53 Question Id : 260269753 Display Question Number : Yes Single Line Question Option : No Option Orientation : Vertical

Select the appropriate option and fill in the blank.

The men _____ helped the accident victims came from the nearby village.

Options :

1. ✔ who

2. ✘ whom

3. ✘ whose

4. ✘ which

Question Number : 54 Question Id : 260269754 Display Question Number : Yes Single Line Question Option : No Option Orientation : Vertical

Select the appropriate option and fill in the blank.

I can't tell you the result of the analysis right now as I don't remember _____.

Options :

1. ✘ them

2. ✔ it

3. ✘ its

4. ✘ these

Question Number : 54 Question Id : 260269754 Display Question Number : Yes Single Line Question Option : No Option Orientation : Vertical

Select the appropriate option and fill in the blank.

I can't tell you the result of the analysis right now as I don't remember _____.

Options :

1. ✘ them

2. ✔ it

3. ✘ its

4. ✘ these

Question Number : 55 Question Id : 260269755 Display Question Number : Yes Single Line Question Option : No Option Orientation : Vertical

Select the option that best expresses the meaning of the underlined idiom in the given sentence.

The election campaign is now in full swing.

Options :

1. ✔ active

2. ✘ slack

3. ✘ dull

4. ✘ interesting

Question Number : 55 Question Id : 260269755 Display Question Number : Yes Single Line Question Option : No Option Orientation : Vertical

Select the option that best expresses the meaning of the underlined idiom in the given sentence.

The election campaign is now in full swing.

Options :

1. ✔ active

2. ✘ slack

3. ✘ dull

4. ✘ interesting

Question Number : 56 Question Id : 260269756 Display Question Number : Yes Single Line Question Option : No Option Orientation : Vertical

'चिन्मय' शब्द बना है:

Options :

1. ✔ चित् + मय से

2. ✘ चिन + मय से
3. ✘ चिन्म + य से
4. ✘ चि + न्मय से

Question Number : 56 Question Id : 260269756 Display Question Number : Yes Single Line Question Option : No Option Orientation : Vertical

'चिन्मय' शब्द बना है:

Options :

1. ✔ चित् + मय से
2. ✘ चिन + मय से
3. ✘ चिन्म + य से
4. ✘ चि + न्मय से

Question Number : 57 Question Id : 260269757 Display Question Number : Yes Single Line Question Option : No Option Orientation : Vertical

'मृत्युदंड' शब्द में समास है:

Options :

1. ✘ अव्ययीभाव
2. ✔ तत्पुरुष
3. ✘ बहुव्रीहि
4. ✘ द्वंद्व

Question Number : 57 Question Id : 260269757 Display Question Number : Yes Single Line Question Option : No Option Orientation : Vertical

'मृत्युदंड' शब्द में समास है:

Options :

1. ✘ अव्ययीभाव
2. ✔ तत्पुरुष

3. ✘ बहुव्रीहि

4. ✘ द्वंद्व

Question Number : 58 Question Id : 260269758 Display Question Number : Yes Single Line Question Option : No Option Orientation : Vertical

‘अन्दर छिपा हुआ’ वाक्यांश के लिए एक शब्द होगा:

Options :

1. ✔ अंतर्निहित

2. ✘ अन्तर्निहत

3. ✘ गोपनीय

4. ✘ गुह्यांतर

Question Number : 58 Question Id : 260269758 Display Question Number : Yes Single Line Question Option : No Option Orientation : Vertical

‘अन्दर छिपा हुआ’ वाक्यांश के लिए एक शब्द होगा:

Options :

1. ✔ अंतर्निहित

2. ✘ अन्तर्निहत

3. ✘ गोपनीय

4. ✘ गुह्यांतर

Question Number : 59 Question Id : 260269759 Display Question Number : Yes Single Line Question Option : No Option Orientation : Vertical

‘आकाश’ का पर्याय नहीं है:

Options :

1. ✘ गगन

2. ✘ व्योम

3. ✘ नभ

4. ✔ घटा

Question Number : 59 Question Id : 260269759 Display Question Number : Yes Single Line Question Option : No Option Orientation : Vertical

‘आकाश’ का पर्याय नहीं है:

Options :

1. ✘ गगन

2. ✘ व्योम

3. ✘ नभ

4. ✔ घटा

Question Number : 60 Question Id : 260269760 Display Question Number : Yes Single Line Question Option : No Option Orientation : Vertical

कौन-से शब्द की वर्तनी अशुद्ध है?

Options :

1. ✘ आशीर्वाद

2. ✔ आशीर्वाद

3. ✘ पुनर्विचार

4. ✘ अर्घ्य

Question Number : 60 Question Id : 260269760 Display Question Number : Yes Single Line Question Option : No Option Orientation : Vertical

कौन-से शब्द की वर्तनी अशुद्ध है?

Options :

1. ✘ आशीर्वाद

2. ✔ आशीर्वाद

3. ✘ पुनर्विचार

4. ✘ अर्घ्य

Question Number : 61 Question Id : 260269761 Display Question Number : Yes Single Line Question Option : No Option Orientation : Vertical

'उन्नति' शब्द का विलोम है:

Options :

1. ✘ वृद्धि
2. ✘ विकास
3. ✔ अवनति
4. ✘ उन्नत

Question Number : 61 Question Id : 260269761 Display Question Number : Yes Single Line Question Option : No Option Orientation : Vertical

'उन्नति' शब्द का विलोम है:

Options :

1. ✘ वृद्धि
2. ✘ विकास
3. ✔ अवनति
4. ✘ उन्नत

Question Number : 62 Question Id : 260269762 Display Question Number : Yes Single Line Question Option : No Option Orientation : Vertical

निम्नलिखित में से कौन-सा शब्द तत्सम है?

Options :

1. ✘ माथा
2. ✘ चून
3. ✘ बहू
4. ✔ मस्तक

Question Number : 62 Question Id : 260269762 Display Question Number : Yes Single Line Question Option : No Option Orientation : Vertical

निम्नलिखित में से कौन-सा शब्द तत्सम है?

Options :

1. ✘ माथा
2. ✘ चून
3. ✘ बहू
4. ✔ मस्तक

Question Number : 63 Question Id : 260269763 Display Question Number : Yes Single Line Question Option : No Option Orientation : Vertical

'योग्यता से बढ़कर बात करना' के लिए मुहावरा है:

Options :

1. ✘ चाँद पर थूका मुँह पर गिरा
2. ✘ चोर की दाढ़ी में तिनका
3. ✔ छोटा मुँह बड़ी बात
4. ✘ घर का भेदी लंका ढाए

Question Number : 63 Question Id : 260269763 Display Question Number : Yes Single Line Question Option : No Option Orientation : Vertical

'योग्यता से बढ़कर बात करना' के लिए मुहावरा है:

Options :

1. ✘ चाँद पर थूका मुँह पर गिरा
2. ✘ चोर की दाढ़ी में तिनका
3. ✔ छोटा मुँह बड़ी बात
4. ✘ घर का भेदी लंका ढाए

Question Number : 64 Question Id : 260269764 Display Question Number : Yes Single Line Question Option : No Option Orientation : Vertical

निम्नलिखित में से तद्रव शब्द कौन-सा है?

Options :

1. ✓ हाथ
2. ✗ मुख
3. ✗ नासिका
4. ✗ जिह्वा

Question Number : 64 Question Id : 260269764 Display Question Number : Yes Single Line Question Option : No Option Orientation : Vertical

निम्नलिखित में से तद्रव शब्द कौन-सा है?

Options :

1. ✓ हाथ
2. ✗ मुख
3. ✗ नासिका
4. ✗ जिह्वा

Question Number : 65 Question Id : 260269765 Display Question Number : Yes Single Line Question Option : No Option Orientation : Vertical

'अर्क' का अर्थ नहीं होता:

Options :

1. ✗ रस
2. ✗ सूर्य
3. ✗ आक का पौधा
4. ✓ आरती

Question Number : 65 Question Id : 260269765 Display Question Number : Yes Single Line Question Option : No Option Orientation : Vertical

'अर्क' का अर्थ नहीं होता:

Options :

1. ✘ रस
2. ✘ सूर्य
3. ✘ आक का पौधा
4. ✔ आरती

Question Number : 66 Question Id : 260269766 Display Question Number : Yes Single Line Question Option : No Option Orientation : Vertical

In a birthday party, there are 50 children. 280 chocolates were distributed among them. If each boy gets 5 and each girl gets 7 chocolates, then the number of girls is:

Options :

1. ✘ 25
2. ✘ 20
3. ✔ 15
4. ✘ 12

Question Number : 66 Question Id : 260269766 Display Question Number : Yes Single Line Question Option : No Option Orientation : Vertical

एक जन्मदिन की पार्टी में 50 बच्चे हैं और उनमें 280 चॉकलेट वितरित की गयीं। यदि प्रत्येक लड़के को 5 और प्रत्येक लड़की को 7 चॉकलेट मिली हैं, तो लड़कियों की संख्या है:

Options :

1. ✘ 25
2. ✘ 20
3. ✔ 15
4. ✘ 12

Question Number : 67 Question Id : 260269767 Display Question Number : Yes Single Line Question Option : No Option Orientation : Vertical

The average age of two families with 5 and 8 members are 42 years and 81 years respectively. If both the families are joined together, the average age of the new group is:

Options :

1. ✘ 55

2. ✔ 66

3. ✘ 44

4. ✘ 65

Question Number : 67 Question Id : 260269767 Display Question Number : Yes Single Line Question Option : No Option Orientation : Vertical

5 और 8 सदस्यों वाले दो परिवारों की औसत आयु क्रमशः 42 वर्ष और 81 वर्ष है। यदि दोनों परिवार एकत्रित कर दिये जाते हैं, तो नए समूह की औसत आयु है:

Options :

1. ✘ 55

2. ✔ 66

3. ✘ 44

4. ✘ 65

Question Number : 68 Question Id : 260269768 Display Question Number : Yes Single Line Question Option : No Option Orientation : Vertical

If the difference between the simple interest on a certain sum deposited for 15 months and 8 months at $7\frac{1}{2}\%$ and $12\frac{1}{2}\%$ respectively is ₹ 32.5, then the sum is:

Options :

1. ✘ ₹ 3,125

2. ✘ ₹ 3,122

3. ✘ ₹ 3,123

4. ✔ ₹ 3,120

Question Number : 68 Question Id : 260269768 Display Question Number : Yes Single Line Question Option : No Option Orientation : Vertical

यदि एक निश्चित धनराशि पर 15 महीने और 8 महीने के लिए क्रमशः $7\frac{1}{2}\%$ और $12\frac{1}{2}\%$ वार्षिक दर से मिले साधारण ब्याज के बीच अंतर ₹ 32.5 है, तो वह धनराशि है:

Options :

1. ✘ ₹ 3,125

2. ✘ ₹ 3,122
3. ✘ ₹ 3,123
4. ✔ ₹ 3,120

Question Number : 69 Question Id : 260269769 Display Question Number : Yes Single Line Question Option : No Option Orientation : Vertical

In Alaska, the population was 50,000 in the year 2000. In the 1st, 2nd and 3rd year onwards, it increased by 25%, decreased by 30% and increased by 40% respectively. The population at the end of the year 2003 was:

Options :

1. ✘ 61,150
2. ✘ 61,252
3. ✔ 61,250
4. ✘ 61,260

Question Number : 69 Question Id : 260269769 Display Question Number : Yes Single Line Question Option : No Option Orientation : Vertical

अलास्का में वर्ष 2000 में जनसंख्या 50,000 थी। इसके बाद पहले, दूसरे और तीसरे वर्ष में इसमें क्रमशः 25% की वृद्धि, 30% की कमी और 40% की वृद्धि हुई थी। वर्ष 2003 के अंत में जनसंख्या थी:

Options :

1. ✘ 61,150
2. ✘ 61,252
3. ✔ 61,250
4. ✘ 61,260

Question Number : 70 Question Id : 260269770 Display Question Number : Yes Single Line Question Option : No Option Orientation : Vertical

ABC is a right angled triangle with $AB = x$, $BC = x + 1$ and $CA = 5$. If 5 is the hypotenuse, then the area of the triangle ABC = _____ .

Options :

1. ✘ 4
2. ✘ 5

3. ✓ 6

4. ✗ 8

Question Number : 70 Question Id : 260269770 Display Question Number : Yes Single Line Question Option : No Option
Orientation : Vertical

ABC एक समकोण त्रिभुज है जिसमें $AB = x$, $BC = x + 1$ और $CA = 5$ है। यदि 5 कर्ण का माप है, तो त्रिभुज ABC का क्षेत्रफल _____ है।

Options :

1. ✗ 4

2. ✗ 5

3. ✓ 6

4. ✗ 8

Question Number : 71 Question Id : 260269771 Display Question Number : Yes Single Line Question Option : No Option
Orientation : Vertical

$A : B = 2 : 3$, $B : C = 4 : 5$ and $C : D = 6 : 7$. If a sum of ₹ 8,400 is divided among A, B, C and D in the above ratios, then A's share is:

Options :

1. ✗ ₹ 1,240

2. ✗ ₹ 1,260

3. ✗ ₹ 1,250

4. ✓ ₹ 1,280

Question Number : 71 Question Id : 260269771 Display Question Number : Yes Single Line Question Option : No Option
Orientation : Vertical

$A : B = 2 : 3$, $B : C = 4 : 5$ और $C : D = 6 : 7$ है। यदि ₹ 8,400 की धनराशि को A, B, C और D के बीच उपरोक्त अनुपातों में बाँटा जाता है, तो A का भाग है:

Options :

1. ✗ ₹ 1,240

2. ✗ ₹ 1,260

3. ✗ ₹ 1,250

4. ✓ ₹ 1,280

Question Number : 72 Question Id : 260269772 Display Question Number : Yes Single Line Question Option : No Option Orientation : Vertical

Two cities A and B are 72 km apart. X and Y cover this distance at 17 kmph and 19 kmph respectively. If Y reaches city B first and while on his way back he meets X at point C, then the distance from B to C is:

Options :

1. ✓ 4 km
2. ✗ 4.5 km
3. ✗ 4.6 km
4. ✗ 4.7 km

Question Number : 72 Question Id : 260269772 Display Question Number : Yes Single Line Question Option : No Option Orientation : Vertical

दो शहर A और B एक दूसरे से 72 किमी की दूरी पर स्थित हैं। X और Y इस दूरी को क्रमशः 17 किमी/घंटे और 19 किमी/घंटे की गति से तय करते हैं। यदि Y शहर B पहले पहुँचता है और लौटते समय X को बिंदु C पर मिलता है, तो B से C के बीच दूरी है:

Options :

1. ✓ 4 किमी
2. ✗ 4.5 किमी
3. ✗ 4.6 किमी
4. ✗ 4.7 किमी

Question Number : 73 Question Id : 260269773 Display Question Number : Yes Single Line Question Option : No Option Orientation : Vertical

3 men and 4 women can complete a task in 2 and 6 days respectively. 8 men and 8 women could complete the same task in _____ days.

Options :

1. ✗ 3/8
2. ✓ 3/5
3. ✗ 1/5
4. ✗ 2/5

Question Number : 73 Question Id : 260269773 Display Question Number : Yes Single Line Question Option : No Option Orientation : Vertical

3 पुरुष और 4 महिलाएँ एक काम को क्रमशः 2 और 6 दिनों में पूरा कर सकते हैं। 8 पुरुष और 8 महिलाएँ इसी काम को _____ दिनों में पूरा करेंगे।

Options :

1. ✘ 3/8

2. ✔ 3/5

3. ✘ 1/5

4. ✘ 2/5

Question Number : 74 Question Id : 260269774 Display Question Number : Yes Single Line Question Option : No Option Orientation : Vertical

A container has 80 litres of solution of acid and water in which acid is 45%. The required quantity (in litres) of acid needed to mix with the solution to have 75% acid is:

Options :

1. ✘ 95

2. ✘ 94

3. ✔ 96

4. ✘ 93

Question Number : 74 Question Id : 260269774 Display Question Number : Yes Single Line Question Option : No Option Orientation : Vertical

एक पात्र में एसिड और पानी का 80 लीटर घोल है, जिसमें 45% एसिड है। 75% एसिड वाला घोल बनाने के लिए इसमें कितना एसिड (लीटर में) और मिलाया जाना चाहिए?

Options :

1. ✘ 95

2. ✘ 94

3. ✔ 96

4. ✘ 93

Question Number : 75 Question Id : 260269775 Display Question Number : Yes Single Line Question Option : No Option Orientation : Vertical

X sells an article to Y at 10% loss. Y sells the same article for ₹ 54,000 and gain 20%. The cost price of the article is:

Options :

1. ✘ ₹ 55,000
2. ✔ ₹ 50,000
3. ✘ ₹ 50,500
4. ✘ ₹ 50,050

Question Number : 75 Question Id : 260269775 Display Question Number : Yes Single Line Question Option : No Option Orientation : Vertical

X, Y को एक वस्तु 10% की हानि पर बेचता है। Y उसी वस्तु को ₹ 54,000 में बेचकर 20% का लाभ अर्जित करता है। वस्तु का लागत मूल्य क्या था?

Options :

1. ✘ ₹ 55,000
2. ✔ ₹ 50,000
3. ✘ ₹ 50,500
4. ✘ ₹ 50,050

Question Number : 76 Question Id : 260269776 Display Question Number : Yes Single Line Question Option : No Option Orientation : Vertical

A constant force of 5.0 N is applied for 12 seconds to a 15 kg object initially at rest. The final speed of the object will be:

Options :

1. ✘ 2.0 m s^{-1}
2. ✘ 3.0 m s^{-1}
3. ✔ 4.0 m s^{-1}
4. ✘ 6.0 m s^{-1}

Question Number : 76 Question Id : 260269776 Display Question Number : Yes Single Line Question Option : No Option Orientation : Vertical

15 किलोग्राम की एक वस्तु जो प्रारंभ में स्थिर अवस्था में है, पर 12 सेकंड तक 5.0 न्यूटन का नियत बल लगाया जाता है। वस्तु की अंतिम गति होगी:

Options :

1. ✘ 2.0 मीटर सेकंड⁻¹
2. ✘ 3.0 मीटर सेकंड⁻¹
3. ✔ 4.0 मीटर सेकंड⁻¹
4. ✘ 6.0 मीटर सेकंड⁻¹

Question Number : 77 Question Id : 260269777 Display Question Number : Yes Single Line Question Option : No Option Orientation : Vertical

A car weighing 800 kg and moving with the speed of 15 m/s bumps into a stationary car weighing 1,200 kg. The two cars couple together. The velocity of the cars just after the collision, ignoring the energy loss in the collision, is:

Options :

1. ✘ 2.0 m/s
2. ✘ 4.0 m/s
3. ✔ 6.0 m/s
4. ✘ 8.0 m/s

Question Number : 77 Question Id : 260269777 Display Question Number : Yes Single Line Question Option : No Option Orientation : Vertical

15 मीटर/सेकंड की गति से चलती हुई 800 किलोग्राम वजन की एक कार 1,200 किलोग्राम वजन की एक स्थिर कार से टकराती है। दोनों कार एक-दूसरे में गुंथ जाती हैं। भिडंत में हुई ऊर्जा हानि को अनदेखा करें तो टक्कर के बाद कारों का वेग होगा:

Options :

1. ✘ 2.0 मीटर/सेकंड
2. ✘ 4.0 मीटर/सेकंड
3. ✔ 6.0 मीटर/सेकंड
4. ✘ 8.0 मीटर/सेकंड

Question Number : 78 Question Id : 260269778 Display Question Number : Yes Single Line Question Option : No Option Orientation : Vertical

A 0.1 kg ball drops from a height of 4.0 m. After striking the surface, it rebounds to 3.0 m. The energy lost by the ball during impact is (take $g = 10 \text{ m/s}^2$):

Options :

1. ✘ 0.4 J
2. ✔ 1.0 J
3. ✘ 1.2 J
4. ✘ 20 J

Question Number : 78 Question Id : 260269778 Display Question Number : Yes Single Line Question Option : No Option Orientation : Vertical

0.1 किलोग्राम की एक गेंद 4.0 मीटर की ऊंचाई से गिरती है। सतह से टकराने के बाद यह 3.0 मीटर उछलती है। टक्कर के दौरान गेंद द्वारा हुई ऊर्जा हानि होगी ($g = 10 \text{ मीटर/सेकंड}^2$):

Options :

1. ✘ 0.4 जूल
2. ✔ 1.0 जूल
3. ✘ 1.2 जूल
4. ✘ 20 जूल

Question Number : 79 Question Id : 260269779 Display Question Number : Yes Single Line Question Option : No Option Orientation : Vertical

A car weighing 1,000 kg accelerates from 0 m/s to 30 m/s in 10.0 seconds. The power delivered by the engine is:

Options :

1. ✘ 25 kW
2. ✔ 45 kW
3. ✘ 52 kW
4. ✘ 64 kW

Question Number : 79 Question Id : 260269779 Display Question Number : Yes Single Line Question Option : No Option Orientation : Vertical

1,000 किलोग्राम भार की एक कार 10.0 सेकंड में 0 मीटर/सेकंड से 30 मीटर/सेकंड की गतिवृद्धि करती है। इंजन द्वारा दी जाने वाली शक्ति है:

Options :

1. ✘ 25 किलोवाट
2. ✔ 45 किलोवाट
3. ✘ 52 किलोवाट
4. ✘ 64 किलोवाट

Question Number : 80 Question Id : 260269780 Display Question Number : Yes Single Line Question Option : No Option Orientation : Vertical

The mass of a planet is $1/21n$ the mass of the Earth and its radius is $1/n$ the radius of the Earth. If the acceleration due to gravity at the planet is $1/7$ that on the Earth, the value of n is:

Options :

1. ✘ 1
2. ✘ 2
3. ✔ 3
4. ✘ 4

Question Number : 80 Question Id : 260269780 Display Question Number : Yes Single Line Question Option : No Option Orientation : Vertical


एक ग्रह का द्रव्यमान पृथ्वी के द्रव्यमान का $1/21n$ और इसकी त्रिज्या पृथ्वी की त्रिज्या की $1/n$ है। यदि गुरुत्वाकर्षण के कारण ग्रह पर त्वरण, पृथ्वी का $1/7$ हो तो n का मान होगा:

Options :

1. ✘ 1
2. ✘ 2
3. ✔ 3
4. ✘ 4

Question Number : 81 Question Id : 260269781 Display Question Number : Yes Single Line Question Option : No Option Orientation : Vertical

Complete the following equation.



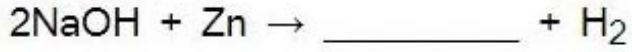
Options :

1. ✘ Na_2O

2. ✓ Na_2ZnO_2 3. ✗ ZnO 4. ✗ Zn(OH)_2

Question Number : 81 Question Id : 260269781 Display Question Number : Yes Single Line Question Option : No Option Orientation : Vertical

निम्नलिखित समीकरण को पूरा कीजिए।



Options :

1. ✗ Na_2O 2. ✓ Na_2ZnO_2 3. ✗ ZnO 4. ✗ Zn(OH)_2

Question Number : 82 Question Id : 260269782 Display Question Number : Yes Single Line Question Option : No Option Orientation : Vertical

Which pH value among the following indicates the strongest acidic character?

Options :

1. ✓ 2

2. ✗ 5

3. ✗ 8

4. ✗ 6.5

Question Number : 82 Question Id : 260269782 Display Question Number : Yes Single Line Question Option : No Option Orientation : Vertical

निम्नलिखित में से कौन-सा pH मान प्रबलतम अम्लीय गुण दर्शाता है?

Options :

1. ✓ 2

2. ✗ 5

3. ✘ 8

4. ✘ 6.5

Question Number : 83 Question Id : 260269783 Display Question Number : Yes Single Line Question Option : No Option Orientation : Vertical

Which one of the following metals is the most reactive compared to others?

(The descending position of metals in the activity series is: magnesium, aluminum, zinc and iron.)

Options :

1. ✘ Zinc

2. ✘ Aluminum

3. ✔ Magnesium

4. ✘ Iron

Question Number : 83 Question Id : 260269783 Display Question Number : Yes Single Line Question Option : No Option Orientation : Vertical

निम्नलिखित में से कौन-सी धातु अन्य की तुलना में सर्वाधिक क्रियाशील है?

(सक्रियता श्रृंखला में धातुओं का अवरोही क्रम इस प्रकार है - मैग्नीशियम, एल्युमिनियम, जिंक और लोहा)

Options :

1. ✘ जिंक

2. ✘ एल्युमिनियम

3. ✔ मैग्नीशियम

4. ✘ लोहा

Question Number : 84 Question Id : 260269784 Display Question Number : Yes Single Line Question Option : No Option Orientation : Vertical

Which one of the following metals can displace sodium from its salts?

(The descending position of metals in the activity series is: potassium, calcium, magnesium and aluminium.)

Options :

1. ✘ Aluminium

2. ✘ Calcium

3. ✘ Magnesium

4. ✔ Potassium

Question Number : 84 Question Id : 260269784 Display Question Number : Yes Single Line Question Option : No Option Orientation : Vertical

निम्नलिखित में से कौन-सी धातु अपने लवण से सोडियम को विस्थापित कर सकती है?

(सक्रियता श्रृंखला में धातुओं का अवरोही क्रम इस प्रकार है - पोटैशियम, कैल्शियम, मैग्नीशियम और एल्युमिनियम)

Options :

1. ✘ एल्युमिनियम

2. ✘ कैल्शियम

3. ✘ मैग्नीशियम

4. ✔ पोटैशियम

Question Number : 85 Question Id : 260269785 Display Question Number : Yes Single Line Question Option : No Option Orientation : Vertical

What is total number of molecules present in 63 grams of Nitric acid?

Options :

1. ✘ 3.015×10^{23}

2. ✔ 6.023×10^{23}

3. ✘ 6.023×10^{22}

4. ✘ 6.023×10^{21}

Question Number : 85 Question Id : 260269785 Display Question Number : Yes Single Line Question Option : No Option Orientation : Vertical

63 ग्राम नाइट्रिक अम्ल में उपस्थित कुल अणुओं की संख्या कितनी होगी?

Options :

1. ✘ 3.015×10^{23}

2. ✔ 6.023×10^{23}

3. ✘ 6.023×10^{22}

4. ✘ 6.023×10^{21}

Question Number : 86 Question Id : 260269786 Display Question Number : Yes Single Line Question Option : No Option Orientation : Vertical

Which famous Indian Artist painted "The Group of Three Girls" in 1935?

Options :

1. ✘ M F Hussain

2. ✘ Rabindranath Tagore

3. ✘ Raja Ravi Varma

4. ✔ Amrita Sher-Gil

Question Number : 86 Question Id : 260269786 Display Question Number : Yes Single Line Question Option : No Option Orientation : Vertical

वर्ष 1935 में किस प्रसिद्ध भारतीय चित्रकार ने कैनवास पर "तीन लड़कियों का समूह" उकेरा था?

Options :

1. ✘ एम एफ हुसैन

2. ✘ रबिन्द्रनाथ टैगौर

3. ✘ राजा रवि वर्मा

4. ✔ अमृता शेर-गिल

Question Number : 87 Question Id : 260269787 Display Question Number : Yes Single Line Question Option : No Option Orientation : Vertical

Out of the 657 Buddhist manuscripts taken from India, approximately how many did Hiuen Tsang translate to Chinese on his return to China and in his lifetime?

Options :

1. ✘ 657

2. ✔ 74

3. ✘ 600

4. ✘ 650

Question Number : 87 Question Id : 260269787 Display Question Number : Yes Single Line Question Option : No Option Orientation : Vertical

ह्वेन त्सांग ने चीन में लौटने पर और अपने पूरे जीवनकाल में, भारत से लाई गयी 657 बौद्ध पांडुलिपियों में से कितनों को चीनी भाषा में अनुवाद किया था?

Options :

1. ✘ 657

2. ✔ 74

3. ✘ 600

4. ✘ 650

Question Number : 88 Question Id : 260269788 Display Question Number : Yes Single Line Question Option : No Option Orientation : Vertical

Using waterways, India is connected with Europe mainly through:

Options :

1. ✘ Bering Strait

2. ✘ Panama Canal

3. ✔ Suez Canal

4. ✘ Malaccan Strait

Question Number : 88 Question Id : 260269788 Display Question Number : Yes Single Line Question Option : No Option Orientation : Vertical

जलमार्ग का उपयोग करते हुए भारत यूरोप के साथ किसके माध्यम से जुड़ा हुआ है?

Options :

1. ✘ बेरिंग जलडमरू मध्य

2. ✘ पनामा नहर

3. ✔ स्वेज़ नहर

4. ✘ मलक्का जलडमरू मध्य

Question Number : 89 Question Id : 260269789 Display Question Number : Yes Single Line Question Option : No Option Orientation : Vertical

What is the full form of the term GST in the Indian economy context?

Options :

1. ✘ Greater Stocks Tax
2. ✘ Government Spending Tax
3. ✘ General Service Tax
4. ✔ Goods and Services Tax

Question Number : 89 Question Id : 260269789 Display Question Number : Yes Single Line Question Option : No Option Orientation : Vertical

भारतीय आर्थिक शब्दावली में जीएसटी का पूर्ण रूप क्या है?

Options :

1. ✘ ग्रेटर स्टॉक टैक्स
2. ✘ गवर्नमेंट स्पेंडिंग टैक्स
3. ✘ जनरल सर्विस टैक्स
4. ✔ गुड्स एंड सर्विसेज़ टैक्स

Question Number : 90 Question Id : 260269790 Display Question Number : Yes Single Line Question Option : No Option Orientation : Vertical

The council of Ministers of the National Capital Territory of Delhi shall consist of not more than:

Options :

1. ✘ 10 Members
2. ✘ 20 Members
3. ✔ 10% of total number of members of legislative assembly
4. ✘ 20% of total number of members of legislative assembly

Question Number : 90 Question Id : 260269790 Display Question Number : Yes Single Line Question Option : No Option Orientation : Vertical

राष्ट्रीय राजधानी क्षेत्र दिल्ली की मंत्रिपरिषद में इतने से ज्यादा सदस्य नहीं हो सकते हैं:

Options :

1. ✘ 10 सदस्य
2. ✘ 20 सदस्य
3. ✔ विधान सभा में सदस्यों की संख्या का 10%
4. ✘ विधान सभा में सदस्यों की संख्या का 20%

Question Number : 91 Question Id : 260269791 Display Question Number : Yes Single Line Question Option : No Option Orientation : Vertical

The term 'white revolution' in Indian context is related to:

Options :

1. ✔ Milk production
2. ✘ Cotton production
3. ✘ Rice production
4. ✘ Wool production

Question Number : 91 Question Id : 260269791 Display Question Number : Yes Single Line Question Option : No Option Orientation : Vertical

भारतीय संदर्भ में 'श्वेत क्रांति' शब्द किससे संबंधित है?

Options :

1. ✔ दूध उत्पादन
2. ✘ कपास उत्पादन
3. ✘ चावल उत्पादन
4. ✘ ऊन उत्पादन

Question Number : 92 Question Id : 260269792 Display Question Number : Yes Single Line Question Option : No Option Orientation : Vertical

SK Telecom of Korea tied up with which company for advanced telecom network in India?

Options :

1. ✘ Idea Cellular

2. ✓ Bharti Airtel

3. ✗ Reliance

4. ✗ BSNL

Question Number : 92 Question Id : 260269792 Display Question Number : Yes Single Line Question Option : No Option Orientation : Vertical

कोरिया के एसके टेलीकॉम ने भारत में उन्नत दूरसंचार नेटवर्क के लिए किस कंपनी के साथ समझौता किया है?

Options :

1. ✗ आइडिया सेल्युलर

2. ✓ भारती एयरटेल

3. ✗ रिलायंस

4. ✗ बीएसएनएल

Question Number : 93 Question Id : 260269793 Display Question Number : Yes Single Line Question Option : No Option Orientation : Vertical

The "i1 Super Series" is proposed for which sporting event in India?

Options :

1. ✓ Motorsports

2. ✗ Boxing

3. ✗ Football

4. ✗ Athletics

Question Number : 93 Question Id : 260269793 Display Question Number : Yes Single Line Question Option : No Option Orientation : Vertical

भारत में किस खेल स्पर्धा के लिए "आई 1 सुपर सीरीज़" प्रस्तावित की गयी है?

Options :

1. ✓ मोटरस्पोर्ट्स

2. ✗ मुक्केबाज़ी

3. ✘ फुटबॉल

4. ✘ एथलेटिक्स

Question Number : 94 Question Id : 260269794 Display Question Number : Yes Single Line Question Option : No Option Orientation : Vertical

Which survey releases the first compendium of animal species in Indian Sundarbans?

Options :

1. ✘ Biological survey of India

2. ✔ Zoological survey of India

3. ✘ Life science survey of India

4. ✘ Species survey of India

Question Number : 94 Question Id : 260269794 Display Question Number : Yes Single Line Question Option : No Option Orientation : Vertical

भारत के किस सर्वेक्षण में भारतीय सुंदरवन की पशु प्रजातियों का पहला संग्रह जारी किया गया है?

Options :

1. ✘ भारतीय जैविक सर्वेक्षण

2. ✔ भारतीय प्राणी विज्ञान सर्वेक्षण

3. ✘ भारतीय जीवन विज्ञान सर्वेक्षण

4. ✘ भारतीय प्रजाति सर्वेक्षण

Question Number : 95 Question Id : 260269795 Display Question Number : Yes Single Line Question Option : No Option Orientation : Vertical

Name the country that launched the first satellite 'Sputnik' into space.

Options :

1. ✔ Soviet Union

2. ✘ USA

3. ✘ Australia

4. ✘ Germany

Question Number : 95 Question Id : 260269795 Display Question Number : Yes Single Line Question Option : No Option Orientation : Vertical

उस देश का नाम बताएं, जिसने अंतरिक्ष में पहला उपग्रह "स्पुतनिक" प्रक्षेपित किया था।

Options :

1. ✔ सोवियत संघ
2. ✘ यूएसए (अमेरिका)
3. ✘ ऑस्ट्रेलिया
4. ✘ जर्मनी

Question Number : 96 Question Id : 260269796 Display Question Number : Yes Single Line Question Option : No Option Orientation : Vertical

In a certain code language, TELEVISION is coded as NOISIVELET. How is ELECTRICIAN coded in that language?

Options :

1. ✘ NIARCITCELE
2. ✘ NAICRITCELE
3. ✘ NIACIRTCELE
4. ✔ NAICIRTCELE

Question Number : 96 Question Id : 260269796 Display Question Number : Yes Single Line Question Option : No Option Orientation : Vertical

एक निश्चित कूट भाषा में TELEVISION को NOISIVELET लिखा जाता है। उसी कूट भाषा में ELECTRICIAN को किस प्रकार लिखा जाएगा?

Options :

1. ✘ NIARCITCELE
2. ✘ NAICRITCELE
3. ✘ NIACIRTCELE

4. ✓ NAICIRTCELE

Question Number : 97 Question Id : 260269797 Display Question Number : Yes Single Line Question Option : No Option Orientation : Vertical

Complete the analogy.

30 : 121 :: ?

Options :

1. ✗ 36 : 125

2. ✓ 12 : 49

3. ✗ 42 : 225

4. ✗ 16 : 81

Question Number : 97 Question Id : 260269797 Display Question Number : Yes Single Line Question Option : No Option Orientation : Vertical

सादृश्य को पूरा करें।

30 : 121 :: ?

Options :

1. ✗ 36 : 125

2. ✓ 12 : 49

3. ✗ 42 : 225

4. ✗ 16 : 81

Question Number : 98 Question Id : 260269798 Display Question Number : Yes Single Line Question Option : No Option Orientation : Vertical

Select the letter/set of letters that completes the first word and begins the second.

CLIMA () RROR

Options :

1. ✗ X

2. ✗ ET

3. ✓ TE

4. ✘ ER

Question Number : 98 Question Id : 260269798 Display Question Number : Yes Single Line Question Option : No Option Orientation : Vertical

उस अक्षर/अक्षर-युग्म का चयन करें जो पहले शब्द को पूरा करता हो और दूसरे शब्द का आरम्भ करता हो।

CLIMA () RROR

Options :

1. ✘ X

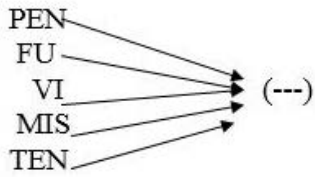
2. ✘ ET

3. ✔ TE

4. ✘ ER

Question Number : 99 Question Id : 260269799 Display Question Number : Yes Single Line Question Option : No Option Orientation : Vertical

Select the set of letters that, when added as a suffix to the set of letters given in the image, form a meaningful English word.



Options :

1. ✔ SION

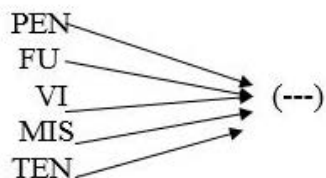
2. ✘ STEN

3. ✘ TANE

4. ✘ SON

Question Number : 99 Question Id : 260269799 Display Question Number : Yes Single Line Question Option : No Option Orientation : Vertical

अक्षरों के उस सेट का चयन करें जिसे चित्र के अक्षर/अक्षर-समूहों के साथ प्रत्यय के रूप में जोड़े जाने पर एक अर्थपूर्ण अंग्रेज़ी शब्द बने।



Options :

1. ✓ SION
2. ✗ STEN
3. ✗ TANE
4. ✗ SON

Question Number : 100 Question Id : 260269800 Display Question Number : Yes Single Line Question Option : No Option Orientation : Vertical

Select the number that would complete the series given below.

6, 14, 45, 184, _____

Options :

1. ✗ 248
2. ✗ 368
3. ✗ 952
4. ✓ 925

Question Number : 100 Question Id : 260269800 Display Question Number : Yes Single Line Question Option : No Option Orientation : Vertical

उस संख्या का चयन करें जो नीचे दी गई श्रृंखला को पूर्ण करेगी:

6, 14, 45, 184, _____

Options :

1. ✗ 248
2. ✗ 368
3. ✗ 952
4. ✓ 925